

இலங்கைத் திறந்த பல்கலைக்கழகம்
சட்டமாணிப் பட்டப் படிப்புத் திட்டம் - 2002
தேர்வுப் பரீட்சை
பகுதி I - பொது நுண்ணறிவு
காலம்: 01 மணித்தியாலம்



திகதி: 02 ஜூன் 2002

நேரம் மு.ப 10.00 - 11.00 வரை

பரீட்சார்த்திகளுக்கான அறிவுறுத்தல்கள்:

- பரீட்சை மேற்பார்வையாளரால் வினாப்பத்திரத்தினைக் திறக்குமாறு கூறும்வரை திறக்க வேண்டாம்.
- மேற்பார்வையாளரால் எழுதுவதை நிறுத்தும்படி கூறும் போது எழுதுவதை நிறுத்தவும்.
- இப்பரீட்சைக்கு கல்கியூலேட்டர்கள் மற்றும் ஏனைய அத்தகைய உபகரணங்கள் பாவிக்கப்படுவது கடுமையாகத் தடுக்கப்பட்டுள்ளது.

எவ்வாறு இவ்வினாத்தாளுக்கு விடையளிப்பது?

- உமது சுட்டெண்ணை விடைத்தாளில் வழங்கப்பட்டுள்ள இடைவெளியில் எழுதுக.
- நாற்பது வினாக்களுக்கும் விடையளிக்க. அனைத்து விடைகளும் விடைத்தாளில் குறிப்பிடப்பட வேண்டும்.
- தரப்பட்டுள்ள விடைகளில் இருந்து மிகவும் பொருத்தமான விடையினைத் தேர்ந்தெடுத்து உமது விடைத்தாளில் உள்ள இலக்கத்தின் மீது ஒரு புள்ளடியினை இடவும்.

(a) (b) (c) (d)

- நீர் புள்ளடியிட்ட ஒரு விடையினை அழிக்க விரும்பினால் தெளிவாக அழிக்க வேண்டும்.
- ஒரு வினாவுக்கு ஒரு புள்ளடியை விட அதிகமாக இட்டால் அவ்வினாவுக்கு ஒரு புள்ளியையும் பெறமாட்டீர்.
- விடைத்தாள் மற்றும் வினாத்தாள் இரண்டும் மேற்பார்வையாளருக்கு ஒப்படைக்கப்பட வேண்டும்.
- இந்த அறிவுறுத்தல்களை பின்பற்றாத பரீட்சார்த்திகள் தகவீனப்படுத்தப்படுவார்கள்.

இவ்வினாப்பத்திரத்திற்கு நாற்பது புள்ளிகள் வழங்கப்படும்
நாற்பது வினாக்களுக்கும் விடை தருக.

1 - 4 வரையிலான வினாக்கள்

ஒரு காரியாலயத்தில் பின்வரும் கணனிகளுக்கிடையே இரு வழி ஈ மெயில் எச்சரிக்கை முறை ஒன்று இருக்கின்றது.

- A உம் B உம், A உம் C உம், C உம் E உம், E உம் G உம், E உம் H உம், G உம் D உம், அத்துடன் D உம் F உம்
- அத்துடன் அங்கு D க்கும் B க்கும் இடையில் ஒரு வழி ஈ மெயில் எச்சரிக்கை முறைமையொன்றும் இருந்தது. ஆதாவது, D இலிருந்து B க்கு நெறிவுறுத்தலை அனுப்புகின்ற சாத்தியம் மட்டும் இருந்தது.
- கணனிகளைத் தவிர, இந்த வழிகள் வேறு எவ்விடத்திலேனும் ஒன்றையொன்று மறிப்பதில்லை.
- காரியாலயத்தில் வேறு எந்த கணனிகளோ அல்லது வழிகளோ இல்லை.
- ஈ மெயில்கள் கணனிகளுக்கிடையே எடுத்துச் செல்வதற்காக அமைக்கப்பட்ட நெறிவுறுத்தல்களை பின்பற்ற வேண்டும்.

01. F இலிருந்து B க்கு ஒரு ஈ மெயில் அனுப்புவதற்கு, அந்த ஈ மெயில் கட்டாயமாக பயணம் செய்ய வேண்டிய கணனி,

- (a) A (b) B (c) C (d) D

02. C க்கும் E க்கும் இடையிலான வழி செயலிழக்கின்றது. A இலிருந்து H க்கு தகவல் ஒன்று அனுப்பப்பட வேண்டியுள்ளது. A மற்றும் H தவிர வேறு எத்தனை கணனிகள் ஊடாக இத்தகவல்கள் போக வேண்டியிருக்கும்?

- (a) 4 (b) 3 (c) 2 (d) 1

03. D க்கும் E க்கும் இடையிலான வழி செயல் இழக்கின்றது. அப்படியானால்,

- (a) B இலிருந்து F க்கு
 (b) D இலிருந்து G க்கு
 (c) D இலிருந்து F க்கு
 (d) E இலிருந்து A க்கு

ஈ மெயில் ஒன்று அனுப்ப முடியாது.

04. E இலிருந்து G க்கு ஒரு ஈ மெயில் செல்வதற்கு மட்டும் சாத்தியம் உண்டென ஊகித்துக் கொள்வோம். ஆனால் G இலிருந்து E க்கு அல்ல. ஆயினும் ஈ மெயில் ஒன்று D இலிருந்து எதற்கு செல்வதற்கு சாத்தியமாக இருக்கும்?

- (a) B, F மற்றும்/அல்லது G, ஆனால் A,C,E அல்லது H க்கு அல்ல
- (b) A,B,C மற்றும்/அல்லது G, ஆனால் F,E அல்லது H க்கு அல்ல.
- (c) A,C,E,F மற்றும்/அல்லது G, ஆனால் B அல்லது H க்கு அல்ல
- (d) A,B,C,E,F,G மற்றும்/அல்லது H

05. தொடக்கம் 7 வரையிலான வினாக்கள்

மனையாள் ஒருத்தி, ஒரு விசேட பழக்க கலவை ஒன்றினை தயார் செய்கின்றாள். அவள் பின்வரும் பழங்களில் சாத்தியமான 6 பழங்களை தெரிவு செய்ய வேண்டும். ஆப்பிள்கள், திராட்சைப் பழங்கள், தோடம்பழங்கள், செரிப்பழங்கள், ஸ்ரோபெரிப் பழங்கள் மற்றும் வாழைப்பழங்கள் அத்துடன் பின்வரும் தகவலும் பொருத்தமானதாகும்.

- தோடம்பழம் பழக்கலவையில் இருக்குமானால், திராட்சைப் பழங்களும் வாழைப்பழங்களும் கலவையினுள் இருக்க முடியாது.
- ஒன்றில் ஆப்பிள்கள் அல்லது வாழைப்பழங்கள் கலவைக்குள் இருக்க முடியும்.
- கலவைக்குள் ஸ்ரோபெரிப் பழங்கள் இல்லாவிட்டால் அத்துடன் வாழைப்பழங்களும் கலவைக்குள் இருக்க முடியாது.
- திராட்சைப் பழங்கள் மற்றும் செரிப் பழங்கள் இரண்டும் கலவைக்குள் இருக்க முடியாது.

05. கலவைக்குள் வாழைப்பழங்கள் இருந்தால் பின்வருவனவற்றுள் எது உண்மையானதாக இருக்க முடியும்?

- (a) பழக்கலவைக்குள் திராட்சைப் பழங்கள் இருக்கின்றன.
- (b) பழக்கலவைக்குள் தோடம்பழங்கள் இருக்கின்றன.
- (c) பழக்கலவைக்குள் செரிப்பழங்கள் இருக்கின்றன.
- (d) பழக்கலவைக்குள் ஸ்ரோபெரிப் பழங்கள் இருக்கின்றன.

06. ஆப்பிள் பழங்கள் பழக்கலவைக்குள் இல்லாத போதும் செரிப்பழங்கள் பழக்கலவைக்குள் இருக்கின்ற போது பின்வருவனவற்றுள் எது உண்மையாக இருக்க முடியும்?

- (a) பழக்கலவைக்குள் தோடம்பழங்கள் இருக்கின்றன.
- (b) பழக்கலவைக்குள் தோடம்பழங்கள் இல்லை
- (c) பழக்கலவைக்குள் ஸ்ரோபெரிப் பழங்கள் இல்லை.
- (d) பழக்கலவைக்குள் வாழைப்பழங்கள் இல்லை.

07. பின்வரும் கூற்றுக்கள் உண்மையானவை எனத் தெரிந்தால் அக்கூற்றுக்களுள் எக்கூற்று வேறு ஏதேனும் பழம் பழக்கலவைக்குள் இருக்குமா இல்லையா என தீர்மானிக்கக் காரணமாக இருக்காது?

- (a) திராட்சைப் பழங்கள் பழக்கலவைக்குள் இருக்க வேண்டும்.
- (b) தோடம்பழங்கள் பழக்கலவைக்குள் இருக்க வேண்டும்.
- (c) செரிப்பழங்கள் பழக்கலவைக்குள் இருக்க வேண்டும்.
- (d) திராட்சைப் பழங்கள் பழக்கலவைக்குள் இருக்க முடியாது.

08. தொடக்கம் 11 வரையிலான வினாக்கள்

ஒரு மாணவ பல்கலைக்கழகம் ஒன்றில் 6 பாடநெறிகளைக் கற்கின்றான். புவியியல், சரித்திரம், பத்திரிகை எழுத்துதல், தர்க்க சாஸ்திரம், மொழி மற்றும் கணிதம். அவள் ஒவ்வொரு பாடங்களுக்கும் வேறுபட்ட தரங்களைப் பெற்றாள். அவள் பெறக்கூடிய அதி கூடிய தரத்தில் இருந்து குறைவான தரங்களின் சாத்தியம் என்னவெனில், A,B,C,D,E மற்றும் F ஆகும். பின்வரும் தகவலும் கிடைக்கக் கூடியதாகவுள்ளது.

- அவளுடைய மொழிப்பாடத்திற்கான தரமானது புவியியல் பாடத்திற்கான தரத்தினை விட உயர்ந்ததாகும்.
- அவள் பத்திரிகை எழுத்துதலில் B என்ற தரத்தினை பெறுகின்றாள்
- தர்க்க சாஸ்திரத்தில் அவளுடைய தரமானது சரியாக அவளுடைய சரித்திர பாடத்திற்கான தரத்தினை விட ஒன்றில் ஒரு தரம் உயர்வாக அல்லது ஒரு தரம் குறைவாக இருக்கும்.

08. அவள் சரித்திர பாடத்தில் D தரத்தினை பெறுவாளாயின் அவள் மொழிப் பாடத்தில் பெற முடிந்த ஆகக் கூடிய தரம் பின்வருவனவற்றுள் எது?

- (a) A (b) B (c) C (d) F

09. அவள் கணித பாடத்தில் E தரத்தினை பெறுவாளாயின், அவள் புவியியல் பாடத்தில் பெறவேண்டிய தரம் பின்வருவனவற்றுள் எது?

- (a) A (b) B (c) C (d) F

10. அவள் தர்க்க சாஸ்திரத்தில் D தரத்தினை பெறுவாளாயின் அவள் புவியியலில் பெற முடிந்த ஆகக் குறைந்த தரம் பின்வருவனவற்றுள் எது?

- (a) A (b) B (c) C (d) E

11. பின்வரும் பாடநெறிகளில் எதில் A தரத்தினை அவளுக்கு பெற முடியாது? (a) புவியியல் (b) தர்க்க சாஸ்திரம் (c) மொழி (d) கணிதம்

12 தொடக்கம் 14 வரையிலான வினாக்கள்

பேராசிரியர் ஒருவர் ஆராய்ச்சி மகாநாடு ஒன்றுக்கு பின்வருவோர் அடங்கிய குழு ஒன்றில் இருந்து மாணவர்களைத் தெரிவு செய்து கொண்டிருக்கின்றார். ஜானக, கமலா, லால், மெனிக் நாமல், ஒஷான், மற்றும் பாலித்த பின்வரும் தகவல்கள் கிடைக்கக் கூடியதாகவுள்ளது. பின்வரும் நிபந்தனைகளுக்கு அமைய எந்தவொரு இணைப்பும் ஏற்றுக் கொள்ளக் கூடியதாகும்.

- ஜானக அழைக்கப்பட்டால், கமலா அழைக்கப்பட வேண்டும்.
- கமலா மற்றும் மெனிக் இருவரும் அழைக்கப்பட்டால் நாமல் அழைக்கப்பட முடியாது.
- மெனிக் மற்றும் லால் இருவரும் அழைக்கப்பட்டால் நாமல் அழைக்கப்பட முடியாது.
- லால் அழைக்கப்பட்டால் ஒஷான் அல்லது பாலித்த இருவரில் ஒருவர் தான் அழைக்கப்பட வேண்டும்.
- நாமல் அல்லது ஒஷான் அழைக்கப்பட முடியும். ஆனால், இருவரும் அழைக்கப்பட முடியாது.
- ஒஷான் மற்றும் பாலித்த இருவரையும் அழைக்க முடியாது.

12. பின்வருவனவற்றுள் அழைப்பதற்கு ஏற்றுக் கொள்ளக் கூடிய மாணவர்களின் குழு எது?

- (a) ஜானக, கமலா, மற்றும் பாலித்த
- (b) மெனிக், ஒஷான், மற்றும் பாலித்த
- (c) கமலா, நாமல் மற்றும் ஒஷான்
- (d) மெனிக், லால் மற்றும் ஒஷான்

13. லால் மற்றும் பாலித்த இருவரும் அழைக்கப்பட்டால், பின்வருவனவற்றுள் எது உண்மையானது?

- (a) மெனிக் அழைக்கப்பட வேண்டும்
- (b) ஒஷான் அழைக்கப்பட வேண்டும்
- (c) நாமல் அழைக்கப்பட வேண்டும்
- (d) ஜானக அழைக்கப்பட வேண்டும்

14. லால் மற்றும் நாமல் இருவரும் அழைக்கப்பட்டால் பின்வருவனவற்றுள் எது பொய்யானது?

- (a) பாலித்த அழைக்கப்பட்டான்
- (b) மெனிக் அழைக்கப்பட்டான்
- (c) ஜானக அழைக்கப்பட்டான்
- (d) ஒஷான் அழைக்கப்பட்டான்

15 தொடக்கம் 18 வரையிலான வினாக்கள்:

பாலர் பாடசாலை ஒன்றில் இரண்டு அறைகள் மீள வர்ணம் பூசப்படவுள்ளன. ஊதா, நீலம், பச்சை, மஞ்சள், செம்மஞ்சள், மற்றும் சிவப்பு ஆகிய 6 வர்ணங்கள் இருந்தன. அந்த அறைகள் மூன்று வேறுபட்ட நிறங்களைக் கொண்டு வர்ணம் பூசப்பட வேண்டும்.

- ஊதா மற்றும் மஞ்சள் ஒரே அறைக்கு பயன்படுத்தப்பட வேண்டும்.
- நீலம் மற்றும் செம்மஞ்சள் ஒரே அறைக்கு பயன்படுத்தப்பட முடியாது.
- ஒரே வகையிலான வர்ணக் கலவை கொண்டதாக இரு அறைகளும் இருக்க முடியாது.

15. பின்வருவனவற்றுள் ஒன்றைத் தவிர அனைத்தும் ஒரு அறைக்கான வர்ண இணைப்புக்களுக்கான சாத்தியங்களாகும். சாத்தியமற்ற இணைப்பு எது?

- (a) ஊதா, நீலம், சிவப்பு
- (b) ஊதா, பச்சை, மஞ்சள்
- (c) ஊதா, மஞ்சள், சிவப்பு
- (d) நீலம், பச்சை, சிவப்பு

16. ஊதா நிறத்தினை தெரிவு செய்த, ஒரு அறைக்காக பின்வருவனவற்றுள் எந்த நிறம் தெரிவு செய்யப்பட முடியும்?

- (a) நீலம் - பச்சை
- (b) நீலம் - செம்மஞ்சள்
- (c) நீலம் - சிவப்பு
- (d) பச்சை - மஞ்சள்

17. பின்வருவனவற்றுள் ஏற்றுக்கொள்ளப்படக் கூடிய இணைப்பு எது?

- | அறை 1 | அறை 2 |
|-------------------------------|------------------------------|
| (a) ஊதா - நீலம் - மஞ்சள் | ஊதா - மஞ்சள் - செம்மஞ்சள் |
| (b) ஊதா - பச்சை - சிவப்பு | பச்சை - மஞ்சள் - செம்மஞ்சள் |
| (c) ஊதா - மஞ்சள் - செம்மஞ்சள் | ஊதா - நீலம் - செம்மஞ்சள் |
| (d) நீலம் - பச்சை - சிவப்பு | நீலம் - செம்மஞ்சள் - சிவப்பு |

18. ஒரு அறைக்கு நீலம், பச்சை, மற்றும் சிவப்பு வர்ணம் பூசப்பட்டு இருப்பின் மற்றைய அறைக்கு பின்வருவனவற்றுள் எதனைத் தவிர வர்ணம் பூசப்பட முடியும்?

- (a) ஊதா - நீலம் - மஞ்சள்
- (b) ஊதா - பச்சை - மஞ்சள்,
- (c) ஊதா - மஞ்சள் - சிவப்பு
- (d) நீலம் - பச்சை - சிவப்பு

19 தொடக்கம் 30 வரையிலான வினாக்கள்

பெரிய எழுத்தில் உள்ள சொற்களுக்கு இடையேயான உறவு, முறையை சிறந்த முறையில் பிரதிபலிக்கின்ற விடையினைத் தெரிவு செய்க.

19. நோய் - மருத்துவர்
 (a) மருந்து - மருத்துவச்சாலை
 (b) உதவி - மகிழ்ச்சி
 (c) குற்றவாளி - குற்றம்
 (d) நெருப்பு - நீர்
20. தலை - தொப்பி
 (a) மயிர் - மண்டையோடு
 (b) உடம்பு - தோல்
 (c) பாதம் - சப்பாத்து
 (d) விரல் - மோதிரம்
21. மரம் - பட்டை
 (a) நீர் - குழாய்
 (b) செம்மறி ஆடு - கம்பளி
 (c) மின்சக்தி - மின்சாரம்
 (d) பாதுகாப்பு - வீடு
22. மண்வெட்டி - வெட்டுதல்
 (a) வாள் - மரம்
 (b) வயலின் - வாசித்தல்
 (c) தேர் - இழுத்தல்
 (d) பேனை - எழுதுதல்
23. புத்தகம் - கடதாசி
 (a) ஆபரணம் - பவுண்
 (b) மரம் - மேசை
 (c) மண் - மட்பாண்டம்
 (d) மை - பேனா
24. தலைவர் - இனம்
 (a) இராணுவ வீரன் - இராணுவம்
 (b) பங்காளி - திருமணம்
 (c) பாடகர் - இசைக்குழு
 (d) தலைவர் - குழு

25. கௌரவம் - நற்செயல்கள்
 (a) விபச்சாரம் - தண்டனை
 (b) பெறுபேறு - பரிட்சை
 (c) விதி - முன்னேற்றம்
 (d) மாறுபடல் - செறுக்கு
26. கிழமை நாள்
 (a) மாதம் - வருடம்
 (b) பத்து - தசமம்
 (c) பூச்சியம் - ஒன்று
 (d) பருந்து - சிறகு
27. குழந்தை - பிள்ளை
 (a) கிழவன் - இளைஞன்
 (b) தாய் - பிள்ளை
 (c) மரம் - பழம்
 (d) பிள்ளை - இளைஞன்
28. இருள் - விளக்கு
 (a) அறியாமை - புத்தகங்கள்
 (b) படித்தல் - கற்றல்
 (c) பாடசாலை - ஆசிரியர்
 (d) உணவு - விடுதியகம்
29. அபிவிருத்தி - திட்டம்
 (a) விடாமுயற்சி - முன்னேற்றம்
 (b) கட்டிடம் - அத்திவாரம்
 (c) பெரிய - தொகை
 (d) தேர்ச்சி - பயிற்சி
30. அடிமை - சுதந்திரம்
 (a) புள்ளிகள் - மகிழ்ச்சி
 (b) செல்வம் - பகிர்வு
 (c) மானம் - பாதுகாப்பு
 (d) வர்ணம் புகதல் - துடைத்தழித்தல்

31 - 40 வரையிலான வினாக்கள்

இடைவெளிகளை நிரப்புக.

31. $3, 15, 35, ?, 99, 143$
(a) 63 (b) 77 (c) 69 (d) 81
32. $1, 1, 8, ?, 27, 9, 64$
(a) 4 (b) 9 (c) 6 (d) 16
33. $13, 6, 4$
 $6, 8, 6$
 $1, 6, ?$
(a) 7 (b) 13 (c) 10 (d) 8
34. $90, 4, 28, 7, 21, 3, 18, ?$
(a) 8 (b) 6 (c) 21 (d) 15
35. $49, 81, ?, 169, 225$
(a) 113 (b) 116 (c) 119 (d) 121
36. $5, 9, 15, ?, 33, 45, 59$
(a) 24 (b) 22 (c) 20 (d) 23
37. $3, 8, ?, 24, 35, 48$
(a) 16 (b) 12 (c) 13 (d) 15
38. $69, 68, 64, ?, 39, 14$
(a) 56 (b) 54 (c) 52 (d) 55
39. $5000, 250, 250, ?, 2$
(a) 10 (b) 5 (c) 4 (d) 2.5
40. $3, 7, 15, ?, 63$
(a) 27 (b) 29 (c) 31 (d) 33

(பதிப்புரிமையுடையது)

Part III – English Language Paper

This paper is marked out of 50

Read the following passage and answer the questions given below.

1 Let us focus our attention on the importance of language rights. The interrelationship between language and identity has been explored extensively. Language functions as one of the primary means for creating personal and group identity (Edwards, 1986). Language also functions in society as the means for creating power relationships, and the control of this linguistic creative process offers the possibility for the manipulation and the **potential** of amassing power, either personal or collective.

2 From this perspective, language rights become highly important. First, **they** are part of human rights, and the erosion of one right endangers other rights. Second, they are an extension of intellectual purpose, for how we treat people is also how we treat ideas.

3 There is a general belief that the use of language by a section of the community is related to public administration and therefore should be addressed from a practical and cost concerned standpoint. However, sociologists and psychologists are of the view that the use of a particular language by a certain group of people is something **which** goes to the root of their very existence, the denial of which would lead to social calamities with psychological implications.

4 A human being finds identity in the group and fulfils **personal authenticity** through language (Edwards; 1986). Denying a person's language rights can have the effect of creating social situations in which that person questions his or her personal identity and feels **alienated** in family, ethnic and national identification.

5 Many nations do not recognize the language rights of minorities for various reasons. Language rights are not currently clear in many countries, including developed countries such as the USA. This ignoring of language rights seems tragic when we realize, as Deutch (1975) said, that **language is an automatic signaling** system second only to race in identifying targets for possible privilege or discrimination.

6 In this context, stressing language rights can enhance the 'quality of human life'. Language rights are part of human rights, and the eroding of one of these rights leads to the loss of **others**. We dare not ignore the human suffering that arises when persons are alienated from their personal and ethnic identity by language policies that do not safeguard individual language rights; we cannot **do so** without facing up to the

11

concomitant loss in or own 'quality of life' and the resultant loss each person faces by such loss, which leaves a less diversified and less colourful culture, less pluralistic and therefore, a more drab world.

(1) According to paragraph 1, what are the functions of language?

Expanding the social boundaries of society
according to the needs of the community
and the possibility for the community to
develop

(03 marks)

(2) In what way can language be used to create power relationships?

Language can be used to create power relationships
by using it to control the actions of others
and to create a sense of hierarchy

(04 marks)

(3) Describe the link between language rights and the way people deal with ideas in your own words.

Language rights are linked to the way people deal with ideas
because language is a key to understanding the world
and it is important to have the right to use one's own language

(03 marks)

(4) How does the general belief of the use of language differ from the views of sociologists and psychologists?

The general belief is that language is a tool for communication
while sociologists and psychologists view language as a social construct
that shapes and is shaped by society

(03 marks)

(5) Mention three consequences of denying an individual his/her language rights.

1. Loss of cultural identity
2. Loss of social cohesion
3. Loss of economic opportunities

(06 marks)

(6) In paragraph 05,

(a) what is the main point expressed?

.....
.....
.....

(02 marks)

(b) why is the USA mentioned?

.....
.....
.....

(02 marks)

(7) Explain what Deutch means when he says 'language is an automatic signaling system'

.....
.....
.....

(04 marks)

(8) According to paragraph 6 how can people improve the 'quality of their lives' by stressing on the language rights of others?

.....
.....
.....

(04 marks)

(9) (a) Is this statement 'True' or 'False'?

'Language policies that do not protect the language rights of people cause distress'

.....

(b) Support your answer with a statement from the passage.

.....
.....
.....

(02 marks)

(10) Suggest a title for the passage. Do not use more than 6 words.

.....

(03 marks)

கட்டெண்:.....

இலங்கைத் திறந்த பல்கலைக்கழகம்

சட்டமாணிப் பட்டப்படிப்புத் திட்டம் - 2002

தேர்வுப் பரீட்சை

பகுதி II - பொது அறிவு (ஆங்கிலம்)

மற்றும்

பகுதி III - மொழிப் பரீட்சை (சிங்களம்/தமிழ்)

காலம் 1 மணித்தியாலம்



திகதி: 02.06.2002

நேரம்: மு.ப 11.45 பி.ப 12.45 வரை

பரீட்சார்த்திகளுக்கான அறிவுறுத்தல்கள்:

- மேற்பார்வையாளரால் வினாப்பத்திரத்தினைத் திறக்கும்படி கூறும்வரை அதனைத் திறக்க வேண்டாம்.
- ஒவ்வொரு வினாவிற்கும் கீழே தரப்பட்டுள்ள இடைவெளியில் உமது விடையினை எழுதுக.
- இவ்வினாத்தாளினை பரீட்சை மண்டபத்தில் இருந்து எடுத்துச் செல்வது முற்றிலும் தடுக்கப்பட்டுள்ளது.
- உமது கட்டெண்களை இரண்டு வினாப் பத்திரங்களிலும் குறித்த இடத்தில் எழுதுக.
- மேற்பார்வையாளரால் எழுதுவதை நிறுத்தும்படி கூறும் போது அவ்வாறு செய்க.
- இந்த அறிவுறுத்தல்களை பின்பற்றத் தவறும் பரீட்சார்த்திகள் தகவீனப்படுத்தப்படுவார்கள்.

(11) What do the following phrases refer to?

(i) they in paragraph 02

.....
.....
.....

(ii) which in paragraph 03

.....
.....
.....

(iii) others in paragraph 06

.....
.....
.....

(iv) do so in paragraph 06

.....
.....
.....

(06 marks)

(12) Write down the meaning of the following words and phrases as used in the passage.

(i) potential in paragraph 01

.....
.....
.....

(ii) personal authenticity in paragraph 04

.....
.....
.....

(iii) alienated in paragraph 04

.....
.....
.....

(iv) concomitant in paragraph 06

.....
.....
.....

(08 marks)

COPYRIGHTS RESERVED

சுட்டெண்:.....

பகுதி II பொது அறிவு

இவ்வினாத்தாளுக்கு 100 புள்ளிகள் வழங்கப்படும்.

40 வினாக்களுக்கும் விடை தருக.

01. சோல்பரி அரசியலமைப்பின் காரணகர்த்தா யார்? *Dr. S. Senanayake, Salisbury*
02. குற்றவியல் நியாயாதிக்கத்தைக் கொண்ட இலங்கையின் கீழ் நிலை நீதிமன்றம் எது? *Primary courts*
03. ஹேக் என்ற இடத்தில் புரியப்படுகின்ற யுத்தக் குற்றங்களுக்காக அண்மையில் சர்வதேச நியாயமன்றம் ஒன்றின் முன்னால் குற்றம் சுமத்தப்பட்ட முன்னாள் சேர்பியாவின் ஜனாதிபதியின் பெயர் என்ன?
Slobodan milosevic
04. உலக வர்த்தக மையத்தின் இரட்டைக் கோபுரங்கள் நியூயோர்க் நகரத்தில் எந்தத் தீவில் அமைந்துள்ளது? *Lower manhattan*
05. பனாமா கர்ல்வாலைய கட்டியதற்கு எந்த நாடு பொறுப்பானது? *USA*
06. உங்களின் உடலில் உள்ள இரத்தக்குழாய்களை ஒன்றாக இணைத்தால் அதன் நீளம், 60 மைல்களா? அல்லது 600 மைல்களா? அல்லது 60,000 மைல்களா?
600,000 miles
07. 16 ஆம் நூற்றாண்டில் சோதிடக் குறிப்பில் பிரசித்தி பெற்ற பிரான்சிய சோதிடரின் பெயர் என்ன? *Michel de Nostredame*
08. ஓஸாமா பின் லேடன் எந்த தேசத்தைச் சேர்ந்தவர்? *USA*
09. தனிநாட்டிற்காக யுத்தம் புரியும் பாஸ்க் பிரிவினைவாத அமைப்பின் பெயர் என்ன?
ETA
10. கிறிஸ்தோபர் கொலம்பஸ் எந்த நாட்டைச் சேர்ந்தவர்? *Spain*

11. வட அயர்லாந்து சபையின் முதலாவது அமைச்சர் யார்? *Alrene Foster*.....
12. 1988 ஆம் ஆண்டில் குண்டுத் தாக்குதல் காரணமாக பேன் அமெரிக்க போயிங் 747 என்ற விமானம் ஸ்கொட்லாந்து நாட்டின் எந்த நகரில் நொறுங்கி வீழ்ந்தது? *Lackerbie*.....
13. அர்த்த சாஸ்திரம் அல்லது செல்வந்தம் தொடர்பான விஞ்ஞானம் என்ற புத்தகத்தை எழுதியவர் யார்? *லக்ஷ்மிநாதர்*.....
14. உரோம சாம்பிராஜ்யத்தின் தலைநகரமாக கொன்ஸ்டென்டின் நோபிலை ஆக்கிய பேரரசனின் பெயர் என்ன? *Constantine*.....
15. உலகில் உள்ள சமுத்திரங்களில் மிகவும் ஆழக் கூடிய இடத்தினைப் பெயரிடுக. *மரிபகன் சிடி*.....
16. கிபோ என்ற பெயர் கொண்ட பனியால் மூடப்பட்ட சிகரத்தினை கொண்ட ஆபிரிக்காவின் உயர்ந்த மலையின் பெயர் என்ன? *கிளிமங்கோரோ*.....
17. ஆப்கானிஸ்தானில் காபோல் நகரத்திற்கும் பாகிஸ்தானில் உள்ள பெஷாவர் நகரத்திற்கும் இடையே பாகிஸ்தானின் எல்லையில் அமைந்துள்ள கணவாயின் பெயர் என்ன? *Khyber pass*.....
18. கவெஸ் கால்வரய் எந்த ஆண்டில் திறக்கப்பட்டது? *1869*.....
19. ஆட்ட நிர்ணய குற்றவாளியான முன்னாள் தென்னாபிரிக்க கிரிக்கட் தலைவரின் பெயர் என்ன? *Hansie crajie*.....
20. இறுதியாக உலகக் கிண்ண உதைப்பந்தாட்ட போட்டிகள் எந்த நாட்டில் நடைபெற்றன? *France*.....
21. முதன் முதலாக விண்வெளியினை தொலைநோக்கி மூலம் அவதானித்து, ஜபீட்டர் என்ற கோளானது தனக்கென ஒரு சூரிய குடும்பத்தினை (Solar System) கொண்டுள்ளது என கண்டுபிடித்த இத்தாலிய வானளாஸ்திரியின் பெயரென்ன? *கலிலியோ கலிலி*.....

22. "ஐம்போ ஜெட்" என அழைக்கப்படும் போயிங் 747 என்ற வகையைச் சார்ந்த விமானம் தனது முதல் (கன்னிப்) பிரயாணத்தினை எந்த வருடம் ஆரம்பித்தது?
.....1970.....
23. சர்வதேச நீதிமன்றத்தில் உப தலைவர் பதவி ஒன்றினை வகித்த இலங்கையர் யார்?Christopher Weeramantry.....
24. ஐக்கிய நாடுகளின் மனித உரிமைகள் தினம் எப்போது? 1948...10.....
25. புளூட்டோ என்ற கோள் சூரியனைச் சுற்றி வருவதற்கு எத்தனை பூமி வருடங்கள் எடுக்கின்றன?2.28:09...கட்கள்.....
26. எந்த வருடத்தில் 'ஐக்கிய நாடுகளின் கடல் சம்பந்தமான உடன்படிக்கை III கைச்சாதிடுவதற்காக திறந்து வைக்கப்பட்டது?1994.....
27. இலங்கையில் பிரித்தானிய காலனித்துவ ஆட்சியாளர்களுக்கு எதிராக 1848 ஆம் ஆண்டு புரட்சி இடம்பெற்ற புரட்சிக்குத் தலைமை தாங்கியவர் யார்? ரெபபுல்டியஸ் தி
28. தாஜ்மஹால் தனது மனைவிக்காகக் கட்டிய மொகலாய் சக்கரவர்த்தியான ஷாஜஹானின் மனைவியின் பெயர் என்ன? ...புர்காஜ.....
29. இலங்கையில் சமாதான கண்காணிப்புக் குழுவின் தலைவராக இருக்கும் ஓய்வு பெற்ற நோர்வே இராணுவ ஜெனரலின் பெயர் என்ன? ..Eric Solheim.....
30. மனித உரிமைகளுக்கான ஐரோப்பிய நீதிமன்றம் எங்கே அமைந்துள்ளது? Rome, Italy
31. உமது கைகளில் உள்ள விரல்களில் எந்த விரல் நகம் மிக விரைவாக வளருகிறது? ..middle finger nail.....
32. 1959 ஆம் ஆண்டில் பிடில் கெஸ்ரோ தலைமை தாங்கிய புரட்சிக் குழுவால் தூக்கி எறியப்பட்ட கியூபாவின் சர்வாதிகாரி யார்? புலஜஸ்டீன் காய்ப்பா
33. அணுக் கொள்கையை அபிவிருத்தி செய்தவர் யார்? John Dalton.....

Thumb nails grows the slowest.

34. மிருக அமைப்புக்களில் எப்பொழுதுமே காணப்படாத ஆனால் தாவரங்களில் விசேடமாக அவற்றின் உயிரணுக்களின் சுவர்களில் ஒரு வகை பொருள் அதிகளவு காணப்படுகிறது. இப்பொருள் எவ்வாறு அழைக்கப்படுகின்றது?
-
35. மகாவலி நதி எத்தனை கிலோ மீற்றர் நீளமுள்ளது?335km.....
36. இலங்கையை கடைசியாக ஆண்ட மன்னன் எந்தப் பரம்பரையைச் சேர்ந்தவன்?
-சூரிய வம்சம்.....
37. 1913 ஆம் ஆண்டு இலக்கியத்திற்காக நோபேல் பரிசு பெற்ற கவிஞன், ஓவியன், இசைக் கலைஞரான பெங்காளி இந்திய தேசத்தைச் சேர்ந்தவர் யார்?
-ரவீந்திரநாத் தாகூர்.....
38. சார்க் அமைப்பு எந்த வருடத்தில் உருவாக்கப்பட்டது?1925.....
39. பென்சாயி என்ற தோந்தெடுத்து கிளை வெட்டும் முறை மூலம் சிறிய மரங்களை உருவாக்குகின்ற நாடு எது?Japan.....
40. காற்றிற்குள் காபனீரொட்சைட் தப்பிச் செல்வதைத் தடுக்கும் யூரியால் உறிஞ்சப்பட்டு மீண்டும் மேல் மட்டத்திற்கு வெளியிடப்படுகின்ற குரியக் கதிர்களாலான யூரியின் வளிமண்டலத்தின் அற்புதம் என்ன பெயரால் அழைக்கப்படுகின்றது?கிரீன்ஹவுஸ்.....

(பதிப்புரிமையுடையது)

கட்டெண்:.....

பகுதி III மொழிப் பரீட்சை (தமிழ்)

இவ்வினாத்தாளுக்கு 50 புள்ளிகள் வழங்கப்படும்.

எல்லா வினாக்களுக்கும் விடை தருக.

பின்வரும் உரைப்பகுதியை வாசித்து, விளங்கி கீழே தரப்பட்டுள்ள வினாக்களுக்கு விடை தருக.

பிற மொழி எதுவும் எய்தப் பெறாத, பழைமையும், பெருமையும், மொழிநூல் முடிவும், இலக்கிய வளமும் உடையது தமிழ். தமிழின் நிலைமை உலகிற சிறந்த மொழி எனோடும் ஒக்கவும் உயரவும் உரிமை தந்தது. ஆயினும் அரசியலாளர் ஆங்கிலமொன்றிலே கல்வியை நமக்குத் தந்ததன் பயன் தமிழைப்போன்ற தாய் மொழியிலும் நாம் உயர்தரக் கல்வி பயில இயலாது போயிற்று. இழிநிலை வந்த காரணம் இரண்டு. ஒன்று நம்மொழியில் புதுக் கலைச் சொற்களைப் போதுமளவு இடம்பெற விடாதது. ஆங்கிலச் சொற்களை அப்படியே எழுத்தாளத் துணியின் அம்மொழியறிவே வளருவதன்றி, தாய்மொழி வளமும் வளர்ச்சியும் குன்றும். வேணவா உடைய மாணவர்களெல்லாம் அயல் மொழி பயிலும் துயர் ஒழியாது. இரண்டாம் குறை, நம் தாய் மொழிகளிலே அவ்வக் கலைக்கு செவ்விய நூல்கள் செய்யப்பெறாமை கலைதொறும் பயில்பவர் நிலைகளுக்கேற்பப் பலதர நூல்களும் நிலவா மொழிகள் உயர்தரக் கல்விக்கு உதவமாட்டா. முதலில் நாட்டு மொழியில் கேட்டை ஒழிக்கக் கலைச்சொல் வளத்தை நாம் பெருக்குதல் வேண்டும். அதனோடு பல்வகைக் கலையிலும் நல்லறிவு உயர தரமான நூல்களை இயற்றி தாய்மொழி வளர்ச்சிக்கு உதவ வேண்டும். மொழி வளமின்றி, விழுமிய நூல்கள் எழுத இயலாது. நூல் வளமில்லா மொழிகளில் கல்வி சால்பு உயராது. ஆதலால் இந்தக் குறைகளை நீக்கினாலன்றி, தமிழ் மொழியில் உயர்தரக் கல்வியை ஊட்ட இயலாது.

இனி நம் மொழிக் குறைகளை நீக்கிப் பொருத்தமான திருத்தமும் செய்து, எல்லாத் துறையிலும் நல்லறிவோங்க, உயர்தரக் கல்வியை விரைவில் பரப்புவதற்குரிய வழிகளை ஆராய்வோம்.

முன் அறியாத பொருள்களும் கருத்தும் எழுங்கால், பழைய நம் மொழிகளில் அறிவதற்குரிய புதிய சொற்களைப் படைத்தல் வேண்டும். இதுவரை இல்லாப் புதுக் கருத்தும் கலைகளும் உலகில் நிலவுகின்றன. அவற்றைக் கற்பதற்கு நம் மொழிகளில் உள்ளன. கொண்டு புதிய சொற்களைப் புனைய இயலுமேல் அவ்வாறு அவற்றை அமைத்துக் கொள்ளலாம். அல்லது வடசொல் திசைச்சொல் என்பனவற்றை உபயோகிக்கலாம். அயல்நாட்டு பிறமொழிச் சொற்களை வேண்டுமிடங்களில் வழங்கலாம். பிறமொழிச் சொற்களை எடுத்தாளுகையில் தமிழ் எழுத்தியல்பு மொழி மரபு எதுவும் பிறழவிடாமல் மாற்றி வழங்கலாம்.

எவ்வகையாயினும் தமிழ் மொழி இயல்புக்கு ஏற்ப புதிய சொற்களைப் புகுத்துதல் வேண்டும். அன்றேல் கலைகளும், அறிவும் வளம்பெற மாட்டா. கலைகள் எல்லாம் தலைசிறந்தோங்க, நிரம்பிய அறிவைத் தரும் பெருநூல்களைத் தாய் மொழிகளிலேயே இயற்றச் செய்வது இன்றியமையாதது. ஆங்கிலம், பிரெஞ்சு, ஜெர்மனி முதலிய பிறமொழிகளில் திறம்பட எழுதிய அறிவு நூல் அனைத்தையும் மொழிபெயர்த்துதல் முதற்பெருவேலை. அவ்வம் மொழியில் உள்ள நூல்களை செவ்வையாய்க் கற்று வழுவறத் தத்தம் தாய்மொழி பயின்று விழுமிய நூல்கள் எழுதப் போதிய ஆற்றலும் பெற்று மொழிகளிரண்டிலும், சொல்லின் திட்பமும், பொருளின் நுட்பமும் ஓர்ந்து, சீர்தூக்கி, ஒளிரும் நடை ஒட்பமுடைய அறிஞரைப் பிறமொழி நூல்களைப் பொருள் பெயராமல் மொழி பெயர்த்து உதவத் தூண்டுதல் வேண்டும். இன்னும் நூலறிவும் மதி நுட்பமும், சாலச் சிறந்த மேதைகள், ஆராய்ந்து தெளிந்த அரும்பொருள் பற்றி அவர்களைக் கொண்டு புதிய நூல்களை ஆக்குதல் வேண்டும். அயராது இந்த முறை கையாளில், உயர்தரக் கல்விக்கு, ஆங்கிலப் பயிற்சியை அறவே விடலாம். தாய் மொழியாலே எத்தரக் கல்வியும் தரலாம். நாட்டு மக்கள் புத்தறிவு எய்தாக் கேட்டினை எளிதிற் போக்கவும் கூடும். கல்விக்கு அயல்நாடு செல்லும் இளைஞரின் அல்லலும் ஒழியும்.

01. இந்த உரைப்பகுதிக்குப் பொருத்தமான ஒரு தலைப்பு யாது?
(05 புள்ளிகள்)
02. தமிழ் மொழியில் உயர்தரக் கல்வி பயில முடியாமைக்குரிய இரு காரணங்கள் யாவை?
(2 X 3 = 6 புள்ளிகள்)
03. தமிழ் மொழியில் உயர்தரக் கல்வி வழங்க வேண்டுமாயின் எடுக்க வேண்டிய மூன்று நடவடிக்கைகள் யாவை?
(3 X 3 = 9 புள்ளிகள்)
04. “கலைச் சொல்லாக்கம்” எவ்வாறு செய்யலாம் என்பதற்குரிய மூன்று முறைகளைத் தருக.
(3 X 3 = 9 புள்ளிகள்)
05. பிறமொழி நூல்களை மொழிபெயர்ப்போருக்கு இருக்க வேண்டிய இரு திறமைகளும் யாவை?
(3 X 2 = 6 புள்ளிகள்)
06. புதிய நூல்களை எழுதுவதற்குத் தகுதியுடையோர் யார்?
(3 புள்ளிகள்)
07. தாய்மொழியில் உயர்தரக் கல்வி கற்க முடியாமையால் மாணவர் எதிர்நோக்கும் பிரச்சினை யாது?
(3 புள்ளிகள்)
08. பின்வரும் சொற்களை உமது நடையில் விளக்குக.
நக்குதல்
புணைதல்
வேணவா
(3 X 3 = 9 புள்ளிகள்)

(பதிப்புரிமையுடையது)



இலங்கைத் திறந்த
பல்கலைக் கழகம்

சட்டக் கற்கைகள் திணைக்களம்

Teaching and learning
college

சட்டமாணி பட்டப் படிப்பு
அனுமதிப் பரீட்சை

கடந்த கால வினாப்பத்திரங்கள்

2004

TLC College offers LLB Entrance Exam classes in Tamil medium.

22/112

For details, contact 0772624039 or message on WhatsApp at the same number. Visit collegeofrlc.com for more information

இலங்கை திறந்த பல்கலைக்கழகம்
சட்டமாணி பட்டப்படிப்புத் திட்டம் - 2005
அனுமதிப் பரீட்சை
காலம் - 2 மணித்தியாலங்கள்

சுட்டிலக்கம் :

திகதி : 01 ஆகஸ்ட் 2004

நேரம்: மு.ப 10.00 ந.பகல் 12.00 வரை

விண்ணப்பதாரிகளுக்குரிய அறிவுறுத்தல்கள்:

- இப்பரீட்சை மூன்று பிரத்தியேக வினாத்தாள்களை கொண்டது.
 - (அ) வினாத்தாள் I - பொது நுண்ணறிவு
 - (ஆ) வினாத்தாள் II - பொது அறிவு
 - (இ) வினாத்தாள் III - மொழிப்பரீட்சை

ஒவ்வொரு வினாத்தாளுக்கும் எவ்வாறு விடையளிப்பது?

- வினாத்தாள் I - பொது நுண்ணறிவு 40 வினாக்களை உள்ளடக்கியது. உமக்குத் வழங்கப்படும் விடைத்தாளில் எல்லா வினாக்களுக்கும் விடையளிக்க. தரப்பட்ட விடைகளுள் மிகவும் பொருத்தமான விடையைத் தெரிவு செய்து உமது விடைத்தாளில் தரப்பட்டுள்ள எழுத்துக்களில் பொருத்தமான ஒன்றுக்கு ஓ என்று அடையாளமிடுக. உதாரணமாக, ஒரு குறிப்பிட்ட வினாவுக்கு (அ) பொருத்தமான விடை என நீர் தீர்மானித்தால் அவ்வினா இலக்கத்திற்குரிய எழுத்தின் மீது (அ) X அடையாளமிடுக.

(அ) (ஆ) (இ) (ஈ)

நீர் அடையாளமிட்ட விடை ஒன்றினை நீக்க விரும்பினால் அதனை தெளிவாக அழித்துவிடவும். குறிப்பிட்ட வினா ஒன்றுக்கு - ஒன்றுக்கு மேற்பட்ட X அடையாளம் இடப்பட்டிருந்தால் அவ்வினாவுக்குரிய புள்ளியை நீர் பெறமாட்டீர்.

வினாத்தாள் I இல் இருந்து அதற்குரிய விடைத்தாளை பிரித்தெடுக்க வேண்டாம்.

நீர் கணக்கிடும் கருவிகளையோ அல்லது அதனை ஒத்த வேறு கருவிகளையோ இப்பரீட்சைக்கு பயன்படுத்த அனுமதிக்கப்படமாட்டீர்.

- வினாத்தாள் II - பொது அறிவு
40 வினாக்களை உள்ளடக்கியது. எல்லா வினாக்களுக்கும் அவ்வினாத்தாளிலேயே விடையளிக்க.
- வினாத்தாள் III - மொழிப் பரீட்சை
இரண்டு பகுதிகளை உள்ளடக்கியது. பகுதி (அ) ஆங்கில மொழியையும் பகுதி (ஆ) சிங்களம் அல்லது தமிழ் மொழியையும் கொண்டது. பகுதி (அ) (ஆ) ஆகிய இரண்டிலும் காணப்படும் எல்லா வினாக்களுக்கும் அவ்வினாத்தாளில் தரப்பட்டுள்ள இடைவெளியில் விடையளிக்க. மேற்பார்வையாளரால் எழுதுவதை நிறுத்துமாறு அறிவிக்கப்பட்டவுடன் எழுதுவதை நிறுத்தவும். தரப்பட்டுள்ள இடைவெளியில் உமது சுட்டிலக்கத்தைக் குறிப்பிடவும். இவ்வறிவுறுத்தல்களைப் பின்பற்றத் தவறும் விண்ணப்பதாரிகள் தகுதியற்றவர்களாகப்படுவார்கள்.

THE OPEN UNIVERSITY OF SRI LANKA

BACHELOR OF LAWS DEGREE – 2005

ADMISSION TEST – PAPER I (GENERAL INTELLIGENCE)

ANSWER SHEET

INDEX NO:

- | | | | | | | | | | |
|-----|-----|-----|-----|-----|-----|-----|-----|-----|-----|
| 1. | (a) | (b) | (c) | (d) | 21. | (a) | (b) | (c) | (d) |
| 2. | (a) | (b) | (c) | (d) | 22. | (a) | (b) | (c) | (d) |
| 3. | (a) | (b) | (c) | (d) | 23. | (a) | (b) | (c) | (d) |
| 4. | (a) | (b) | (c) | (d) | 24. | (a) | (b) | (c) | (d) |
| 5. | (a) | (b) | (c) | (d) | 25. | (a) | (b) | (c) | (d) |
| 6. | (a) | (b) | (c) | (d) | 26. | (a) | (b) | (c) | (d) |
| 7. | (a) | (b) | (c) | (d) | 27. | (a) | (b) | (c) | (d) |
| 8. | (a) | (b) | (c) | (d) | 28. | (a) | (b) | (c) | (d) |
| 9. | (a) | (b) | (c) | (d) | 29. | (a) | (b) | (c) | (d) |
| 10. | (a) | (b) | (c) | (d) | 30. | (a) | (b) | (c) | (d) |
| 11. | (a) | (b) | (c) | (d) | 31. | (a) | (b) | (c) | (d) |
| 12. | (a) | (b) | (c) | (d) | 32. | (a) | (b) | (c) | (d) |
| 13. | (a) | (b) | (c) | (d) | 33. | (a) | (b) | (c) | (d) |
| 14. | (a) | (b) | (c) | (d) | 34. | (a) | (b) | (c) | (d) |
| 15. | (a) | (b) | (c) | (d) | 35. | (a) | (b) | (c) | (d) |
| 16. | (a) | (b) | (c) | (d) | 36. | (a) | (b) | (c) | (d) |
| 17. | (a) | (b) | (c) | (d) | 37. | (a) | (b) | (c) | (d) |
| 18. | (a) | (b) | (c) | (d) | 38. | (a) | (b) | (c) | (d) |
| 19. | (a) | (b) | (c) | (d) | 39. | (a) | (b) | (c) | (d) |
| 20. | (a) | (b) | (c) | (d) | 40. | (a) | (b) | (c) | (d) |

Date:

Signature of the Marking Examiner

வினாத்தாள் 1 - பொது நுண்ணறிவு

100 புள்ளிகளுக்கு விடைத்தாள் புள்ளியிடப்படும்

எல்லா 40 வினாக்களுக்கும் விடையளிக்கவும்

உமக்கு வழங்கப்பட்டுள்ள விடைத்தாளில் விடைகளை எழுதவும்.

வினாக்கள் 1 - 10

தொடர்ந்து வரும் சரியான அல்லது மிகப்பொருத்தமான எழுத்தை அல்லது எழுத்துக்களைக் காண்க.

1. AG, CI, MS, R__

- (a) V (b) U (c) X (d) Y

2. GPW, FOV, ENU, __, CLS, BKR

- (a) DMT (b) DKR (c) DMR (d) DLT

3. B² E³ I⁴ N⁵ T⁶ __

- (a) R (b) S (c) U (d) A²

4. b^a bb, bab^b, b^a bb

- (a) aaa (b) aba (c) bbb (d) abb

5. __ bb __ baa __ bb __ a

- (a) aab (b) baaa (c) abbb (d) bbba

6. 28, 34, 32, 38, 36, __

- (a) 34 (b) 40 (c) 42 (d) 44

7. 0, 5, 22, 57, 116, __

- (a) 205 (b) 216 (c) 192 (d) 207

8. 2, 9, 4, 27, 16, 81, 256, —
 (a) 286 (b) 243 (c) 512 (d) 162

9. 1, 2, 9, 4, 25, —, 7
 (a) 36 (b) 33 (c) 27 (d) 35

10. 4, 5, 6, 9, 8, 13, 10, —
 (a) 11 (b) 12 (c) 15 (d) 17

வினாக்கள் 11 - 16

கப்பல் கம்பனியொன்று புதிர் ஐடி ஐடி ஐடி ஐடி ஐடி ஐடி ஐடி எனும் துறைமுகங்களுக்கிடையே தனது சேவையை வழங்குகின்றது. செயற்பாடுகள் பின்வரும் ஒருதொடை பிரயாண மார்க்கத்தில் இடம்பெறுகின்றன. :

- G இலிருந்து H இற்கு
- H இலிருந்து G இற்கு G இலிருந்து I இற்கு
- I இலிருந்து J இற்கு
- J இலிருந்து H இற்கும் J இலிருந்து K இற்கும்
- L இலிருந்து G இற்கு, L இலிருந்து K இற்கு, L இலிருந்து I இற்கு
- K இலிருந்து J இற்கு
- சென்றடைந்த துறைமுகத்தில் இருந்து மற்றொரு அடைவிடத்தை அடைவதற்கு இடமாற்றம் செய்தல் சாத்தியமாகும்.

11. H இலிருந்து J இற்குப் பிரயாணம் செய்வதற்கான சாத்தியம் எப்படி?

- (a) நேரடியாக H இலிருந்து J இற்கு
- (b) முதலில் G இற்குடி பின்பு J இற்கு
- (c) முதலில் L இற்குடி பின்பு J இற்கு
- (d) முதலில் I இற்குடி பின்பு J இற்கு

12. ஏனைய துறைமுகங்களில் இருந்து கப்பல் ஒன்று அடைய முடியாத துறைமுகம் எது?

- (a) I (b) J (c) K (d) L

13. சரியாக ஒரு இடமாற்றத்தின் மூலம் துறைமுகம் I I பின்வரும் எத்துறைமுகத்தில். : துறைமுகங்களில் இருந்து அடையலாம்?

- (i) G (ii) H (iii) I (iv) K

- (a) (i) மாத்திரம் (b) (i), (iii) மாத்திரம்
- (c) (i), (iii), (iv) மாத்திரம் (d) (i), (ii), (iii), (iv) அனைத்தும்

14. எத்துறைமுகத்தையும் ஒரு தரத்திற்கு மேல் தரிசிக்காமல் உம்மால் அடையக்கூடிய துறைமுகங்களின் அதிகூடிய எண்ணிக்கை யாது?

- (a) 3 (b) 4 (c) 5 (d) 6

15. பின்வருவனவற்றில் எந்தப் பயணத்திற்கு அதிகூடிய எண்ணிக்கையான இடமாற்றங்கள் தேவை?

- (a) G இலிருந்து I இற்கு (b) H இலிருந்து K இற்கு
(c) L இலிருந்து I இற்கு (d) L இலிருந்து K இற்கு

16. துறைமுகம் ஐ மூடப்பட்டால் பின்வருவனவற்றில் எது சாத்தியமற்றதாகும்?

- (a) G இலிருந்து J இற்கு / (b) J இலிருந்து K இற்கு
(c) L இலிருந்து K இற்கு (d) L இலிருந்து J இற்கு

வினாக்கள் 17-22

L, M, N, O, P, Q, R, S, T என்னும் இடங்களைப் பார்வையிடுவதற்காக பிரயாணமுகவர் ஒருவர் சுற்றுப்பயணங்களை ஒழுங்கு செய்கின்றார். இப்பயணங்கள் ஒவ்வொன்றும் பின்வரும் நிபந்தனைகளைக் கொண்டுள்ளது.

M உள்ளடக்கப்பட்டால் Q உம் R உம் உள்ளடக்கப்படல் வேண்டும்.

O உள்ளடக்கப்பட்டால் மாதிரி கும் * உள்ளடக்கப்பட முடியும்.

Q உள்ளடக்கப்பட்டால், ஒன்றில் N உடனும், அல்லது T உடனும் அல்லது இரண்டுமும் M உள்ளடக்கப்படல் வேண்டும்.

P, Q என்பன ஒன்றாகச் சேர்க்கப்பட முடியாதவை.

O, R, T என்பன ஒன்றாகச் சேர்க்கப்பட முடியாதவை.

N, S, R என்பன ஒன்றாகச் சேர்க்கப்பட முடியாதவை.

L, R என்பன ஒன்றாகச் சேர்க்கப்பட முடியாதவை.

17. சுற்றுப்பயணம் ஒன்றில் ஆ உள்ளடக்கப்பட்டால் இ உள்ளடக்கப்படவேண்டிய ஏனைய நகரங்களின் அதிகுறைந்த எண்ணிக்கை

- (a) 3 (b) 4 (c) 5 (d) 6

18. பின்வரும் சுற்றுப்பயணங்களுள் * உடன் உள்ளடக்கப்பட முடியாதது எது?

- (a) L (b) M (c) N (d) O

19. பின்வருவனவற்றில் எது ஏற்றுக்கொள்ளப்படக் கூடிய சுற்றுப்பணக் குழுவாகும்?

- (a) MNOP (b) MNQR (c) MNQS (d) LMQR

20. ஏற்றுக் கொள்ளப்படக் கூடிய சுற்றுப்பயணம் ஒன்றை அமைப்பதற்கு பின்வருவனவற்றில் எது குழுவொன்றில் இருந்து நீக்கப்படல் வேண்டும்?

- (a) M (b) Q (c) O (d) R

21. ஒரு மேலதிக அடைவிடம் சேர்க்கப்பட்டால் பின்வருவனவற்றில் எது ஏற்றுக் கொள்ளப்படக் கூடிய சுற்றுப்பயணமாக இருக்க முடியும்?

- (a) M, P, Q (b) M, Q, R (c) N, S, R (d) R, T, P

22. சுற்றுப்பயணம் ஒன்றில் ஒரு நகரத்தை மாத்திரம் கொண்டதாக எத்தனை அடைவிடங்கள் பயன்படுத்தப்பட முடியும்?

- (a) 3 (b) 4 (c) 5 (d) 6

வினாக்கள் 23 - 30

மிகப் பொருத்தமான விடையைத் தெரிக

23. $4 : 60 :: \underline{\quad} : 45$

- (a) 2 (b) 4 (c) 5 (d) 64

24. $30 : 11 :: 56 : \underline{\quad}$

- (a) 19 (b) 45 (c) 60 (d) 15

25. $72 : 17 :: \underline{\quad} : 21$

- (a) 90 (b) 100 (c) 110 (d) 120

26. $5 : 6 :: \underline{\quad} : 20$

- (a) 12 (b) 7 (c) 9 (d) 21

27. $12 : 33 :: \underline{\quad} : 63$

- (a) 16 (b) 18 (c) 9 (d) 21

28. $13 : 42 :: \underline{\quad} : 90$

- (a) 21 (b) 19 (c) 55 (d) 39

29. 125 : 16 :: ___ : 4

- (a) 80 (b) 100 (c) 27 (d) 64

30. 8 : 9 :: ___ : 25

- (a) 16 (b) 64 (c) 27 (d) 36

வினாக்கள் 31 - 40

மிகப் பொருத்தமான விடையைத் தெரிக.

31. ___ : JKHI :: TURS : OPMN

- (a) LMNO (b) MNOP (c) OPMN (d) NOLM

32. EGIK : FILO :: FHJL : ___

- (a) JGPM (b) JGMP (c) GJPM (d) GJMP

33. PRLN : XZTV :: JLFH : ___

- (a) RTNP (b) NRPT (c) NPRT (d) NTRP

34. AEFJ : KOPT :: ___ : QUVZ

- (a) HKLP (b) GKLP (c) GLKP (d) HKQL

35. BDAC : FHEG :: NPMO : ___

- (a) QTRS (b) RQTS (c) TRQS (d) RTQS

36. FxyZ : YyxF :: AefM : ___

- (a) RefL (b) AefL (c) LefL (d) LfeA

37. ZabF : EbaX :: ___ : DlmP

- (a) EmlP (b) PlmE (c) PmlE (d) EmlQ

38. XabG : YbaD :: PxyL : ___
(a) QyxD (b) XxyM (c) QyxM (d) MyxQ

39. ABC : DCB :: RST : ___
(a) UTS (b) UST (c) TSU (d) UVW

40. DFH : IGE :: UWY : ___
(a) YWX (b) ZXV (c) ZAB (d) YXA



Continued Paper II (General Knowledge)

சுட்டிலக்கம்:

வினாத்தாள் 11 - பொதுஅறிவு

100 புள்ளிகளுக்கு விடைத்தாள் புள்ளியிடப்படும்

எல்லா 40 வினாக்களுக்கும் விடையளிக்கவும்

1. பிரான்சில் உள்ள பாரிஸ் நகரத்தில் 2004ஆம் ஆண்டு நடைபெற்ற ஊயநெள திரைப்பட விழாவில் சிறந்த திரைப்படத்திற்கான "Palm d'Or" விருதினைப்பெற்ற "Fahrenheit 9/11" என்ற திரைப்படத்தின் இயக்குனர் யார்?
..... Michael Moore
2. ஞாயிற்றுத் தொகுதியில் உள்ள எந்தக் கோள் அதிகூடிய துணைக்கோள்களைக் கொண்டுள்ளது? Jupiter
3. 1997இல் மிகவும் விளம்பரப்படுத்தப்பட்ட ஆட்டத்தொடரில் ரீய சதுரங்க ஆட்ட வல்லுனர் Garry Kasparov தோல்வியடைந்த IBM கணினியின் பெயர் யாது?
..... டீப் புஷ
4. 2004இல் ஈராக்கிய யுத்தக் கைதிகள் அமெரிக்க வீரர்களால் பாலியல் துன்புறுத்தல்களுக்கு உள்ளாக்கப்பட்ட பக்தாத்தில் உள்ள சிறையின் பெயர் யாது?
..... Abu Ghraib
5. தைவான் முன்பு எப்பெயரால் அழைக்கப்பட்டது? ... Formosa
6. 'The Prince' என்ற தலைப்பில் அரசியல் அதிகாரபலம் பற்றி எழுதப்பட்ட பிரசித்தி பெற்ற கைநூல் யாரால் எழுதப்பட்டது?
..... நிக்கோலஸ் மாக்சிமில்லி
7. 1815 மார்ச் 2ஆம் திகதி பிரித்தானிய அரசாங்கத்தின் சார்பில் கண்டி தேசவழமையில் ஒப்பமிட்ட பிரித்தானிய அதிகாரியின் பெயர் என்ன? ... டிமோப்ட் டிமொனெயிட்
8. குற்றவியல் சட்டத்தில் பயன்படுத்தப்படும் "இரட்டிப்புக்கட்டம்" (எழுதிட ந தநழியசனல்) என்ற பதத்தின் கருத்து யாது? ^{DOUBLE JEOPARDY} the putting... of a person... on trial... for an offence... for which he or she has previously been put on a trial under a valid charge; two adjudications for one offence
9. உலகவங்கியின் முறைசார் பெயர் யாது? ^{உலக வங்கி} World Bank group
10. நியூயோர்க்கில் செப்டம்பர் 11இல் இடம்பெற்ற தாக்குதல் பற்றித் தகவல் அளிக்கத் தவறினார் என்று சொல்லப்பட்டமைக்காக ராஜினாமாச் செய்த ஊழிய பணிப்பாளரின் பெயர் யாது?

11. 450. என்ற இந்த அராபிய எண்ணை ரோமன் இலக்கங்களில் எவ்வாறு எழுதுவீர்?
.....CDL.....
12. ரயளெநடுன் நோய் என்பதனால் விபரிக்கப்பட்டுள்ள வைத்திய நலைமை யாது?
.....
13. இலங்கையில் பங்குச்சந்தை (தற்போது Colombo Stock Exchange என அழைக்கப்படுகின்றது) எத்தனையாம் ஆண்டு நிறுவப்பட்டது? 1896.....
14. 1978ஆம் ஆண்டைய அரசியல் யாப்பின்படி முழு நாடு தீண்டு சந்தர்ப்பங்களில் ஒரு தனியான வாக்காளர் பிரிவாகின்றது. அத்தகையதொரு சந்தர்ப்பம் ஜனாதிபதி தேர்தலாகும். மற்றய சந்தர்ப்பம் யாது?
15. கந்தளாய்க் குளத்தைக் கட்டுவதற்குப் பொதுமக்கள் திரண்ட காசின் பெயர் என்ன?
.....
16. 2006ஆம் ஆண்டில் 20தாவது ஒலிம்பிக் தளிகை விளையாட்டுக்கள் நடைபெறவுள்ள நகரத்தின் பெயர் யாது?
17. ஐரோப்பிய ஒன்றியத்தில் அங்கத்துவம் பெற விரும்பும் நாடுகளை பிரதான முஸ்லிம் நாடு எது?
18. CIA என்பது இரகசியத் தகவல்களை சேகரிக்க உதவுகின்ற வெளியில் வேவுபார்ப்பதற்கான ஐக்கிய அமெரிக்க நாடுகளின் உள்நாட்டு முகவராகும். ஐக்கிய இராச்சியத்தில் உள்ள ஒத்த முகவர் என்ன? Secret intelligence (UK).....
19. நவீன அச்சியந்திரத்தைப் புதிது கண்டவர் யார்? ஜார்ஜ் பென்லிங்.....
20. 'Microsoft Windows' கணினி மேன்பேரூட்தொகுதி தீர்மானத்தின் சிந்தனை வெளிப்பாடாகும். அவர்களில் ஒருவர் Paul Allen என்பவராகும். மற்றவர் யார்? Bill Gates.....
21. Test cricket இல் இலங்கை தனது முதல் வெற்றிகர எட்டை எங்கே செய்தது?
.....India.....
22. இலங்கை வைத்தியக் கல்லூரி எப்போது நிறுவப்பட்டது? 1870.....
23. கிரேக்க, ரோம புராணக்கதையின்படி காதலின் தேய்வம் என்பதன் ஆகும். தானியத்தின் பெண்தெய்வம் யார்?
24. கோள்கள் சூரியனை வட்ட ஒழுக்குகளிலன்றி நீள்வட்டவழிகளில் சுற்றி வருகின்றன எனக் கண்டுபிடித்தவர் யார்?

25. காது கேட்காத நிலைமை ஏற்பட்ட பின்பும் சங்கீதத் தொகுப்பில் தொடர்ந்து ஈடுபட்டுக் கொண்டிருக்கும் உலகப் பிரசித்தி பெற்ற இசைவாணர் யார்? *Mandy Harvey*.....
26. இலங்கையில் குற்றவியல் சட்ட நடவடிக்கைகளில் ஜூரி முறையை அறிமுகப்படுத்திய ஆங்கில ஆளுனரின் பெயர் என்ன? *சி.பி.கே. ரெண்ட்*.....
27. தற்போதய யுத்த நிறுத்த உடன்படிக்கையில் ஓவ்வநாயும் இலங்கை அரசாங்கமும் எப்போது ஒப்பமிட்டன?
28. 1945ஆம் ஆண்டு ஆகஸ்ட் 6ஆம் 8ஆம் திகதிகளில் யப்பான் நகரங்களான ஹிரோசிமா, நாகசாகி என்பனவற்றில் இரு அணுக்குண்டுகளைப் போட அதிகாரமளித்த அமெரிக்க ஜனாதிபதியின் பெயரை எழுதுக? *Franklin D. Roosevelt*
29. நீரின் கொதிநிலையைப் பரடைன்டில் காட்டுக *21.2°C*.....
30. 1989இல் தீவிரவாதிகளினால் கொல்லப்பட்ட மனித உரிமைகளில் தீவிர ஈடுபாடுள்ள பல்கலைக்கழகப் பெண் விரிவுரையாளரின் பெயர் என்ன?
Rajani Thiraganan.....
31. இலங்கையை ஆட்சி செய்யும் ஒரு முறையாக நிறைவேற்று அதிகாரமுள்ள ஆலோசனைக் குழு முறைமையை எந்த அரசியல் சீர்திருத்தம் முன்மொழிகின்றது?
பி.கே.சி......
32. இந்த நாட்டில் பிரதம நீதியரசராகப் பணியாற்றிய முதலாவது இலங்கையரின் பெயர் யாது? *Arthur Wijewardene*.....
33. செஞ்சிலுவைச் சங்கத்தின் சர்வதேச ஆலோசனைக் குழுவின் ஸ்தாபகர் யார்?
சை.பி.கே.சி. பி.கே.சி......
34. உலக சூழல் தினம் எப்போது? *June - 05*.....
35. உலகின் அதிகூடிய நீளமுள்ள நதியாகிய நைல் நதியின் நீளத்தை கிலோமீற்றர்களில் *6,650km* காட்டுக?
6,650km.....
36. தென்னாபிரிக்காவின் தற்போதய ஜனாதிபதியின் பெயர் யாது? *Cyril Ramaphosa*.....
37. பிலிப்பைன்ஸ் குடியரசு ஒரு தீவுக் கூட்டமாகும். அண்ணளவாக எத்தனை தீவுகளை இது கொண்டுள்ளது? *7,641 Islands*.....

38. அரசியற்கைதிகள் வைக்கப்பட்டிருந்த பிரசித்த அரச சிறைக்கூடத்தின் அரணை 14.07.1789இல் கைப்பற்றியதுடன் ஆரம்பித்த பிரான்சுப் புரட்சியின் ஞாபகார்த்தமாக ஜூலை 14ஆம் திகதி பிரான்சின் தேசிய தினமாகப் பிரகடனப்படுத்தப்பட்டுள்ளது. இந்த சிறைக் கூடத்தின் பெயர் என்ன?பரீட்சை.....

39. ஆரம்பத்தில் வருடாந்த நோபல் பரிசு ஐந்து வித்தியாசமான துறைகளுக்கு மட்டுப்படுத்தப் பட்டிருந்தது. 1968இல் மற்றொரு துறை சேர்க்கப்பட்டதுடன் வருடாந்த நோபல் பரிசுகளின் எண்ணிக்கை ஆறாக அதிகரித்தது. 1968இல் சேர்க்கப்பட்ட துறை யாது?உயிர்வாழ்வு அறிவியல்.....

40. மியன்மார் தலைநகரின் தற்போதய பெயர் என்ன?
.....Naypyi daw.....



Continued Paper III (English & Tamil Language Paper)

வினாக்கள் IIIPaper III – English and Tamil Language Paper

Answer both Section A and B

SECTION A : ENGLISH LANGUAGERead the following passage and answer ALL the questions given below

Warner, a floor-layer, sold scint as a side-line. He went to a café and inquired whether anything has been left for him. The proprietor told him there was something under the counter. Warner found two boxes there and took them away. He was stopped by the police. One box contained scint, the other 20,000 tablets containing amphetamine sulphate, a prohibited drug under the Drugs (Prevention of Misuse) Act 1964. He was charged with being in possession of a prohibited drug, contrary to section 1 of the Act. Warner said that he assumed that both boxes contained scint. The jury were directed that lack of knowledge of what the box contained went only to mitigation. The jury returned a verdict of not guilty after three minutes. The chairman asked the jury whether they thought Warner knew he had possession of drugs. The foreman answered that he did not know, he had not asked the jury. At the chairman's invitation, the jury retired again and shortly returned to say that they found Warner did know. The chairman made it clear that this was his own view and sentenced Warner to two years imprisonment. The Court of Appeal dismissed his appeal against conviction and sentence. On appeal to the House of Lords, it was held that the jury had been misdirected but that no reasonable jury would have accepted Warner's story and the conviction was upheld under the proviso to Section 4(1) of the Criminal Appeal Act 1907.

{*Warner vs. Metropolitan Police Commissioner*, [(1968), 2 All.E.R 356]}

Smith and Hogan *Criminal Law Cases and Materials* (1975) London Butterworths p. 61

- 1 Give two other names for what Warner sold as a sideline.
.....
- 2 Name the legislation that banned the possession of the drug mentioned here.
.....
- 3 What do you understand by the word 'mitigation'?
.....

- 4 What was Warner's excuse for being in possession of a prohibited drug?
.....
.....
- 5 Explain the reason Warner went into the café.
.....
.....
- 6 What was the purpose of the chairman's question to the jury?
.....
.....
- 7 Explain in your own words the direction given to the jury.
.....
.....
- 8 Why did the House of Lords uphold the conviction even though it was of the view that the jury had been misdirected?
.....
.....
- 9 What was the jury's conclusion at the end of its three-minute deliberation?
.....
.....
.....
- 10 Why did the jury retire for the second time?
.....
.....
.....

Continued ... Section B: Tamil Language

SECTION B – TAMIL LANGUAGE

பின்வரும் பந்தியை வாசித்துக் கீழேதரப்பட்டுள்ள வினாக்களுக்கு விடையளிக்குக

1947ஆம் ஆண்டு இந்திய சுதந்திரக் கட்டளைச் சட்டம் இந்தியா, பாக்கிஸ்தான் என்ற இரு சுதந்திர இராச்சியங்களை உருவாக்கியது. சுதந்திரம் வழங்கப்பட்டமையால் ஏற்படுத்தப்பட்ட புதிய நிலைமைகளுக்குப் பொருந்தக் கூடிய வகையில் 1935ஆம் ஆண்டு இந்திய அரசாங்கச் சட்டம் திருத்தப்பட்டது. இந்தியச் சுதந்திரக் கட்டளைச் சட்டத்தின் கீழ் இந்தியச் சட்டசபை, ஐக்கிய இராச்சிய பாராளுமன்றத்தின் எந்தச் சட்டத்தையும் மாற்றியமைக்கும் அல்லது புறத்தொதுக்கும் அதிகாரம் உட்பட தன் இரு நாடுகளுக்கும் உரிய சட்டங்களை ஆக்கும் அதிகாரத்தினைப் பெற்றிருந்தது. மேலும் இந்தச் சட்டம் முதற்தடவையில், அந்தந்த தேசங்களின் அரசியல் நிருணய சபையினால் உபயோகிக்கக் கூடியதும் அத்தேசங்களுக்கே பொருத்தமான யாப்பு விதிகளை ஆக்குவதற்கு வழிவகுத்தது. இருதேசங்களின் அரசியல் நிருணய சபைகளினால் தெரிவுசெய்யப்பட்ட இந்த யாப்பு வழிமுறைகளும் யாப்புக்களும் தேசாதிபதியின் சம்மதத்தைப் பெறுவதற்காக வேண்டுமென்றே சமர்ப்பிக்கப்படவில்லை. அரசியல் நிருணய சபையினால் வெளியிடப்பட்ட அன்றைய நிலைகொள் சட்டவாக்கத்தின்படி இந்தியாவில் மகாதேசாதிபதியின் சம்மதம் அவசியமா என்ற கேள்வி இந்திய நீதிமன்றங்களில் ஒருபோதும் எழுப்பப்படவில்லை. மறு புறத்தில் பாக்கிஸ்தானில் இவ்வினா எழுப்பப்பட்டு அரசியல் நிருணய சபையினால் வெளியிடப்படும் யாப்பு சம்பந்தமான விடயங்களில் அது சட்டத்தின் தன்மையைப் பெறுவதற்கு தேசாதிபதியின் சம்மதம் அவசியமானது என்றே கூட்டு நீதிமன்றத்தினால் தீர்மானிக்கப்பட்டது. அதன் பின் மகாதேசாதிபதியினால் அந்நாட்டில் புதியதொரு அரசியல்நிருணயசபை அமைக்கப்பட்டது. இச்சபை மகாதேசாதிபதியின் சம்மதத்திற்காக முறையாக சமர்ப்பிக்கப்பட்ட யாப்பை அவதானித்தும் அங்கீகரித்தும் வந்தது. இந்தியாவைப் பொறுத்தமட்டில் இவ்விடயத்தை நோக்கும்போது “சட்டத்தின் தொடர்ச்சியில் ஒருமுறிவு” இருந்தது என்பதை இந்திய நீதிமன்றங்கள் ஒரு அரசியல்நேர்வு என அங்கீகரித்தன. புதிய யாப்பின் கீழான ஒன்று எனவும் வெளிக்காட்டிக் கொள்கின்றன. யாப்புக்கள் விடயமாக விதிகளை ஆக்குவதற்கு ஒவ்வொரு புதிய தேசமும் (இந்தியா, பாக்கிஸ்தான்) முதல் தடவையில் தமது அரசியல் நிருணய சபையினால் உபயோகிக்கக் கூடிய சட்ட நிறுவக அதிகாரத்தையே உபயோகிக்க வேண்டுமெனக் கூறும் இந்திய சுதந்திரக் கட்டளைச் சட்டம் யாப்பின் சட்டவாக்கத்திற்கு மகாதேசாதிபதியின் சம்மதம் அவசியம் எனத் தேவைப்படுத்தவில்லை, என்று மறுபுறத்தில் விவாதிக்கப்பட்டது. இதுதான் எமது நிலையாயின் டாக்டர் வெயார் கூறியதாவது, “ஐக்கிய இராச்சிய பாராளுமன்றச் சட்டத்தால் அதாவது இந்திய சுதந்திரச் சட்டம் 1947 இனால் வழங்கப்பட்ட அதிகாரங்களின் கீழ் அரசியல் நிருணய சபையே யாப்பை விதிப்பாக்கம் செய்தது என்ற ஒரு ஈடுபாடான முடிவை நாம் அடைந்து விட்டோம். இந்திய மக்களே யாப்பை விதிப்பாக்கம் செய்தார்கள் என யாப்பின் ஆரம்பத்திலேயே விளம்புதல் சட்டத்தின் கண்களில் வெறும் பகட்டானது என அரசியல் நிருணய சபையினால் கடைசி வாக்கு எடுக்கப்பட்ட வேளையில் யாப்பு விளம்பப்பட்டது.”

1. இந்திய அரசாங்கத்தின் 1935 சட்டத்திருத்தத்திற்கான நோக்கம் என்ன?
.....
.....
2. மேற்கரப்பட்ட பந்திக்கமைய, இந்திய நீதிமன்றங்களில் எழுப்பப்படாத வினா என்ன?
.....
.....
3. அரசியல் நிருணய சபையினால் எடுக்கப்பட்ட நடவடிக்கைகள் தொடர்பாக பாகிஸ்தான் கூட்டு நீதிமன்றத்தின் தீர்மானம் யாது?
.....
.....
4. புதிய யாப்பின் கீழ் செயற்படும்போது இந்திய நீதிமன்றங்களின் அமர்வில் எது அங்கீகரிக்கப்பட்டது?
.....
.....
5. இந்திய அரசியல் யாப்பு இந்திய மக்களால் சட்டமாக்கப்பட்டது என ஆரம்பத்தில் குறிப்பிடப்பட்டமைக்கான காரணம் யாது?
.....
.....
6. இந்திய அரசாங்க 1935இன் சட்டத்தில் செய்யப்பட்ட இரண்டு திருத்தங்களைக் குறிப்பிடுக.
.....
.....
7. மேற்கரப்பட்ட பந்திக்கிணங்க, இந்தியாவிலும் பாகிஸ்தானிலும் அரசியல் யாப்பைத் தீர்மானிக்கும் செயன்முறையில் உள்ள அவதானிக்கக் கூடிய வித்தியாசம் யாது?
.....
.....
8. இந்தியாவிலும் பாகிஸ்தானிலும் அரசியல் யாப்புக்களுக்கான சட்டஉடன்பாடுகள் ஏற்படும் நோக்கில் இந்திய சுதந்திரக் கட்டளைச் சட்டத்தில் உள்ளடக்கப்பட்ட சட்டஉடன்பாடு யாது?
.....
.....



இலங்கைத் திறந்த பல்கலைக்கழகம்

சட்டக் கற்கைகள் திணைக்களம்

Teaching and learning
college

சட்டமாணி பட்டப் படிப்பு
அனுமதிப் பரீட்சை

கடந்த கால வினாப்பத்திரங்கள்
2006

TLC College offers LLB Entrance Exam classes in Tamil medium.

39/112

For details, contact 0772624039 or message on WhatsApp at the same number. Visit collegeoftlc.com for more information

இலங்கை திறந்த பல்கலைக்கழகம்
சட்டமாணி பட்டப்படிப்புத் திட்டம் - 2006
அனுமதிப் பரீட்சை
காலம் - 2 மணித்தியாலங்கள்

சுட்டிலக்கம் :

திகதி : 22 ஜனவரி 2006

நேரம்: மு.ப 10.00 ந.பகல் 12.00 வரை

விண்ணப்பதாரிகளுக்குரிய அறிவுறுத்தல்கள்:

■ இப்பரீட்சை மூன்று பிரத்தியேக வினாத்தாள்களை கொண்டது.

(அ) வினாத்தாள் I - பொது நுண்ணறிவு

(ஆ) வினாத்தாள் II - பொது அறிவு

(இ) வினாத்தாள் III - மொழிப்பரீட்சை

ஒவ்வொரு வினாத்தாளுக்கும் எவ்வாறு விடையளிப்பது?

■ வினாத்தாள் ஐ - பொது நுண்ணறிவு 40 வினாக்களை உள்ளடக்கியது. உமக்குத் வழங்கப்படும் விடைத்தாளில் எல்லா வினாக்களுக்கும் விடையளிக்க. தரப்பட்ட விடைகளுள் மிகவும் பொருத்தமான விடையைத் தெரிவு செய்து உமது விடைத்தாளில் தரப்பட்டுள்ள எழுத்துக்களில் பொருத்தமான ஒன்றுக்கு ஓ என்று அடையாளமிடுக. உதாரணமாக, ஒரு குறிப்பிட்ட வினாவுக்கு
(a) பொருத்தமான விடை என நீர் தீர்மானித்தால் அவ்வினா இலக்கத்திற்குரிய எழுத்தின் மீது
(a) X அடையாளமிடுக.

(a) (b) (c) (d) (e)

நீர் அடையாளமிட்ட விடை ஒன்றினை நீக்க விரும்பினால் அதனை தெளிவாக அழித்துவிடவும். குறிப்பிட்ட வினா ஒன்றுக்கு - ஒன்றுக்கு மேற்பட்ட X அடையாளம் இடப்பட்டிருந்தால் அவ்வினாவுக்குரிய புள்ளியை நீர் பெறமாட்டீர்.

வினாத்தாள் I இல் இருந்து அதற்குரிய விடைத்தாளை பிரித்தெடுக்க வேண்டாம்.

நீர் கணக்கிடும் கருவிகளையோ அல்லது அதனை ஒத்த வேறு கருவிகளையோ இப்பரீட்சைக்கு பயன்படுத்த அனுமதிக்கப்படமாட்டீர்.

■ வினாத்தாள் II - பொது அறிவு

40 வினாக்களை உள்ளடக்கியது. எல்லா வினாக்களுக்கும் அவ்வினாத்தாளிலேயே விடையளிக்க.

■ வினாத்தாள் III - மொழிப் பரீட்சை

இரண்டு பகுதிகளை உள்ளடக்கியது. பகுதி (அ) ஆங்கில மொழியையும் பகுதி (ஆ) சிங்களம் அல்லது தமிழ் மொழியையும் கொண்டது. பகுதி (அ) (ஆ) ஆகிய இரண்டிலும் காணப்படும் எல்லா வினாக்களுக்கும் அவ்வினாத்தாளில் தரப்பட்டுள்ள இடைவெளியில் விடையளிக்க.

மேற்பார்வையாளரால் எழுதுவதை நிறுத்தாமாறு அறிவிக்கப்பட்டவுடன் எழுதுவதை நிறுத்தவும். தரப்பட்டுள்ள இடைவெளியில் உமது சுட்டிலக்கத்தைக் குறிப்பிடவும்.

இவ்வறிவுறுத்தல்களைப் பின்பற்றாத தவறும் விண்ணப்பதாரிகள் தகுதியற்றவர்களாக்கப்படுவார்கள்.

THE OPEN UNIVERSITY OF SRI LANKA

BACHELOR OF LAWS DEGREE PROGRAMME - 2016

ADMISSION TEST - PAPER I (GENERAL INTELLIGENCE)

ANSWER SHEET

INDEX NO:

- | | | | | | | | | | | | |
|-----|-----|-----|-----|-----|-----|--|--|--|-----|-----|-----|
| 1. | (a) | (b) | (c) | (d) | (e) | | | | (c) | (d) | (e) |
| 2. | (a) | (b) | (c) | (d) | (e) | | | | (c) | (d) | (e) |
| 3. | (a) | (b) | (c) | (d) | (e) | | | | (c) | (d) | (e) |
| 4. | (a) | (b) | (c) | (d) | (e) | | | | (c) | (d) | (e) |
| 5. | (a) | (b) | (c) | (d) | (e) | | | | (c) | (d) | (e) |
| 6. | (a) | (b) | (c) | (d) | (e) | | | | (c) | (d) | (e) |
| 7. | (a) | (b) | (c) | (d) | (e) | | | | (c) | (d) | (e) |
| 8. | (a) | (b) | (c) | (d) | (e) | | | | (c) | (d) | (e) |
| 9. | (a) | (b) | (c) | (d) | (e) | | | | (c) | (d) | (e) |
| 10. | (a) | (b) | (c) | (d) | (e) | | | | (c) | (d) | (e) |
| 11. | (a) | (b) | (c) | (d) | (e) | | | | (c) | (d) | (e) |
| 12. | (a) | (b) | (c) | (d) | (e) | | | | (c) | (d) | (e) |
| 13. | (a) | (b) | (c) | (d) | (e) | | | | (c) | (d) | (e) |
| 14. | (a) | (b) | (c) | (d) | (e) | | | | (c) | (d) | (e) |
| 15. | (a) | (b) | (c) | (d) | (e) | | | | (c) | (d) | (e) |
| 16. | (a) | (b) | (c) | (d) | (e) | | | | (c) | (d) | (e) |
| 17. | (a) | (b) | (c) | (d) | (e) | | | | (c) | (d) | (e) |
| 18. | (a) | (b) | (c) | (d) | (e) | | | | (c) | (d) | (e) |
| 19. | (a) | (b) | (c) | (d) | (e) | | | | (c) | (d) | (e) |
| 20. | (a) | (b) | (c) | (d) | (e) | | | | (c) | (d) | (e) |

Date:

Signature of the Marking Examiner

40 வினாக்களுக்கும் வீடை தருக

உமக்கு தரப்பட்டுள்ள உரிய விடைத்தாளில் விடை அளிக்குக.

1. கடந்த பத்து வருட காலப்பகுதியில் என்றுமே இல்லாதவாறு இவ்வருடம் தேர்ந்தெடுக்கப்பட்ட சில உத்தியோகத்தர்கள் சுற்றாடல் சட்டவாக்கத்தை கூடுதலாக ஆதரிக்கின்றனர். தேர்ந்தெடுக்கப்பட்ட முப்பது உத்தியோகத்தர்களிடம் மேற்கொண்ட ஆய்வு ஒன்றின் படி, ஐந்து பேர் மாத்திரமே புதிய சுற்றாடல் சட்ட வாக்கத்திற்கு சுறுசுறுப்பான பிரச்சாரத்தை மேற்கொண்டனர். இது சுற்றாடல் தொடர்பான பொது மக்களின் அக்கறை நீண்ட காலமாக வளர்ச்சியடைந்தும், மிக கூடியளவாக வருகின்ற காலகட்டத்திலேயே ஏற்பட்டது.

மேலே தரப்பட்ட கூற்றில் இருந்து, பின்வரும் முடிவுகளில் மிக பொருத்தமாக பெற்றுக்கொள்கூடிய அனுமானம் எது?

- (a) தேர்ந்தெடுக்கப்பட்ட அதிகமான உத்தியோகத்தர்களுக்கு சுற்றாடல் சட்டவாக்கத்திற்கு ஆதரவளிப்பதற்குரிய அவசியம் ஏற்பட்டுள்ளது.
- (b) தேர்ந்தெடுக்கப்பட்ட உத்தியோகத்தர்கள் பொது மக்களுடைய அக்கறைகளை கருத்தில் எடுக்க தவறிவிட்டனர்.
- (c) புதிய சுற்றாடல் சட்டவாக்கத்திற்கு சுறுசுறுப்பாக பிரச்சாரங்கள் மேற்கொண்ட தேர்ந்தெடுக்கப்பட்ட ஐந்து உத்தியோகத்தர்களும் வாழ்த்தப்பட வேண்டும்.
- (d) சுற்றாடல் பாதுகாக்கப்பட வேண்டுமெனின், தேர்ந்தெடுக்கப்பட்ட உத்தியோகத்தர்கள் சுற்றாடல் சட்டவாக்கத்திற்கு ஆதரவளிக்க வேண்டும்.
- (e) தேர்ந்தெடுக்கப்பட்ட உத்தியோகத்தர்கள், தங்களுடைய வாக்காளர்களை உண்மையாக பிரதிநிதிப்படுத்துபவர்களாயின், அவர்களில் பொரும்பாலானோர் சுற்றாடல் சட்டவாக்குக்குரிய ஆதரவை அதிகரிக்க வேண்டும்.

2. எம்மால் முழுமையான தொண்டர் இராணுவத்தை பெற்றுக்கொள்ள வேண்டிய அவசியம் உத்தேசிக்கப்பட்டுள்ளது. இக்கொள்கை பல வருடங்களுக்கு முன்பு மட்டுப்படுத்தப்பட்ட அடிப்படையிலேயே முயற்சி செய்யப்பட்டதோடு இது முற்று முழுதாக தோல்வி அடைந்தது. இராணுவத்திரிடையே போதைவஸ்து பாவனை மற்றும் குற்றச் செயல்களின் தன்மை என்பவற்றின் மட்டம் உயர்வாக இருப்பதோடு தொண்டர் இராணுவத்தினருடைய கல்வி மட்டம் ஏற்றுக்கொள்ள முடியாத வகையில் குறைந்தளவாக இருக்கின்றது. நாம் எமது தேசிய பாதுகாப்பை தொண்டர் இராணுவத்திரிடம் ஒப்படைக்க முடியுமா? இதற்குரிய தெளிவான விடை, “இல்லை” என்பதாகும்.

பின்வரும் கூற்றுகள் உண்மையெனின், அக்கூற்றுகளில் முழுமையாக தொண்டர் இராணுவத்தை வலுவழக்கச் செய்யக்கூடிய வகையில் எழுத்தாளருடைய கோரிக்கைகளுக்கு மிகவும் வலுவூட்டக்கூடிய கூற்று எது?

- (a) முதன்முறையாக தொண்டர் இராணுவத்தை உருவாக்க முயற்சித்த காலத்தில் இருந்து பொது கல்வி மட்டம் உயர்வடைந்துள்ளது.
- (b) சமாதானத்துக்கான பிரஜைகள் என அழைக்கப்படும் ஒரு அமைப்பினால் இந்த உத்தேசவரைவு மேற்கொள்ளப்பட்டது.
- (c) இன்று நடைமுறையிலிருக்கும் அதே நிலைமைகளுக்கு அமையவே ஒரு தொண்டர் இராணுவத்தை உருவாக்குவதற்கான, முதல் முயற்சி ஏற்படுத்தப்பட்டது

- (d) படையில் சேர்த்துக்கொள்ளப்படுகின்ற ஒரு இராணுவத்தை விட ஒரு தொண்டர் இராணுவத்தை செயற்படுத்துவது செலவு குறைந்ததாக இருக்கும்.
- (e) தொண்டர் இராணுவம் ஒன்றை முதன்முறையாக முயற்சித்த காலத்தை விட இன்று தேவைப்படுகின்ற இராணுவத்தின் அளவு சிறியதாகும்.

3. உலக தரத்திலான மரதன் ஓட்டக்காரர்கள், தாம் பயற்சி பெறுகின்ற போது ஒரு நாளைக்கு ஆறு மைல்களுக்கு மேல் ஓட மாட்டார்கள். ஆகையால், ஒரு நாளைக்கு ஆறு மைல்களுக்கு மேல் ஓடினால் நீர் உலக தரத்தைகொண்ட ஓட்டவீரர் அல்ல.

மேற்கூறப்பட்ட வாதத்தை ஒத்த அதே அடிப்படையில் அந்த அனுமானத்தை பின்வரும் கூற்றுக்களில் எக்கூற்று ஆதரிக்கின்றது?

- (a) குறுந்தூரம் ஓடுபவர்கள் எப்பொழுதும் காலையில் ஓடுவார்கள். அது காலை வேளையாக இருப்பதுடன், யாராவது ஓடுவதை நீர் கண்டால் அவள் அல்லது அவன் ஒரு குறுந்தூர ஓட்டக்காரராக இருக்க முடியாது.
- (b) வர்ணம் எப்போதும் மூன்று மணித்தியாலங்களுக்கு குறைந்த நேரத்தில் உலராது அது மூன்று மணித்தியாலங்களுக்கு குறைவான காலப்பகுதியில் உலர்ந்தால் அது ஒரு வர்ணம் அல்ல.
- (c) சிறு கழக விளையாட்டு உண்மையிலேயே சிறுவர்களை விட பெற்றோர்களுக்கே மிகவும் சுவாரசியமான விளையாட்டாகும். ஆகையால், பெற்றோர்களை விளையாட்டில் ஈடுபடச்செய்தல் வேண்டும்..
- (d) காலையில் ஓர் கார் ஓட ஆரம்பித்தால், மாலையிலும் அது மீண்டும் ஓடுவதற்கான சந்தர்ப்பங்கள் உண்டு. எங்களுடைய கார் எப்போதும் காலையில் ஓட கூடியதாக இருப்பதோடு எப்போதும் மாலை வேளையிலும் அது ஓட கூடியதாக இருக்கும்..
- (e) நீர் ஒரு இரவில் நான்கு மணித்தியாலங்களுக்கு குறைவாக நித்திரை கொண்டால், நீர் உம்மை ஓர் ஆபத்துக்கு உள்ளாக்குகிறீர். மிக பயனுள்ள தூக்கம் ஐந்தாவது மணித்தியாலத்திலேயே நடைபெறுகிறது என்பதை ஆய்வுகள் காட்டுகின்றன.
4. அரசாங்கம் நான்கு வருடங்களுக்கு முன்பு பாடசாலையில் இருந்து விலகிய இளம் பருவத்தினர்களுக்கு வேலை தேடும்வரைக்கும் வழங்கப்படும் கொடுப்பனவுகளுக்கு பதிலாக இளைஞர் பயற்சி திட்டம் ஒன்றை அறிமுகப்படுத்தியது. 16- 17 வயது வரையானவர்களில் 150,000 பேருக்கு மேற்பட்டவர்கள் இன்றும் தொழில் வாய்ப்பற்ற நன்மைகளை பெற்றுக்கொண்டிருக்கின்றனர்.

பின்வரும் கூற்று ஒவ்வொன்றும் உண்மையாயின், அக்கூற்றுக்களில் கீழே கூறப்பட்ட ஒரு கூற்றை மட்டும் தவிர்த்து ஏனையவை மேலே கூறப்பட்ட பந்தியை உறுதிப்படுகிறது

- (a) இத்திட்டம் சுவாரசியமற்ற வேலையை வழங்குகிறது.
- (b) திட்டத்தினை பூர்த்தி செய்யும் எல்லா பட்டதாரிகளுக்கும் வேலை வாய்ப்பை பெற்றுக் கொடுப்பது கடினமாகும்.
- (c) 16 - 17 வயது வரையான இளைஞர்களின் எண்ணிக்கை கடந்த நான்கு வருடங்களில், அதிகரித்துள்ளது.
- (d) தொழில்வாய்ப்பற்ற கொடுப்பனவுகள், நிச்சயமாக இருப்பதோடு எதிர்காலத்தில் சம்பளங்கள் நிச்சயமற்ற ஒன்றாக இருக்கின்றது.
- (e) இளைஞர்களுக்கு திட்டத்தினுடைய நன்மைகளை பற்றிய அறிவு இல்லை.
5. “உத்தியோகபூர்வ மரணதண்டனையின் மூலமாக நேர்த்தியாக்கப்பட்ட கொலை செய்யும் மனோபாவத்தை கொண்ட கொலைகாரர்களினால் பெருமளவு மக்கள் கொலை செய்யப்படுகிறார்கள். 1977ம் ஆண்டில் இருந்து ஆகக் குறைந்த உத்தியோக பூர்வ மரணதண்டனை நிறைவேற்றுகை 66% வீதமாக அதிகரித்துள்ளது. மரண தண்டனை விதிக்கப்பட்ட ஒவ்வொரு 1,788 சிறைக்கைதிகளுக்கும் மரண தண்டனை விதிக்கப்பட்டால், அதன் விளைவொன்றாக, 7152 மேலதிக கொலைகள் நடைபெறும்”:

பின்வரும் கூற்றுகள் உண்மையாக வரின்,
பின்வருவற்றில் எது உண்மையாக மேற்கூறப்பட்ட வாதத்தை முறியடிக்கும்?

- (a) மரணதண்டனைக்கும் மரணதண்டனைக்கான கொலைகளின் வீதம் ஐக்கு 1.66
- (b) கொலைகளுக்கும் மரணதண்டனைக்கும் தொடர்பு எதுவும் இல்லை.
- (c) சித்திரவதை குற்றச்செயல்களின் சம்பவங்கள் அதிகரித்துள்ளதால் மரணதண்டனை நடைமுறைப்படுத்தப்படுகிறது.
- (d) மரண தண்டனை ஒழிக்கப்படுதல் வேண்டும்.
- (e) மரண தண்டனை விதிக்கப்பட்ட எல்லா கைதிகளுக்கும் மரணதண்டனை நிறைவேற்றப்படக் கூடாது.

6. பின்வரும் இலக்கங்களில் .0017சதுர அடிக்கு மிக அண்மித்த இலக்கம் எது?

- (a) .005
- (b) .05
- (c) .13
- (d) .4
- (e) .04

7. நீள்சதுரம் ஒன்றின் நீளம் 20% த்தினால் அதிகரித்து அதனுடைய அகலம் 20முஇ த்தினால் குறைவடையின் அப்பகுதி

- (a) 20% த்தினால் குறைவடையும்
- (b) 4% த்தினால் குறைவடையும்
- (c) அதே அளவில் இருக்கும்
- (d) 10% த்தினால் அதிகரிக்கும்
- (e) 20% த்தினால் அதிகரிக்கும்

8. திரு.டோனி பங்குகளை ரூபா. 1இ500 க்கு கொள்வனவு செய்து அதனுடைய பெறுமதி இரண்டு மடங்கினால் அதிகரித்த பின்பு அதில் 2/3 னை விற்பனை செய்தார். அவர் எஞ்சிய பங்கினை அதன் கொள்விலையில் ஐந்து மடங்காக விற்பனை செய்தார். இந்த பங்கின் மூலமாக அவர் பெற்ற மொத்த இலாபம் எவ்வளவு?

- (a) ரூபா. 1,500
- (b) ரூபா. 2,000
- (c) ரூபா. 2,500
- (d) ரூபா. 3,000
- (e) ரூபா. 6,000

9. B என்ற நகரம் யு.என்ற நகரத்திலிருந்து எட்டு மைல்கள் கிழக்கில் இருந்தது. ஊஎன்ற நகரம்; Bஎன்ற நகரத்திலிருந்து 16 மைல்கள் கிழக்கே இருந்ததோடு E என்ற நகரம் D.என்ற நகரத்திலிருந்து 12 மைல்கள் வடக்கே இருந்தது. Aநகரத்திலிருந்து Eநகரத்திற்கிடையிலான குறுகிய தூரம் என்ன?

- (a) 10 மைல்கள்
- (b) 20 மைல்கள்
- (c) 24 மைல்கள்
- (d) 30 மைல்கள்
- (e) 42 மைல்கள்

10. மணித்தியாலத்திற்கு 50 மைல்கள் ஓடியிருக்கின்ற ஒரு கார் ஒரு கலன் வாயுவைக்கொண்டு 15 மைல்கள் ஓடும். கார் மணித்தியாலத்திற்கு 60 மைல்கள் ஓடியிருக்கின்றபோது 80% ஆன தூரம் மாத்திரமே ஓடும். மணித்தியாலத்திற்கு 60 மைல்கள் வேகத்தில் 120 மைல்கள் பிரயாணம் செய்வதற்கு எத்தனை கலன் வாயு தேவைப்படும்.?

- (a) 2
- (b) 6.4
- (c) 8
- (d) 9.6
- (e) 10

11. .05 இனை 3ஆல் பெருக்கினால்
 (a) 15% (b) 1.5% (c) .15% (d) .015% (e) .0015%
12. பாடசாலை நூலகத்தில் ஒவ்வொரு நாவலுக்கும் இரண்டு விஞ்ஞான புத்தகங்கள் விகிதம் இருந்தன. ஒவ்வொரு விஞ்ஞான புத்தகத்திற்கும் ஏழு பொருளியல் புத்தகங்கள் விகிதம் இருந்தன. பாடசாலை நூலகத்தில் இருக்கும் பொருளியல் புத்தகங்கள் மற்றும் விஞ்ஞான புத்தகங்களுக்கான நாவல்கள் என்பவற்றுக்கிடையிலான விகிதங்களை குறிப்பிடுக.
 (a) 7:2:1 (b) 7:1:2 (c) 14:7:2 (d) 14:2:1 (e) 14:2:7

13-15 வரையிலான வினாக்களுக்கு பின்வரும் அட்டவணையை பயன்படுத்துக.
 தொழிற்சாலை ஒன்றில் வேலை மணித்தியாலங்களின் பங்கீடு

வேலையாட்களின் எண்ணிக்கை	வேலைசெய்யப்பட்ட மணித்தியாலங்களின் எண்ணிக்கை
20	45-50
15	40-44
25	35-39
16	30-34
04	0-29
மொத்தம் 80	3,100

13. எத்தனை வீதமான வேலையாட்கள் 40 அல்லது அதற்கு கூடுதலான மணித்தியாலத்திற்கு வேலை செய்துள்ளார்கள்?
 (a) 18.75 (b) 25 (c) 33.33 (d) 40 (e) 43.75
14. 40 - 44 மணித்தியாலங்கள் வரை வேலை செய்த வேலையாட்களின் எண்ணிக்கை, 29 மணித்தியாலங்கள் வரை வேலைசெய்தவர்களின் எண்ணிக்கையில் X மடங்காகும். இங்கு X என்பது
 (a) 15/16 (b) 3 3/4 (c) 4 (d) 5 (e) 6 1/4
15. மேலே தரப்பட்ட அட்டவணையில் இருந்து கருதிக்கொள்ளக்கூடிய கூற்று பின்வருவனவற்றுள் எது?
 (1) ஒவ்வொரு வேலையாளினாலும் வேலை செய்யப்பட்ட சராசரி மணித்தியாலங்களின் எண்ணிக்கை 40ற்கு குறைவாகும்.
 (2) ஆகக்குறைந்தது முன்று பேர் 48 மணித்தியாலங்களுக்கு மேலதிகமாக வேலை செய்துள்ளனர்
 (3) மொத்த வேலையாட்களில் அரைவாசிக்கு மேற்பட்டோர் 40 மணித்தியாலங்களுக்கு மேலதிகமாக வேலை செய்துள்ளனர்..

- (a) 1 வது மாத்திரம் (b) 2 வது மாத்திரம் (c) 1வது ரு 2 வது மாத்திரம்
(d) 1 வதுரு 3 வது மாத்திரம் (e) 1இ 2 ரு 3 என்பன

16. பிரேன் புபுதுவை விட உயரமானவர்.
யூலி புபுதுவை விட உயரமானவர்.
சுசி யூலியைவிட உயரமானவர்
டெக் பிரேனைவிட உயரமானவர்

மேற்கூறப்பட்ட தகவல்கள் உண்மையாயின், பின்வரும் கூற்றுக்களில் எக்கூற்று உண்மையானது

- (a) பிரேன் யூலியைவிட உயரமானவர்
(b) டெக் புபுதுவை விட உயரமானவர்
(c) சுசி டெக்கைவிட கட்டையானவர்
(d) பிரேன் யூலியைவிட கட்டையானவர்
(e) புபுது யூலியைவிட உயரமானவர்.

17. அநேகமான மக்கள் தங்கம் மற்றும் பிலாட்டினம் இரண்டும் கூடிய பெறுமதிவாய்ந்த பண்டங்கள் என நம்புகின்றனர். எவ்வாறாயினும் உண்மையான தொழில் முயற்சியாளர் ஒருவருக்கு தன்னை மேலும் செல்வந்தன் ஆக்கக்கூடிய சந்தர்ப்பங்களை காட்டிலும் தங்கம், பிலாட்டினம் என்பவற்றின் பெறுமதி குறைவாக இருக்கின்றது. ஆகையால் உயர் நிதி விடயத்தை பிரபல்யமாக கொண்டுள்ள உலகத்திலே தகவல் என்பதே மிகக்கூடிய பெறுமதிவாய்ந்த பண்டமாகும். இப்பந்தியை எழுதிய எழுத்தாளர் பின்வருவனவற்றுள் எதனை கருதியுள்ளார்?

- (a) தங்கம், பிலாட்டினம் என்பன கூடிய பெறுமதிவாய்ந்த பண்டங்கள் அல்ல
(b) தொழில் முயற்சியாளர்கள் பெரும்பாலான மக்களைப்போன்றவர்கள் அல்ல
(c) தகவல்களுடைய பெறுமதி கணக்கிடப்படமுடியாத அளவு உயர்பெறுமதி கொண்டது
(d) வியாபார வாய்ப்புகள் தொடர்பான தகவல்கள் சரியாக இருப்பதோடு செல்வத்தை அதிகரிக்க இது ஒரு வழியாகும்
(e) தொழில் முயற்சியாளர்கள் மாத்திரமே தகவல்கள் கூடிய பெறுமதி வாய்ந்த பண்டமென உணர்கின்றனர்

18. அமெரிக்காவில் தயாரிக்கப்படுகின்ற கார்களில் 22மூ ஆன கார்கள் மிச்சிக்கவில்லை உற்பத்தி செய்யப்படுகின்றது. அமெரிக்காவில் உற்பத்தி செய்யப்படும் கார்களின் மொத்த எண்ணிக்கை 40 மில்லியன் எனில் மிச்சிக்கலுக்கு வெளியே எத்தனை கார்கள் உற்பத்தி செய்யப்படுகின்றன?

- (a) 4.4 மில்லியன் (b) 8.8 மில்லியன் (c) 15மில்லியன் (d) 27மில்லியன் (e) 31.2 மில்லியன்

19. கடந்த வருடம் 6 பாடநெறிகளை எடுத்த ஒரு மாணவன் 90 சராசரி தரத்தை பெற்றுக்கொண்டான். அவ் வருடத்திற்கு முன்பு, அம்மாணவன் 5 பாடநெறிகளை எடுத்து 100 சராசரி தரத்தை பெற்றுக்கொண்டான். மொத்தமாக இரண்டு வருட காலப்பகுதியின் போதான மாணவனுடைய கிட்டிய சராசரி தரம் என்ன?

- (a) 79 (b) 89 (c) 94.5 (d) 5 (e) 97.2

20. 180 பக்கங்களைக் கொண்ட அறிக்கை ஒன்றை தட்டச்சு செய்யவென மூன்று தட்டெழுத்தாளர்கள் வாடகைக்கு அமர்த்தப்பட்டனர். யுன்ற தட்டெழுத்தாளருக்கு மணித்தியாலம் ஒன்றிற்கு நான்கு பக்கங்களை தட்டச்சு செய்யக்கூடியதாகவும், தட்டெழுத்தாளர் டீக்கு மணித்தியாலம் ஒன்றிற்கு ஐந்து பக்கங்களையும் தட்டெழுத்தாளர் ஊக்கு மணித்தியாலம் ஒன்றிற்கு ஆறு பக்கங்களையும் தட்டச்சுசெய்யக்கூடியதாக இருந்தது. மூன்றுபேரும் தமக்கு வழங்கப்பட்ட தொகை அடிப்படையில் தமது வேகத்திற்கு ஏற்ப தொடர்ச்சியாக அறிக்கை முடிவுறும்வரை வேலை செய்து இருப்பின் தட்டெழுத்தாளர் யுயினால் அறிக்கையில் எந்தளவு பகுதி தட்டச்சு செய்யப்பட்டு இருக்கும்?
- (a) 2/9 (b) 4/15 (c) 1/3 (d) 4/9 (e) 2/3
21. அதிகரித்து செல்லும் கேள்வியை தக்கவைத்துக்கொள்ளக்கூடிய வகையில் தொழிற்சாலை ஒன்றினுடைய வெளியீடு 10மூ த்தினால் அதிகரித்தது. கிறிஸ்மஸ் தேவைகளை கையாளக்கூடிய வகையில் புதிய வெளியீடுகள் 20மூ த்தினால் அதிகரித்தது. ஆரம்ப வெளியீட்டை பழைய நிலைக்கு கொண்டுவரக்கூடிய வகையில் உற்பத்தியில் தற்போது குறைக்கவேண்டிய அண்ணளவான வீதம் எவ்வளவு?
- (a) 20% (b) 24% (c) 30% (d) 32% (e) 70%
22. “ஐக்கிய அமெரிக்கா பல மில்லியன் டொலர்களை பிலோனியாவுக்கு வெளிநாட்டு உதவியாக வழங்குகிறது. பிலோனியாவின் தலைவர்கள் வெளிநாட்டு உதவியை ஆட்சேபித்தனர். ஐக்கிய அமெரிக்கா பிலோனியாவுக்கான நேரடி வெளிநாட்டு உதவியை நிறுத்தவேண்டும் ”
- பின்வரும் கூற்றுக்கள் உண்மையெனின் பின்வருவனவற்றுள் மேற்போந்த வாதத்தை முறியடிக்கும் கூற்று எது?
- (ய) பிலோனியாவுக்கு வெளிநாட்டு உதவி தேவையில்லை.
 (டி) பிலோனியா அபிவிருத்தியடைந்து வரும் நாடு ஒன்றல்ல.
 (உ) பிலோனியா சர்வாதிகாரியால் ஆளப்படுகின்றது.
 (ன) பிலோனியாவின் சென்மதி நிலுவை மிகுதியாகவுள்ளது.
 (ந) பிலோனியாவின் பொருளாதாரம் வளர்ச்சி அடைந்து வருகிறது
23. மிகப்பொருத்தமான விடையை தெரிவுசெய்க. டீனுகுடி ஊகுடி ஊர்டுடி ?
- (a) EIM (b) CJM (c) EJO (d) EMI (e) EFL
24. 20அடி நீளமும் 100அடி அகலமும் கொண்ட நீள்சதுர வயலொன்றை அடைக்க எத்தனை அடி கம்பிகள் தேவைப்படும்.
- (a) 120அடி (b) 140 அடி (c) 2000அடி (d) 240 அடி (e) 200அடி
25. வண்டிகள் நிறுத்தும் இடம்மொன்று 300 வாகனங்களை கொண்டிருந்தன. அதில் 30 வீதமானவை டிறக் வண்டிகள். 15 டிறக் வண்டிகள் உட்பட அந்த இடத்திலிருந்து வாகனங்களில் 20 வீதமானவை டீசல் வாகனங்கள் ஆகும். டிறக் வண்டி அல்லது டீசல் வாகனங்கள் தவிர்ந்த ஏனைய வாகனங்கள் எத்தனை வீதம் அந்த இடத்தில் இருந்தன.?
- (a) 165% (b) 90% (c) 65% (d) 55% (e) 10%

26. 1980ஆம் ஆண்டு குடும்பமொன்றினுடைய வாழ்க்கைச்செலவு ரூபா. 120இ000. 1998ஆம் ஆண்டு இந்தத்தொகை ரூபா.180,000ஆல் அதிகரித்தது. வாழ்க்கைச்செலவு எத்தனை விதத்தினால் அதிகரித்துள்ளது?
- (a) 60% (b) 50% (c) 55% (d) 40% (e) 33%
27. 20% வட்டி தருகின்றதும், அரைவருடத்திற்கு ஒருமுறை கணக்கிடப்படும் கணக்கொன்றில் 100ரூபாவின் திரு. லால் வைப்புச்செய்தார். வருடமுடிவின் போது எவ்வளவு பணம் கணக்கில் இருக்கும்?
- (a) ரூபா. 118 (b) ரூபா. 120 (c) ரூபா. 121 (d) ரூபா. 122
(e) ரூபா.௧௪ 140
28. கல்லூரி ஒன்றில் சித்தியடைந்து சென்ற மாணவர்களில் அரைவாசி பகுதியினர் வர்த்தகப் பாடசாலையொன்றில் சேர்த்துக்கொள்ளப்பட்டனர். முன்றில் ஒரு பகுதியினர் சட்டப்பாடசாலையொன்றில் சேர்த்துக்கொள்ளப்பட்டனர். ஐந்தில் ஒரு பகுதியினர் இரண்டு வகையான பாடசாலையிலும் சேர்த்துக்கொள்ளப்பட்டனர். வெளியேறிச்சென்ற மாணவர்களில் சட்டப்பாடசாலையில மட்டும் சேர்த்துக்கொள்ளப்பட்ட மாணவர்களின் தொகை என்ன?
- (a) 1/60 (b) 2/15 (c) 1/3 (d) 1/2 (e) 4/5
29. கடந்த நான்கு வருடங்களில் கொம்பனியொன்றின் இலாபம் ஒவ்வொரு வருடமும் இரண்டு மடங்காக அதிகரித்தது. இந்நிலை தொடர்ந்து இருந்து வருகிறது. கடந்த நான்கு வருடங்களில் மொத்த இலாபங்கள் ரூபா 30 மில்லியனாக இருப்பின் செயல்பாட்டில் முதல் வருட இலாபங்கள் எவ்வளவாக இருந்து இருக்கும்?
- (a) ரூபா. 1மில்லியன் (b) ரூபா. 2மில்லியன் (c) ரூபா 4 மில்லியன்
(d) ரூபா 4.5மில்லியன் (e) ரூபா. 6 மில்லியன்
30. பாம், சூ ஆகிய இருவரும் ஒரே காரில் 120 மைல்களுக்கு அப்பால் நடைபெற்ற வியாபார கூட்டமொன்றிற்காக பிரயாணம் செய்தனர். பாம் கூட்டத்திற்கு செல்கின்ற போது வாகனத்தை செலுத்தினார். அதே பாதையில் திரும்ப வரும்போது சூ காரை ஓட்டி வந்தான். மணித்தியாலம்மொன்றிற்கு பாம் 60மைல்கள் வேகத்திலும் சூ 50மைல்கள் வேகத்திலும் காரை ஓட்டி இருப்பின் ஒரே அளவு தூரத்தை பிரயாணம் செய்வதற்கு பாம்மை விட சூ விற்கு எடுத்த காலத்தை நிமிடங்களில் குறிப்பிடுக.
- (a) 4 (b) 10 (c) 20 (d) 24 (e) 30
31. கொம்பனி ஒன்று அதனுடைய முதல் 1000ரூபா, விற்பனைகளில் ஒவ்வொரு நாளும் 6ரூ இலாபத்தை பெற்றுக்கொண்டதோடு அன்றைய தினத்தில் 1000ரூபாவிற்கு மேற்பட்ட விற்பனையில் 5ரூ இலாபத்தை பெற்றுக்கொள்ளும். ரூபா 6000 த்திற்கு விற்பனையை ஒரு நாளில் கொம்பனி மேற்கொள்ளும்போது எத்தனை ரூபாவை இலாபமாக பெறும்?
- (a) ரூபா. 250 (b) ரூபா.300 (c) ரூபா.310 (d) ரூபா.. 320
(e) ரூபா. 360

32. பால் பக்கட் ஒன்றின் விலை தற்போது ரூபா 10ஆகவும் ஒவ்வொரு மாதங்களுக்கு ஒரு முறையும் அவ்விலை மூன்று மடங்காக அதிகரிக்கும், எனின் பக்கட் ஒன்றின் விலை ரூபா 810ஆக வருவதற்கு எவ்வளவு காலம் எடுக்கும்?
- (a) 1வருடம் (b) 2 வருடங்கள் (c) 2 ½ வருடங்கள் (d) 13 வருடங்கள் (e) 13 ½ வருடங்கள்
33. ஒரு குறிப்பிட்ட தொழிற்சாலை 92கட்டளைகளால் நிரப்பப்பட்டது. கோப்பில் இருக்கும் மொத்த கட்டளைகளின் எண்ணிக்கை 230ஆக இருப்பின் எத்தனை வீதமான கட்டளைகள் நிரப்பப்பட்டுள்ளது?
- (a) 20 (b) 30 (c) 40 (d) 50 (e) 60
34. கார் கழுவும் நிலையமொன்று 18 நிமிடங்களுக்கு 8கார்களை கழுவக்கூடியதாகும். இதே அடிப்படையில் மூன்று மணித்தியாலங்களில் எத்தனை கார்களை அந்நிலையத்தினால் கழுவக்கூடியதாக இருக்கும்?
- (a) 13 (b) 40.5 (c) 80 (d) 125 (e) 405
35. 5, 11, 17,...என்ற இலக்கத்தொடரில் அடுத்து தொடர்ந்து வரும் இலக்கம் என்ன?
- (a) 18 (b) 22 (c) 23 (d) 28 (e) 33
36. 2,3,6,15,42, ... என்ற இலக்கத்தொடரில் அடுத்து தொடர்ந்து வரும் இலக்கம் என்ன?
- (a) 84 (b) 123 (c) 94 (d) 60 (e) 72
37. குறிப்பிட்ட நகரமொன்றில் 40%ஆனவர்களுக்கு பழுப்பு நிறமான தலைமயிரும் 25% ஆனவர்களுக்கு பழுப்பு நிறமான கண்களும், 10%ஆனவர்களுக்கு பழுப்பு நிறமான தலைமயிரும் பழுப்புநிறமான கண்கள் ஆகிய இரண்டும் இருந்தன. பழுப்புநிறமான தலைமயிரையேர், கண்களையேர். கொண்டிராதவர்கள் நகரத்தில் எத்தனை வீதமாக இருந்தனர்?
- (a) 35 (b) 40 (c) 45 (d) 50 (e) 55
38. குழியொன்றை அகழ்வதற்கு 50 வேலையாட்களுக்கு 4 மணித்தியாலங்கள் எடுத்தால் 30 வேலையாட்களுக்கு அதே குழியை அகழ்வதற்கு எவ்வளவு காலம் எடுக்கும்?
- (a) 2 மணித்தியாலங்கள் 24 நி.மி. (b) 5 மணித்தியாலங்கள் 12 நி.மி. (c) 6 மணித்தியாலங்கள் 12 நி.மி. (d) 6 மணித்தியாலங்கள் 20 நி.மி. (e) 6 மணித்தியாலங்கள் 40 நி.மி.


39. ஒரு சிறுவன் தன்னுடைய கிராமத்தில் இருந்து மணித்தியாலத்திற்கு 3 கிலோ மீற்றர் வேகத்தில் பாடசாலைக்கு சென்று, மணித்தியாலத்திற்கு 2 கிலோ மீற்றர் வேகத்தில் மீண்டும் திரும்பி வருகிறான். எல்லாமாக 5 மணித்தியாலங்கள் அவன் எடுத்தால் கிராமத்திற்கும் பாடசாலைக்கும் இடையிலான தூரம் எவ்வளவு?

(a) 6 கி.மீ (b) 3 கி.மீ (c) 4 கி.மீ (d) 4.6 கி.மீ (e) 5 கி.மீ

40. 4, 12, 36 ... என்ற இலக்கத்தொடரில் அடுத்து தொடர்ந்து வரும் இலக்கம் என்ன?
3 3 108

(a) 44 (b) 60 (c) 72 (d) 108 (e) 144

பதிப்புரிமையுடையது



TLC

Teaching and learning
college

Continued **Paper II** (General Knowledge)

வினாத்தாள் II - பொது அறிவு

இவ்வினாத்தாளுக்கு 100 புள்ளிகள் வழங்கப்படும்

40 வினாக்களுக்கும் விடை தருக.

1. மெக்னா கார்டா (Magna Carta) ஒப்புந்தம் எவ்வருடம் கைச்சாத்திடப்பட்டது? 1215
2. உலக உதைப்பந்தாட்ட, சபையினால் கடந்த டிசம்பர் மாதம் '2005ம் வருடத்துக்கான ஐரோப்பிய உதைப்பந்தாட்டக்காரர்' எனபெயரிடப்பட்ட உதைப்பந்தாட்ட விளையாட்டு வீரரின் பெயர் என்ன? Ronaldo
3. ரக்பி உதைப்பந்தாட்ட அணி ஒன்றில் எத்தனை விளையாட்டு வீரர்கள் இடம் பெறுவர்? 15 Players
4. ரஸ்கோல்னிவ்கோவ் என்ற பாத்திரம் எந்த ரய நா்வலில் இடம் பெறுகிறது? Crime and punishment
5. ஐக்கிய அமெரிக்காவின் எந்த நகரம் 'கட்ரினா' என்ற குறாவளியினால் மிக மோசமாக பாதிக்கப்பட்டது? Florida
6. "நீர் சொல்வதை நான் மறுக்கிறேன் ஆனால் அதை சொல்வதற்கான உமது உரிமையை நான் எனது மரணம் வரையும் காப்பாற்றுவேன்" என்ற பிரசித்தமான கூற்றை செய்தவர் யார்?
7. 20ம் நூற்றாண்டின் ஆரம்ப காலப்பகுதியில் பிரிட்டி இடம் இருந்து இலங்கைக்கு சுதந்திரம் பெற்றுக்கொள்ளும் பொருட்டு ஏனைய சிங்கள தலைவர்களுடன் சேர்ந்து சண்டையிட்ட இரண்டு தமிழ் சகோதரர்களின் பெயர்களை குறிப்பிடுக? பிரேமசாமி, சிவசாமி
8. கொலம்பியா நாட்டின் தலைநகரம் எது? Bogota
9. வத்திக்கான் நகரத்துடைய நிலப்பரதேசம் எது? 0.17 square meter, 10.44 sq
10. மனித மற்றும் பிரசைகளுடைய உரிமைகளுக்கான பிரான்சிய பிரகடனம் எந்த வருடம் ஆக்கப்பட்டது? B.C. 1789
11. 2005 ஆண்டு வழங்கப்பட்ட சமாதானத்துக்கான நோபல் பரிசு தனிப்பட்ட ஒருவருக்கும் மற்றும் ஒரு அமைப்புக்கும் இடையே பகிரந்தளிக்கப்பட்டது. அந்த நிறுவனத்தினுடைய பெயர் சர்வதேச எடோமிக் எனர்ஜி ஏஜன்சி (International Atomic Energy Agency) அதனை பகிரந்து கொண்ட தனிப்பட்டவரின் பெயர் என்ன? Mohamed Elbaradei
12. இலங்கையில் கைப்பற்றியிருந்த டச்சு உடமைகள், விதிமுறையாக, 1802ம் ஆண்டு ஒப்புந்தம் ஒன்றை கைச்சாத்திட்ட பின்னர் பிரிட்டி இடம் ஒப்படைக்கப்பட்டது. அந்த ஒப்புந்தத்தினுடைய பெயர் என்ன? ஒப்பந்தம்

13. முஸ்லிம் திறந்தவர்களிடையேயான திருமணம் தொடர்பான விடயங்களை கையாளும் நீதிமன்றத்தின் பெயர் என்ன?
..... *சூபி நீதிமன்றம்*
14. “டிஸ்கவரி ஓப் இந்தியா” என்ற புத்தகத்தை எழுதியவர் யார்?
..... *சுமந்திரன்*
15. 2004 டிசம்பர் மாதம் 2,000,000 மக்களுக்கு மேற்பட்டவர்களை தாக்கியதும் இந்தியா சமுத்திரத்தில் சுனாமியால் மிகவும் மோசமாக பாதிப்படைந்ததும்மான, குறிப்பிட்ட பிரதேசத்தின் பெயரை குறிப்பிடுக. *Andhra Pradesh*
16. தெற்காசிய வலய நாடுகள் கூட்டமைப்பின் தற்போதைய தலைவர் யார்?
..... *Amjad Ali Khan*
17. 2005ம் ஆண்டு பலப்படியாக்க முறைமையின் கீழ்(Cloned) பிறந்த முதலாவது நாய்க்கு வழங்கப்பட்ட பெயர் என்ன? *Sunny*
18. பாகிஸ்தான் அதிகாரத்தை செலுத்திவரும் க்மிரில் 75,000 மக்களை பலிகொண்ட புவிநடுக்கம் 2005ம் ஆண்டு எந்த திகதியில் ஏற்பட்டது?
19. 1997ம் ஆண்டு கணினிக்கும் தனக்கும் இடையே நடந்த செஸ் ஆட்டத்தில் Dee Blue என்ற அழைக்கப்படும் கணினி ஒன்றினால் தோற்கடிக்கப்பட்ட உலக செஸ் செம்பியனுடைய பெயர் என்ன? *Gary Kasparov*
20. வலு வேறாக்க கோட்பாடு என்ற நவீன கோட்பாட்டை உருவாக்கியவர் யார்?
..... *வினசுலாவு*
21. இரண்டாவது உலக மகாயுத்தத்தின் பின்னர் மிக முக்கியமான யுத்த குற்றங்கள் தொடர்பான விசாரணை ஜேர்மனியில் இருக்கும் நகரம் ஒன்றில் நடைபெற்றது, அதனை அடுத்து அந்த விசாரணையை அந்த நகரத்தின் பெயரை கொண்டு அழைக்கப்படுகிறது. அந்த ஜேர்மனிய நகரத்தினுடைய பெயர் என்ன?
..... *நூர்ன்பெர்க்*
22. 1947ம் ஆண்டு சோல்பரி அரசியல்யாப்பின் கீழ் இருந்த இலங்கையின் அதிஉயர் மேன்முறையீட்டு நீதிமன்றம் எது??
23. இலங்கையின் கட்டாய கல்வி விதிகளுக்கு அமைய ஒரு பிள்ளை ஒரு குறிப்பிட்ட வயது வரை விதிமுறையான கல்வியை பாடசாலை ஒன்றில் இருந்து பெற வேண்டும். அந்த வயது என்ன?
24. இரத்தம் கட்டியாகும் தன்மை இல்லாத பண்டினால் பரம்பரையாக தொடர்ந்து வருகின்ற இரத்தம் சம்பந்தமான நோயை எப்பெயரால் குறிப்பிடுவர்? *ஹெமோபிலா*
25. சார்க் அமைப்பின் அண்மையில் அங்கத்துவம் பெற்ற நாடு எது? *Afghanistan*
26. “Arround the world in eighty days” என்ற பிரசித்தமான கட்டுக்கதையை எழுதியவர் யார்?..... *Jules verne*
27. கிரேக்க நாட்டில் மவுன்ட் ஒலிம்பஸில் வணங்கப்படும் ஒலிம்பிக் விளையாட்டின் கடவுள் பெயர் என்ன? *Zeus*
28. உலக மனித உரிமைகள் தினம் வருடத்தில் எந்த மாதம் வருகிறது? *December 10*

29. தற்போதைய பதவிக்கு நவம்பர் 2005ம் ஆண்டு தெரிவு செய்யப்பட்ட ஜேர்மனியின் முதல் பெண் வேந்தரின் பெயர் என்ன?...*Angela..market*.....
30. சர்வதேச நீதி நியாயமன்றம் எங்கே அமைந்துள்ளது? *Nedharlands.. Hague*.....
31. ஆண் ஒருவர் குறிப்பிட்ட ஒரு வயதுக்கு குறைந்த பெண்ணுடன் அவளுடைய சம்மதம் பெற்றோ அல்லது சம்மதம் பெறாமலோ உடல் உறவு கொண்டால் அவர் பாலியல் வல்லுறவு குற்றம் ஒன்றை புரிந்ததாக கொள்ளப்படுவார்? அந்த வயது என்ன??
.....
32. உடலில் எந்த பாகம் இன்குலின் என்ற பதார்த்தத்தை சுரக்கிறது?
.....*Pancreas (கணை)*.....
33. வட அமெரிக்காவை கண்டு பிடித்த கொலம்பஸ் வட அமெரிக்க வாசிகளை ஏன் சிவப்பு இந்தியர்கள் என பெயரிட்டார்?*சிவநிற கண்கள் கொண்ட இடம் சிவப்பினரை நினைத்த காரணம்*.....
34. ¹⁹⁹¹ ~~1991~~ எந்த வருடம் விதி முறையாக 15 நாடுகளிடையே பிரிக்கப்பட்டது?
.....*1991*.....
35. இரண்டு பிரதான நபர்களே வேறுபட்ட விடயங்களுக்காக இரண்டு முறை நோபல் பரிசை பெற்றனர். அதில் ஒருவர் மேரி கியூரி. மற்றைய பிரதான நபர் யார்?
.....*Lise..pauling*.....
36. 2005ம் ஆண்டு நடந்த 77வது ஒஸ்கார் விருது வைபவத்தில் சிறந்த திரைப்பட விருதை பெற்ற படத்தின் பெயர் என்ன?*Crash*.....
37. எந்த நாட்டினுடைய முன்னால் ஜனாதிபதிக்கு பிறகு ராமன் மெக்சாசை என்ற விருது பெயரிடப்பட்டது?*மெக்சிகோ*.....
38. பெய்ரூடில் பயங்கரவாத குண்டு சம்பவம் ஒன்றில் 2005ம் ஆண்டு பெப்ரவரி 14ம் திகதி இறந்த முன்னாள் லெபனானிய பிரதம மந்திரியின் பெயரை குறிப்பிடுக.
.....*Rafiq..Hariri*.....
39. அமெரிக்காவுடைய தற்போதைய இராஜாங்க செயலாளர் யார்? *ஐக்கிய அமெரிக்கா*
40. ஈராக்கிற்கான UN எண்ணெய் உணவு நிகழ்ச்சித்திட்டத்தின் ஊழலில் ஈடுபட்டு இலாபம் அடைந்துள்ளார் என்ற குற்றச்சாட்டுக்கள் சுமத்தப்பட்டுள்ள இந்திய வெளியுறவு அமைச்சரின் பெயரை குறிப்பிடுக...*Nataraj..Singh*.....

Continued **Paper III** (English & Tamil Language)

Index Number

Paper III – English and Sinhala / Tamil Language Paper

Answer both Section A and B

SECTION A : ENGLISH LANGUAGE

Read the following passage and answer ALL the questions given below

According to the territorial principle, which is applied both subjectively as well as objectively, a state has an absolute, though not necessarily exclusive, jurisdictional power over persons, property and events that take place within its own territory. On the other hand, under the nationality principle, states have jurisdictional power over its nationals, vessels flying its flag and companies incorporated under its laws. Jurisdiction on the basis of the nationality principle can be exercised even if the subject is not within the state's own territory. The passive nationality principle, which has not been accepted generally as a jurisdictional basis in customary international law, has been invoked by some states to assert jurisdiction over foreigners who have committed crimes abroad against their nationals. However, jurisdiction on the basis of the passive nationality principle is applied only in connection with serious crimes. Under the protective principle the states claim a right to exercise jurisdiction over conduct outside their territories if the conduct threatens their security. This principle is, nonetheless, invoked only in connection with conduct that is generally regarded as criminal by the international community. The universality principle recognizes that even where there is no connection between the state and the parties or acts, some acts are so universally dangerous that all members of the international community have jurisdiction over such acts wherever they occur. What is required in order to exercise jurisdiction under this principle is, (a) custody of the accused person and, (b) a crime which is serious and recognized as a violation of international law.

1. What does the above passage deal with?

.....
.....
.....

2. Under what circumstances do the states invoke passive nationality principle?

.....
.....
.....

3. Name three principles under which states may claim jurisdiction over foreign nationals.

.....
.....
.....

4. What are the salient features of universality principle?

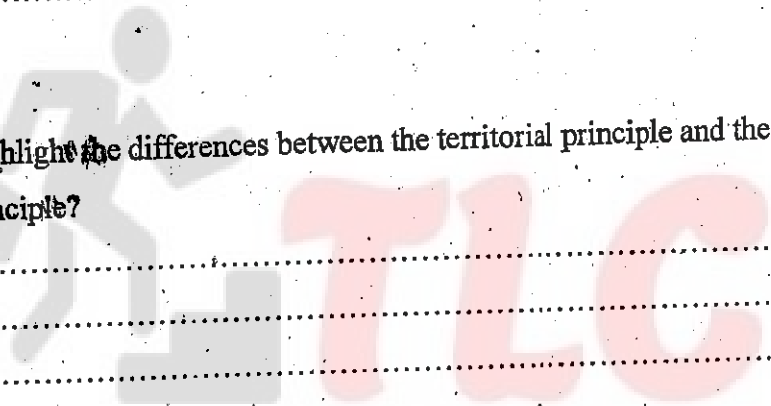
.....
.....
.....

5. Highlight the differences between the territorial principle and the nationality principle?

.....
.....
.....

6. What principle best protect the security interests of states?

.....
.....
.....



Teaching and learning college

Continued.. Section B – Tamil Language Paper

SECTION B - TAMIL LANGUAGE

கீழே தரப்பட்டுள்ள பந்தியை வாசித்து அதன் கீழ் உள்ள வினாக்களுக்கு விடை தருக.

கூட்டாட்சி முறையொன்றை கொண்டிருக்கும் அரசாங்கம் ஒன்றிலே, மத்திய மற்றும் பிராந்திய அதிகார சபைகள் ஒன்றை ஒன்று தங்கியிருக்கக்கூடிய பரஸ்பர அரசியல் உறவுமுறை ஒன்றின் மூலம் தொடர்பு படுத்தப்பட்டு இருக்கும் இந்த முறைமையொன்றின் கீழ் எந்த ஒரு பிராந்தியமும் தமக்கு வழங்கப்பட்ட அதிகாரத்துக்குள் இருந்து ஏனைய பிராந்தியங்களுடைய செயற்பாடுகள், தீர்மானங்கள் என்பவற்றில் தலையிடாத வகையில் சமநிலை ஒன்று பேணப்படுகிறது. வழமையாக ஆயின் அநாவசியமாக இம்முறைமை ஒரு அரசியல் அமைப்பு ஆக்க கட்டமைப்போடு தொடர்பு படுத்தப்படுவதோடு மத்திய மற்றும் பிராந்திய அரசாங்கங்களிடையே சுயாதீனமான சட்ட அந்தஸ்து ஒன்றை உருவாக்குகிறது. அதன் மூலமாக எந்த ஒரு அமைப்பும் சட்ட ரீதியாக மற்றைய அமைப்புக்கு இரண்டாந்தர நிலையை கொண்டிருந்து என்பதை கூறுகிறது. அரசாங்கத்துடைய செயற்பாடுகள் இம்மட்டங்களிடையே பகிரந்தளிக்கப்படும் (முழுமையாக, போட்டி ரீதியாக அல்லது கூட்டாக) பொருத்தமான இடங்களில் நீதித்துறை தலையீடு செய்வதற்கான சந்தர்ப்பங்களை ஏற்படுத்துவதன் மூலமாக அரசியல் நடவடிக்கையூடாக இந்த செயற்பாடுகள் நடைபெறுகின்றன.

அரசியல் அமைப்பு ஆய்வாளர்கள் கூட்டாட்சி முறைமையொன்றை இரண்டு முறைமையின் கீழ் ஸ்தாபிக்கலாம். என அங்கீகரித்துள்ளனர். சாதாரண நடைமுறையில் இருக்கும் முறைமை கூட்டிணைப்பு (Integrative) கூட்டாட்சி முறைமை எனப்பெயரிடப்பட்டுள்ளது. அதாவது முன்னர் சுதந்திர அரசுகளாக விளங்கிய சில அரசுகள் ஒன்றிணைந்து புதிய அரசியல் கட்டமைப்பு ஒன்றை உருவாக்குதல் என்பதாகும். இரண்டாவது முறைமையானது முன்னர் ஒற்றையாட்சி அமைப்பிலான அரசாங்கத்தை கொண்ட அமைப்பு ஒன்று கூட்டாட்சி முறைமைக்கு மாறுகின்ற செயற்பாடாகும். இது அதிகார பரவலாக்க கூட்டாட்சி முறைமை எனப்படுகிறது. Patrick Peters குறிப்பிடுவது போல,

கூட்டிணைப்பு கூட்டாட்சி என்பது முன்னர் சுதந்திரமாக இயங்கிய அரசுகள், அல்லது ஏதேனும் பல்வேறுபட்ட நோக்கங்களுக்காக பிரிந்து செயற்பட்ட அலகுகளை ஒன்று சேர்க்க முயற்சிக்கும் ஒரு அரசியல் அமைப்பு கட்டளையாகும். இதனுடைய நோக்கம் பயனுள்ள மத்திய அரசு ஒன்றை ஸ்தாபிக்கும் அதே வேளையில் பிராந்திய அலகுகளுக்கு அதிகாரங்களை வழங்குவதனுடாக அது மக்களை நேரடியாக சென்றடைதலை உறுதிப்படுத்துவதன் மூலம் பிராந்திய அமைப்புகளுடைய அதிகாரங்களுக்கு மதிப்பளித்தலாகும்.

இதற்குமாறாக அதிகார பரவலாக்க(Devolutionary) கூட்டாட்சி முறைமை என்பது, முன்னர் ஒற்றையாட்சி அமைப்பைக்கொண்ட அரசு ஒன்றின் அதிகாரங்களை அதனுடைய பல்வேறு அலகுகளுக்கிடையே மீள பகிரந்தளித்தல் என்பதாகும். இத்தகைய அலகுகள் தமக்கு வழங்கப்பட்ட பொறுப்புடையந்த துறைகளுக்குள் சுயாதீன அந்தஸ்து ஒன்றை தருகிறது. இதனுடைய அடிப்படை இலக்கு பல்வேறு பட்ட அலகுகளுக்கிடையே ஒற்றுமையை ஏற்படுத்துதலாகும்.

பெல்ஜியம், ஸ்பெயின், பிரேசில், நைஜீரியா போன்ற நாடுகளை அதிகார பரவலாக்க கூட்டாட்சி முறையை தழுவிக்கொண்ட நாடுகள் என்ற வகையில் உதாரணங்களாக குறிப்பிடலாம். இந்நாடுகள் ஒற்றையாட்சி முறைமையில் இருந்து கூட்டாட்சி முறைமைக்கு மாற்றம் அடைந்த நாடுகளாகும். 1996ஆம் ஆண்டு தென்னாபிரிக்க அரசியல் அமைப்பும் இம்முறைமையை தழுவிக்கொண்டது. கூட்டாட்சி அரசியலமைப்புகள் அரசு ஒன்று பிரிந்து செல்லக்கூடிய உரிமையொன்றை உள்ளடக்கி இருக்கலாம் அல்லது உள்ளடக்காமலும் விடலாம். உதாரணமாக அவுஸ்திரேலியா, ஐக்கிய அமெரிக்கா, கனடா மற்றும் பெரும்பாலான கூட்டாட்சி அமைப்பைக்கொண்ட நாடுகள் பிராந்திய அலகு ஒன்றாக பிரிந்து செல்வதற்குரிய ஏற்பாடு ஒன்றை கொண்டு இருக்கவில்லை. அவுஸ்திரேலியா அரசியல் அமைப்பினுடைய பூர்வாங்க உரை கூட்டாட்சி அரசாங்கம் “கலைக்கப்பட முடியாதது” என விவரிக்கிறது. அமெரிக்க சிவில் யுத்தத்திற்கு பின்பு உயர்ந்திமன்றம் ஐக்கிய அமெரிக்க அரசியலமைப்பு

“அழிக்கப்படமுடியாத பிராந்திய அரசுகள் ஒன்றிணைந்த அழிக்கப்படமுடியாத அரசுகளின் தொகுப்பு ஒன்றாகும்”

என குறிப்பிட்டது.

கனேடிய அரசியலமைப்பு போன்று அமெரிக்க அரசியலமைப்பும் பிராந்தியங்கள் பிரிந்து செல்வது தொடர்பான ஏற்பாடைப்பற்றி எதனையும் குறிப்பிடவில்லை. அரசியலமைப்பு ஆய்வாளர்கள் மாகாணமொன்று ஒருதலைப்பட்சமாக பிரிந்து செல்லுகையானது அரசியலமைப்பு ரீதியாக வலுவற்றது என்ற ஒரு பொதுவான உடன்பாட்டை கொண்டுள்ளனர்.

மத்திய மற்றும் கிழக்கு ஐரோப்பியாவின் முன்னைய சீல கம்யூனிஸ்ட் நாடுகளின் அரசியலமைப்புகள் கூட்டாட்சி முறையிலான அரசாங்கத்திற்கு பெயரளவான ஆதரவையே கொண்டிருந்தன. இங்கு முக்கியமாக கவனிக்க வேண்டியது யாதெனில் கூட்டாட்சி பிரதானமான அரசியல் கோட்பாடே அன்றி சட்டகோட்பாடு ஒன்றல்ல. கூட்டாட்சியுடன் இணைந்து செல்லக்கூடிய அரசியல் பண்புகொண்ட பல்வேறு அணுகுமுறைகள் காணப்படுகின்றன. கூட்டாட்சி பன்மைத்துவ பண்பை கொண்டது. இது பல்வேறு பிராந்தியங்களிடையே ஒற்றுமையை ஏற்படுத்துகிறது. இது குழுக்கள் தமது தனித்தன்மை, சுயாதீனம் என்பவற்றை ஓரளவில் தக்க வைத்துக்கொண்டு ஒன்றாக சேர்ந்து இயங்குவதற்கு வழிவகுக்கின்றது. எனவே தான் கூட்டாட்சி முறைமை பல்வேறுபட்ட இன்மது குழுக்களை கொண்ட நாடுகளில் பிணக்குகளை தீர்த்து வைப்பதற்கான தீர்வு ஒன்றாக கருதப்படுகிறது.

1. கூட்டாட்சி முறையை கொண்ட அரசாங்கம் ஒன்றிலே மத்திய அரசாங்கம் மற்றும் பிராந்திய அதிகார சபைகளிடையே சமநிலை எவ்வாறு பேணப்படுகின்றது?

.....

.....

.....

.....

2. அரசுகள் பிரிந்து செல்வதற்கான உரிமையொன்று தொடர்பாக அரசியல் அமைப்பு ஆய்வாளர்களால் ஏற்றுக்கொள்ளப்பட்ட பொதுவான அங்கீகாரம் யாது?

.....

.....

.....

.....

3. அரசாங்கம் ஒன்றை கூட்டாட்சி முறையொன்றை கொண்ட அரசாங்கமொன்றாக தாபிக்கக்கூடிய அடிப்படை வழிமுறைகளை விளக்குக.

.....

.....

.....

.....

4. பல்வேறுபட்ட இன்.மத குழுக்களை கொண்ட நாடு ஒன்றிலே பிணக்குகளை தீர்ப்பதற்கு கூட்டாட்சி முறை ஒரு தீர்வாக ஏன் முற்போட்படுகிறது?

.....

.....

.....

.....

5. மேற்கூறப்பட்ட பந்தியை, துணைகொண்டு ஒற்றையாட்சி முறை அரசாங்கம் ஒன்றில் இருந்து கூட்டாட்சி முறையொன்றுக்கு மாற்றமடைந்த 5 நாடுகளின் பெயர்களை குறிப்பிடுக.

.....

.....

.....

.....

6. மேற்கூறப்பட்ட பந்தியினை துணைகொண்டு அரசுகள் பிரிந்து செல்லும் உரிமையை அங்கீகரிக்காத மூன்று அரசியலமைப்புகளை குறிப்பிடுக.

.....

.....

.....

.....

Teaching and learning
college



இலங்கை திறந்த பல்கலைக்கழகம்

சட்டக் கற்கைகள் திணைக்களம்

Teaching and learning
college

சட்டமாணி பட்டப் படிப்புத் திட்டம்

தேர்வு பரீட்சை

வினாத்தாள்கள்

2008

TLC College offers LLB Entrance Exam classes in Tamil medium.

59/112

For details, contact 0772624039 or message on WhatsApp at the same number. Visit collegeoftlc.com for more information

இலங்கை திறந்த பல்கலைக்கழகம்
சட்டமாணி பட்டப்படிப்புத் திட்டம் - 2008
அனுமதிப் பரீட்சை
காலம் - 2 மணித்தியாலங்கள்



சட்டிலக்கம் :

திகதி : 17 நொவம்பர் 2007

நேரம்: மு.ப 10.00 ந.பகல் 12.00 வரை

விண்ணப்பதாரிகளுக்குரிய அறிவுறுத்தல்கள்:

- இப்பரீட்சை மூன்று பிரத்தியேக வினாத்தாள்களை கொண்டது.
(அ) வினாத்தாள் I - பொது நுண்ணறிவு
(ஆ) வினாத்தாள் II - பொது அறிவு
(இ) வினாத்தாள் III - மொழிப்பரீட்சை

ஒவ்வொரு வினாத்தாளுக்கும் எவ்வாறு விடையளிப்பது?

- வினாத்தாள் I - பொது நுண்ணறிவு 40 வினாக்களை உள்ளடக்கியது. உமக்குத் வழங்கப்படும் விடைத்தாளில் எல்லா வினாக்களுக்கும் விடையளிக்க. தரப்பட்ட விடைகளுள் மிகவும் பொருத்தமான விடையைத் தெரிவு செய்து உமது விடைத்தாளில் தரப்பட்டுள்ள எழுத்துக்களில் பொருத்தமான ஒன்றுக்கு X எய்தி அடையாளமிடுக. உதாரணமாக, ஒரு குறிப்பிட்ட வினாவுக்கு (a) பொருத்தமான விடை என நிர் தீர்மானித்தால் அவ்வினா இலக்கத்திற்குரிய எழுத்தின் மீது (a) X அடையாளமிடுக.
(b) (c) (d) (e)
நிர் அடையாளமிட்ட விடை ஒன்றினை நீக்க விரும்பினால் அதனை தெளிவாக அழித்துவிடவும். குறிப்பிட்ட வினா ஒன்றுக்கு - ஒன்றுக்கு மேற்பட்ட X அடையாளம் இடப்பட்டிருந்தால் அவ்வினாவுக்குரிய புள்ளியை நிர் பெறமாட்டார்.

வினாத்தாள் I இல் இருந்து அதற்குரிய விடைத்தாளை பிரித்தெடுக்க வேண்டாம்.

நிர் கணக்கிடும் கருவிகளையோ அல்லது அதனை ஒத்த வேறு கருவிகளையோ இப்பரீட்சைக்கு பயன்படுத்த அனுமதிக்கப்படமாட்டார்.

- வினாத்தாள் II - பொது அறிவு
40 வினாக்களை உள்ளடக்கியது. எல்லா வினாக்களுக்கும் அவ்வினாத்தாளிலேயே விடையளிக்க.
- வினாத்தாள் III - மொழிப் பரீட்சை

இரண்டு பகுதிகளை உள்ளடக்கியது. பகுதி (அ) ஆங்கில மொழியையும் பகுதி (ஆ) சிங்களம் அல்லது தமிழ் மொழியையும் கொண்டது. பகுதி (அ) (ஆ) ஆகிய இரண்டிலும் காணப்படும் எல்லா வினாக்களுக்கும் அவ்வினாத்தாளில் தரப்பட்டுள்ள இடைவெளியில் விடையளிக்க.

மேற்பார்வையாளரால் எழுதுவதை நிறுத்துமாறு அறிவிக்கப்பட்டவுடன் எழுதுவதை நிறுத்தவும். தரப்பட்டுள்ள இடைவெளியில் உமது சட்டிலக்கத்தைக் குறிப்பிடவும்.

இவ்வறிவுறுத்தல்களைப் பின்பற்றத் தவறும் விண்ணப்பதாரிகள் தகுதியற்றவர்களாக்கப்படுவார்கள்.

THE OPEN UNIVERSITY OF SRI LANKA
BACHELOR OF LAWS DEGREE PROGRAMME - 2008
ADMISSION TEST - PAPER I (GENERAL INTELLIGENCE)
ANSWER SHEET



INDEX NO:

- | | | | | | | | | | | | |
|-----|-----|-----|-----|-----|-----|-----|-----|-----|-----|-----|-----|
| 1. | (a) | (b) | (c) | (d) | (e) | 21. | (a) | (b) | (c) | (d) | (e) |
| 2. | (a) | (b) | (c) | (d) | (e) | 22. | (a) | (b) | (c) | (d) | (e) |
| 3. | (a) | (b) | (c) | (d) | (e) | 23. | (a) | (b) | (c) | (d) | (e) |
| 4. | (a) | (b) | (c) | (d) | (e) | 24. | (a) | (b) | (c) | (d) | (e) |
| 5. | (a) | (b) | (c) | (d) | (e) | 25. | (a) | (b) | (c) | (d) | (e) |
| 6. | (a) | (b) | (c) | (d) | (e) | 26. | (a) | (b) | (c) | (d) | (e) |
| 7. | (a) | (b) | (c) | (d) | (e) | 27. | (a) | (b) | (c) | (d) | (e) |
| 8. | (a) | (b) | (c) | (d) | (e) | 28. | (a) | (b) | (c) | (d) | (e) |
| 9. | (a) | (b) | (c) | (d) | (e) | 29. | (a) | (b) | (c) | (d) | (e) |
| 10. | (a) | (b) | (c) | (d) | (e) | 30. | (a) | (b) | (c) | (d) | (e) |
| 11. | (a) | (b) | (c) | (d) | (e) | 31. | (a) | (b) | (c) | (d) | (e) |
| 12. | (a) | (b) | (c) | (d) | (e) | 32. | (a) | (b) | (c) | (d) | (e) |
| 13. | (a) | (b) | (c) | (d) | (e) | 33. | (a) | (b) | (c) | (d) | (e) |
| 14. | (a) | (b) | (c) | (d) | (e) | 34. | (a) | (b) | (c) | (d) | (e) |
| 15. | (a) | (b) | (c) | (d) | (e) | 35. | (a) | (b) | (c) | (d) | (e) |
| 16. | (a) | (b) | (c) | (d) | (e) | 36. | (a) | (b) | (c) | (d) | (e) |
| 17. | (a) | (b) | (c) | (d) | (e) | 37. | (a) | (b) | (c) | (d) | (e) |
| 18. | (a) | (b) | (c) | (d) | (e) | 38. | (a) | (b) | (c) | (d) | (e) |
| 19. | (a) | (b) | (c) | (d) | (e) | 39. | (a) | (b) | (c) | (d) | (e) |
| 20. | (a) | (b) | (c) | (d) | (e) | 40. | (a) | (b) | (c) | (d) | (e) |

Date:

Signature of the Marking Examiner

வினாத்தாள் I - பொது நுண்ணறிவு

இவ்வினாத்தாளுக்கு 100 புள்ளிகள் வழங்கப்படும்

40 வினாக்களுக்கும் விடை தருக

உமக்கு தரப்பட்டுள்ள உரிய விடைத்தாளில் விடை அளிக்க.

- (1) ஓர் பூனை எலியை தூரத்த ஆரம்பித்தது. அது எலிக்கு 100 அடி நேர் பின்னால் இருந்தது. 10 விநாடிகளின் பின்னர் பூனை 100 அடி நகர்ந்தது. அத்துடன் எலி 50 அடி நகர்ந்தது. பூனை திடீரென அதே வேகத்தில் எதிர் திசையில் நகர ஆரம்பித்தால், மற்றும் எலி ஏலவே செல்கின்ற அதே திசையிலும் அதே வேகத்திலும் சென்றால் தூரத்துவதற்கு ஆரம்பித்த போது பூனைக்கும் எலிக்கும் இருந்த அதே தூரத்தினை எடுக்க எவ்வளவு நேரம் எடுக்கும்? மிகவும் கிட்டிய முழு விநாடிக்கு மட்டந்தடுக.

(அ) 1 (ஆ) 2 (இ) 3 (ஈ) 4 (உ) 5

- (2) காரணத்தினை குழு A யிலுள்ள முன்றில் இரண்டு பகுதியினர் நம்புகின்றனர், ஆனால் குழு B யில் அரைப்பகுதியினர் மாத்திரமே காரணத்தினை நம்புகின்றனர். A குழுவானது குறைந்த புட்சம் 20 நபர்களை கொண்டிருக்கிறது, மற்றும் குழு B ஆனது 30 நபர்களுக்கு அதிகம் இல்லாத நபர்களை கொண்டிருக்கிறது.

- (அ) காரணத்தினை குழு A லுள்ளவர்கள் அதிகமாக நம்புகின்றனர்.
 (ஆ) காரணத்தினை குழு B லுள்ளவர்கள் அதிகமாக நம்புகின்றனர்.
 (இ) ஒவ்வொரு குழுவிலிருந்தும் சமமான எண்ணிக்கையுடைய நபர்கள் காரணத்தினை நம்புகின்றனர்.
 (ஈ) A மற்றும் B குழுக்களுக்குள்ள பாரிய அளவு நபர்கள் காரணத்தை நம்புகின்றனர்.
 (உ) தரப்பட்ட தகவல்களை கொண்டு மேற்கூறப்பட்ட எவற்றையும் தீர்மானிக்க முடியாது.

- (3) ஒரு தாளில் முன்று வட்டங்கள் வரையப்பட்டிருந்தன. எவரேனும் ஒருவர் தாளினைப் பார்த்தால், அவன் அல்லது அவள் குறித்த தாளினைப் பார்க்கக்கூடிய ஆக்க குறைந்த சாத்தியமான வட்டங்களின் எண்ணிக்கை என்ன?

(அ) 1 (ஆ) 2 (இ) 3 (ஈ) 4 (உ) 5

- (4) அனூர், பிமால் மற்றும் சன்ன ஆகியோர் பின்வருவனவற்றுள் ஒவ்வொருவர் ஆவர். ஓர் சட்டக்கலைஞர் கட்டிடவடிவமைப்பாளர் (Designer) மற்றும் தச்சுத் தொழிலாளி ஆனால் குறித்த ஒழுங்கு முறையில் இருக்கத்தேவை இல்லை. மூவரும் ஓர் வட்டவடிவான மேசையில் அமர்கின்றனர். பிமால் தச்சுத் தொழிலாளியின் உடனடி வலது பக்கம் இருக்கின்றான். கட்டிடவடிவமைப்பாளர் (Designer) அனூரவின் உடனடி இடது பக்கம் இருக்கின்றான். பிமால் கட்டிடவடிவமைப்பாளர் (Designer) அல்ல. கட்டிடக்க கலைஞர் ஆர்?

- (அ) அனூர் (ஆ) பிமால் (இ) சன்ன (ஈ) எவரும் அல்ல
 (உ) தரப்பட்ட தகவலைக்கொண்டு தீர்மானிக்க முடியாது.

- (5) மீனா மற்றும் டீனா என்பன சுப்பர் மாக்கட்டில் காட்சிக்கு வைக்கப்பட்டு இருக்கும் பொம்மைகள் ஆகும். 87% ஆன எல்லா மீனாவும் பாதணிகள் அணிந்துள்ளன. ஆனால் 43% ஆன டீனாக்கள் மட்டும் பாதணிகள் அணிகின்றன. எப்படியிருப்பினும் அதிகளவு மீனாக்கள் மற்றும் டீனாக்கள் பாதணிகள் அணிந்திருந்தன. 100 மீனாக்கள் அங்கு இருப்பின் குறைந்தளவு சாத்தியமான மொத்த எண்ணிக்கையாக இருக்கக் கூடிய டீனாக்கள் எத்தனை?

(அ) 190 (ஆ) 195 (இ) 200 (ஈ) 205 (உ) 210

- (6) இடுப்பு அளவு தட்டையான மரத்தாலான மேசையின் மீது சதுரவடிவான வெண்ணெய்க்கட்டி ஒன்று உள்ளது. அச்சதுரவெண்ணெய் கட்டி எட்டு சிறு சதுரமான கட்டிகளாக ஆகும் வரையில் முன்று தடவைகள் அச்சொட்டாக வெட்டப்படுகின்றது. சதுரக்கட்டிகளானவை பிரிக்கப்படாது அல்லது அசைக்கப்படாது இருப்பின், நீர் மேசையை சுற்றி நடக்கும்போது எட்டு ஒரே மாதிரியான சதுரக்கட்டிகளின் எத்தனை முகங்கள் உமக்கு தெரியக்கூடியதாக இருக்கும்.

(அ) 16 (ஆ) 18 (இ) 20 (ஈ) 22 (உ) 28

- (7) எல்லா A க்களும் C ஆகவும், எந்த C க்களும் B ஆக இல்லாதும், எல்லா B க்களும் D ஆகவும், சில C க்கள் D ஆகவும், சில C க்கள் K களாகவும் சில D க்கள் Z களாகவும், மற்றும் நீர் ஓர் A ஆகவும் இருப்பின், மேலும் நீர் இருக்கக்கூடியதாகவுள்ள ஏனைய எழுத்துக்கள் என்ன?

(அ) C, Z, K, D (ஆ) C, D, K (இ) D, Z, K, B (ஈ) C (உ) C, K, Z

- (8) ஓர் கட்டிப்பிடித்தல் போட்டியில், அச்சொட்டாக ஒரே நேரத்தில் ஒவ்வொரு போட்டியாளர்களும் கட்டாயமாக எல்லா ஏனைய போட்டியாளர்களையும் கட்டிப்பிடிக்க வேண்டும். அங்கு 8 போட்டியாளர்கள் இருப்பின், எத்தனை கட்டிப்பிடித்தல்கள் இடம்பெறும்?

(அ) 20 (ஆ) 24 (இ) 26 (ஈ) 28 (உ) 32

முதல் 13 வரையிலான வினாக்களுக்கு விடையளிப்பதற்கு பின்வரும் இலக்கங்களை பயன்படுத்துக.

பின்வரும் சுட்டெண்கள் பல்வேறு பரீட்சை நிலையங்களில் பரீட்சைக்காக பதிவினை செய்து கொண்ட பரீட்சார்த்திகளின் சுட்டெண்களாகும். முதல் இரண்டு இலக்கங்கள் பரீட்சை நிலையங்களை குறிக்கிறது, அடுத்த நான்கு எண்களும் அந்நிலையத்தில் பதிவு செய்த பரீட்சார்த்திகளின் தொடர் எண்களாகும்.. (Serial Number)

267523	659684	530343	793457	440105	820233
825723	267635	536026	264691	796310	824562
658920	791540	447126	651673	796253	530707
268213	442310	824310	445327	657562	530132

- (9) எந்நிலையத்தில் முதல் மற்றும் இறுதி இரண்டு எண்கள் ஒரே மாதிரியாக உள்ளன?

(அ) 44 (ஆ) 53 (இ) 26 (ஈ) 82 (உ) 65

- (10) மிகச்சிறிய தொடர் எண்களையுடைய பரீட்சார்த்தி எந்த பரீட்சை நிலையத்தில் உள்ளார்?

(அ) 53 (ஆ) 85 (இ) 44 (ஈ) 79 (உ) 65

- (11) தொடர் இலக்கம் 23 இனை இறுதியாகக்கொண்ட பரீட்சை நிலையம் எது என நீர் காண்கின்றீர்?

(அ) 44 - 53 (ஆ) 26 - 82 (இ) 53 - 79 (ஈ) 65 - 26 (உ) 44 - 79

- (12) இரட்டை இலக்கத்துடனான சுட்டெண் கொண்ட பரீட்சார்த்தி இல்லாத பரீட்சை நிலையம் எது?

(அ) 44 (ஆ) 26 (இ) 53 (ஈ) 82 (உ) 79

- (13) பின்வரும் சோடி பரீட்சை நிலையங்களில் ஒரே இறுதி மூன்று இலக்கங்களுடைய பரீட்சை நிலையங்கள் என்ன?

(அ) 44 - 53 (ஆ) 26 - 65 (இ) 79 - 82 (ஈ) 82 - 53 (உ) 79 - 65

- (14) முன்னரான வருடத்துடன் ஒப்பிடுகையில் ஒவ்வொரு வருட இறுதியிலும் தமது செலவை 5% னால் குறைக்கும் வகையில் கம்பனி X ஆனது மாற்றங்களை செய்தது. நான்கு வருடங்களின் பின்னர், இம்மாற்றத்தினை நடைமுறைப் படுத்துவதற்கு முன்னரான நிலைமையுடன் ஒப்பு நோக்கும்போது X இன் செலவீனங்கள் என்ன? கிட்டிய முழுமையான சதவீதத்திற்கு மட்டும் தட்டுக?

(அ) 80% (ஆ) 81% (இ) 82% (ஈ) 83% (உ) 84%

- (15) X ஆனது Y இனை விட பெரியது, Z ஆனது X இனை விட பெரியது. A யானது Y இனை விட பெரியது, Y யானது B இனை விட பெரியது. A ஆனது எதனை விட பெரியது?

(அ) Y (ஆ) Y மற்றும் X (இ) Y மற்றும் B
(ஈ) Y, X மற்றும் B (உ) Y, B மற்றும் Z

- (16) இக் கிரமத்தை பூரணப்படுத்துக: 3, 8, 6, 11, 9, ?
 (அ) 12 (ஆ) 14 (இ) 16 (ஈ) 17 (உ) 19
- (17) ஓர் சதுரக்கட்டியானது வெண்மையான மூலக்கூறுகளைக் கொண்டு உருவாக்கப்பட்டது, ஆனால் வெளிப்புறம் கறுப்பு நிறத்தால் வர்ணம் பூசப்பட்டது. குறித்த கட்டியானது ஒரே அளவான 125 துண்டங்களாக வெட்டப்பட்டால் எத்தனை துண்டுகள் மூன்று பக்கமும் கறுப்பு நிறத்தினால் வர்ணம் பூசப்பட்டதாக இருக்கும்.
 (அ) 4 (ஆ) 6 (இ) 8 (ஈ) 16 (உ) 36
- (18) என்னுடைய கடிகாரம் 4:12 எனக்காட்டுகின்றது. மூன்று மணித்தியாலத்தின் பின்னர் அது 8:00 மணியினைக் காட்டுகின்றது. என் கடிகாரத்தில் உள்ள பிழை என்ன?
 (அ) அது 48 நிமிடம் வேகமாக செல்லுகிறது.
 (ஆ) ஒவ்வொரு மணித்தியாலத்திலும் 7 அதிகப்பட்ச நிமிடங்களை பெறுகிறது
 (இ) ஒவ்வொரு மணித்தியாலத்திலும் 13 அதிகப்பட்ச நிமிடங்களை பெறுகிறது
 (ஈ) ஒவ்வொரு மணித்தியாலத்திலும் 16 அதிகப்பட்ச நிமிடங்களை பெறுகிறது
 (உ) ஒவ்வொரு மணித்தியாலத்திலும் 20 அதிகப்பட்ச நிமிடங்களை பெறுகிறது
- (19) நான் முதலாம் படியில் ஆரம்பித்தேன், மேலே 8 ஆம் படிக்குச் சென்றேன், பிறகு நான் 3ஆம் படிக்கு இறங்கினேன், அடுத்து 12ஆம் படி வரை சென்றேன். நான் எந்த படியிளையும் விட்டு விட்டு செல்லா விட்டால் எத்தனை படிகள் முழுமையாக நான் கடந்து இருப்பேன்.
 (அ) 12 (ஆ) 21 (இ) 22 (ஈ) 23 (உ) 24
- (20) நான் எனது தங்கையினை விட வயதில் பெரியவள். 15 வருடங்களுக்கு முன்னர் அவளுடைய வயது எனது தற்போதைய வயதில் $\frac{1}{3}$ பகுதியாகும். பத்து வருடங்களுக்கு முன்னர் எனது வயது 15 வருடங்களுக்கு முன்னர் அவளது வயதை விட இரு மடங்கு எனவோ துவாகும். தற்போது எனது வயது என்ன?
 (அ) 27 (ஆ) 28 (இ) 29 (ஈ) 30 (உ) 31
- (21) பின்வரும் கிரமத்தில் அடுத்த எழுத்து என்ன?
 SMHDWM
 (அ) V (ஆ) W (இ) X (ஈ) Z (உ) Y
- (22) பின்வரும் கிரமத்தை பூர்த்தி செய்க: 4, 6, 9, 13.5
 (அ) 18.125 (ஆ) 20.25 (இ) 22 (ஈ) 24.5 (உ) 26
- (23) 763 : 856 :: 637 : ?
 (அ) 866 (ஆ) 737 (இ) 730 (ஈ) 637 (உ) 787
- (24) ஒரு தாயினதும், மகளினதும் வயதின் கூட்டுத்தொகை 56 வருடங்களாகும். 4 வருடங்களுக்கு பின்பு மகளின் வயதில் 3 மடங்கு தாயின் வயதாக இருக்கும். அவர்களது வயது முறையே
 (அ) 10 வருடங்கள் மற்றும் 46 வருடங்கள்
 (ஆ) 12 வருடங்கள் மற்றும் 44 வருடங்கள்
 (இ) 11 வருடங்கள் மற்றும் 45 வருடங்கள்
 (ஈ) 13 வருடங்கள் மற்றும் 43 வருடங்கள்
 (உ) 13 வருடங்கள் மற்றும் 46 வருடங்கள்

- (25) ஓர் பிள்ளை தன் தாயினைத் தேடுகின்றது. கிழக்கு நோக்கி 90 மீற்றர் நடந்த பின்னர், அப்பிள்ளை வலது பக்கம் திரும்புகின்றான். பிறகு 20 மீற்றர் நடந்த பின்னர் மீளவும் வலது பக்கம் திரும்புகின்றான். மேலும் 30 மீற்றர் தூரம் பிரயாணம் செய்த பின்னர் அவனது தாயின் நண்பியின் வீட்டை சென்றடைகின்றான். ஆனால் அவனது தாய் அங்கு இருக்கவில்லை. அங்கு இருந்து வடக்கே நோக்கி 100 மீற்றர் நடந்த பின் அவனது தாயை வீதியில் சந்திக்கின்றான். தொடக்க நிலையில் இருந்து தனது தாயினை வந்தடைய எவ்வளவு தூரம் நடக்கின்றான்?
- (அ) 80 M (ஆ) 100 M (இ) 140 M (ஈ) 260 M (உ) 280 M
- (26) '+' என்பது கழித்தலையும், '-' என்பது பெருக்கலையும் மற்றும் 'x' என்பது கூட்டலையும் குறிக்குமாயின், $(280 + 10 \times 20) - 8 \div 6 = ?$
- (அ) 70 (ஆ) - 392 (இ) 112 (ஈ) 58 (உ) இவை எவையுமல்ல
- (27) '-' என்பது பெருக்கலையும், 'x' என்பது கூட்டலையும், '+' என்பது பிரித்தலையும் மற்றும் '+' என்பது கழித்தலையும் குறிக்குமாயின், $14 - 10 \times 4 \div 16 + 8 = ?$
- (அ) 6 (ஆ) 142 (இ) 134 (ஈ) -2 (உ) இவை எவையுமல்ல
- (28) திரு. J என்பவர் பொலிஸ் உத்தியோகத்தர் ஆவார். P யினுடைய சகோதரி X ஆவார், அவரின் கணவரின் இளைய சகோதரர் L ஆவார். X ஆனவர் Jயினுடைய மனைவி ஆவார். அவர் X யின் சகோதரரின் அலுவலக மேலாளர் ஆவார், P மற்றும் L எவ்வாறு J க்கு உறவாவார்
- (அ) சகோதரன் மற்றும் மைத்துணன். (ஆ) மைத்துணன் மற்றும் சகோதரன்
(இ) சகபாடி மற்றும் மைத்துணன் (ஈ) நண்பன் மற்றும் மைத்துணன்
(உ) இவை எவையுமல்ல.
- (29) கீழ் கண்ட கிரமத்தின் இடையில் இல்லாது இருக்கும் எழுத்துக்களை இளம் காண்க.
BAC: DEF :: ? : NOP
- (அ) GHI (ஆ) JHI (இ) GIH (ஈ) HIG (உ) HIJ
- (30) பின்வருவனவற்றுள் பொருத்தமற்றதை இளம் காண்க.
- (அ) அரசியலமைப்பிமானியம் (Constitutionalism)
(ஆ) சமஷ்டிமுறை (Federalism)
(இ) தேசியத்துவம் (Nationalism)
(ஈ) சமூகவாதம் (Socialism)
(உ) ஒருமைத்துவம் (Monism)
- (31) கொழும்பு கோட்டை புகையிரத நிலையத்திலிருந்து பொல்காவலைக்கான புகைவண்டி எல்லா இரண்டு மணித்தியாலத்திற்கும் ஒரு முறை புறப்படுகின்றது. கொழும்பு கோட்டை புகையிரத நிலையத்தில் செய்யப்பட்ட அறிவித்தலின் படி இருபது நிமிடத்திற்கு முன்னதாக புகையிரத நிலையத்தை விட்டு பொல்காவலை புகைவண்டி புறப்பட்டு சென்று விட்டது. மற்றும் அடுத்த புகைவண்டி 16: 30 மணியளவில் புறப்படும் இவ்வறிவித்தல் வழங்கப்படும் போது நேரம் என்னவாக இருந்து இருக்கும்?
- (அ) 14 மணி 30 நிமிடம் (ஆ) 14 மணி 50 நிமிடம்
(இ) 14மணி10 நிமிடம் (ஈ) 15மணி50 நிமிடம்
(உ) இவை எவையுமல்ல
- (32) நர் ஓர் வியாபாரத்தினை ஆரம்பித்து, அது முதல் நாளைக்கு 1 ரூபாய் வருமானமும், 3 ரூபாய் இரண்டாம் நாள் வருமானமும் 5 ரூபாய் மூன்றாம் நாள் வருமானமும், 7 ரூபாய் நான்காம் நாள் வருமானமும் மற்றும் அவ்வாறே தொடர்ந்தும் வருமானம் பெறுவிராயின் 50 வருடங்களின் பின் நர் எவ்வளவு வருமானம் ஈட்டுவார். (ஓர் வருடத்தில் சரியாக 365 நாட்கள் என கருதுக).
- (அ) ரூபா. 323, 062, 250 (ஆ) ரூபா. 343,062,500 (இ) ரூபா.353,062,750
(ஈ) ரூபா. 333,062,500 (உ) ரூபா. 363,062,600

- (33) ஒரு தொழிலாளர் தனது வருமானத்தின் 5% உயர்வினை உழைக்கின்றார். ஒரு தொழிலாளிக்கு ஒரு வருடத்தின் பின்னர் 2.5 % வருமானம் கழிக்கப்படுகின்றது, மற்றும் அவளின் தற்போதைய சம்பளம் 22, 702. 68 ரூபாவாகும். அவளது ஆரம்பச் சம்பளம் எவ்வளவாக ஆரம்பித்து இருக்கும்.

(அ) ரூபா. 21, 276 (ஆ) ரூபா. 22, 275 (இ) ரூபா.23, 425
(ஈ) ரூபா. 22, 276 (உ) ரூபா. 22, 176

- (34) 1 தொடக்கம் 9வரையிலான இலக்கங்களை பின்வரும் ஒவ்வொரு எழுத்தும் கொண்டிருக்குமாயின், ஒவ்வொரு எழுத்தும் பிரதிநிதித்துவம் செய்யும் இலக்கங்களை தீர்மானிக்குக.

$$A+A+B+C = 13 \quad A+B+C+D = 14 \quad B+B+C+D = 13$$

(அ) A = 2, B=2, C=5, D=4 (ஆ) A = 3, B=3, C=5, D=4
(இ) A = 3, B=2, C=5, D=4 (ஈ) A = 4, B=2, C=5, D=3
(உ) A = 3, B=2, C=4, D=4

- (35) ஓர் போட்டிக்கான பயிற்சியில் ஆற்று நீருக்கடியில்(down stream) (நீரோட்டத்துடன்) நீந்துவதற்கு 2 கிலோ மீற்றர் தூரத்தினை 40 நிமித்தில் நீந்தலாம் எனவும் மற்றும் மேல்நீரில் (up stream) (நீரோட்டத்திற்கு எதிராக) .6 கிலோ மீற்றரினை நீந்தலாம் எனவும் காண்கின்றீர். நிலைத்து இருக்கும் நீர்நிலையில் 1கிலோ மீற்றர் தூரம் நீந்துவதற்கு எவ்வளவு நேரம் எடுக்கும்.

(அ) 42 நிமிடம் (ஆ) 24 நிமிடம் (இ) 30 நிமிடம் (ஈ) 20 நிமிடம் (உ)17 நிமிடம்

- (36) அருண நேற்று வைத்திருந்த பணத்தின் அரைவாசியினை தற்போது வைத்துள்ளான் நாளை, $\frac{1}{3}$ பகுதியினை வைத்திருப்பான். நேற்று அவன் 12ரூபாய் வைத்து இருப்பானாயின் நாளை எவ்வளவு வைத்திருப்பான்?

(அ) 12 (ஆ) 14 (இ) 16 (ஈ) 18 (உ) 20

- (37) ஒரு மணித்தியாலத்திற்கு 10 கிலோ மீற்றர் வேகத்தில் 30 நிமிடங்கள் நேர் திசையில் பிமால் ஓடுகின்றான், ஒரு மணித்தியாலத்திற்கு பின் 30 கிலோ மீற்றர் வேகத்தில் 10 நிமிடங்களும், மற்றும் 1 மணித்தியாலத்திற்கு 60 கிலோ மீற்றர் என 45 நிமிடங்களும் ஓடுகின்றான். எத்தனை கிலோ மீற்றர் பிமால் ஓடுகின்றான்?

(அ) 50 (ஆ) 55 (இ) 35 (ஈ) 45 (உ) 40

- (38) SUM என்பது 5187 அதே போல் ADD என்பது

(அ) 16 (ஆ) 216 (இ) 2357 (ஈ) 3478 (உ) 5100

- (39) கீழே 36 இலக்கங்கள் உள்ளன. எழுமாற்றாக அவற்றுள் எவையாவது 3 இலக்கங்களை எடுக்கலாம் என கருத்திற் கொண்டு, எவை மூன்றினை எடுத்தல் 15ற்கு சமமான இலக்கம் (மிகக் கிட்டிய சதவீதத்தில்) கூட்டிணையக்கூடிய சந்தர்ப்பம் உள்ளது.

456745 567456 674567 745674 456745 567456

(அ) 12% (ஆ) 15% (இ) 17% (ஈ) 19% (உ) 22%

- (40) கீழ் தரப்பட்ட இலக்க தொடர்களின் எத்தொடரின் அதிகபட்ச இரண்டுகளை(2) நீர் காணலாம்.

(A) 1-333, (B) 334-666, (C) 667-999

(அ) A (ஆ) B (இ) C
(ஈ) A யும் B (உ) A யும் C

Continued Paper II (General Knowledge)

கட்டிலக்கம் :

வினாக்கள் II - பொது அறிவு
இவ்வினாக்களுக்கு 100 புள்ளிகள் வழங்கப்படும்

40 வினாக்களுக்கும் விடை தருக.

01. 2007இல் இடம்பெற்ற 79ஆவது ஒஸ்கார் விருதுவழங்கும் வையவத்தில் சிறந்த பிற மொழிப்படத்திற்கான விருதினை (Best foreign language film) எத்திரைப்படம் வென்றது? The lives of others
02. "Sierra Leone" இன் தலை நகரம் என்ன? பிரிடயன்
03. அன்மையில் மியன்மாரில் இடம்பெற்ற பிரச்சினைகளினை கண்காணிப்பதற்கு நியமிக்கப்பட்ட அமெரிக்க பிரதிநிதியின் பெயர் என்ன?.....
04. ஆசியாவிலே பிரதானமாக தடைசெய்யப்பட்ட போதைப்பொருள் உற்பத்தி செய்யும் பிராந்தியங்களில் ஒன்று 'பொன் முக்கோணம்' (Golden triangle) என்பதாகும். இம் முக்கோணத்தினை அமைக்கும் இரண்டு நாடுகளாவன தாய்லாந்து மற்றும் கம்போடியா என்பனவாகும். மூன்றாவது நாடு எது? Myanmar
05. 1953இல் புலிட்சர் பரிசினை (Pulitzer Prize) வென்ற ஏர்னஸ்ட் ஹெமிங்வேய்(Ernest Hemingway) என்ற நூல் ஆசிரியரால் எழுதப்பட்ட அப்பிரபல்யமான நூலினைப் பெயரிடுக. The old man and the sea
06. மிக அன்மையில் இரஷ்யர்களால் ஆக்கப்படவுள்ள உலகிலேயே மிகப்பெரிய விமானத்திற்கு வழங்கப்பட்டுள்ள பெயர் என்ன?
07. கி.பி. 982 இலிருந்து 1018 வரை அட்சிசெய்த அநுராதபுர காலப்பகுதியின் இறுதி சிங்கள மன்னனை பெயரிடுக. சி. மகிந்த
08. இவ்வருத்தின் புதிய 7 உலக அதிசயங்களில் 'Timbuktu' இன் பெயர் முன்மொழியப்பட்டிருந்தது. அது எங்கு அமைந்துள்ளது? மாலி
09. 'விண்வெளி சுற்றுலாப்பயணியாக' முதன் முதலில் விண்வெளிக்குச் சென்றவர் யார்? Dennis Tito
10. அரசியல் நெருக்கடியில் சிக்கியுள்ள பாகிஸ்தானிய நீதியரசரின் பெயர் என்ன?
11. தென்னாபிரிக்காவில் இடம்பெற்ற இருபதுக்கு 20 உலகக்கிண்ணச் சுற்றுப்போட்டியில் ஒரு ஓவரில் 6 சிக்கர்களை அடித்த முதலாவது தடுப்பாட்ட வீரர் யார்?..... Aerachelle G. bbs
12. 2006 டிசெம்பர் இல் தமிழீழ விடுதலைப்புலிகளால் கைப்பற்றப்பட்ட ஜோர்தானிய கப்பலின் பெயர் என்ன? M.V. Farrak III
13. இலங்கையில் கூட்டுறவு முறையின்(Cooperative system) ஸ்தாபகர் யார்? W.L.S. H. Campbell

14. அடுத்த விண்டர் ஒலிம்பிக்ஸ் (2010) (Winter Olympics) ன் நகரத்தில் இடம்பெறுவதற்கு திட்டமிடப்பட்டுள்ளது?*Canada, Vancouver*.....
15. வருடத்தில் எத்தினத்தில் உலக எயிட்ஸ் தினம் அனுஸ்டிக்கப்படுகின்றது?*19 நவம்பர், 2011*.....
16. 1876இல் Anthrax bacillus இனை கண்டுபிடித்த ஜேர்மன் விஞ்ஞானியின் பெயர் என்ன?*Robert Koch*.....
17. 2007 ஏப்ரல் மாதம் வேர்ஜினியாவிலுள்ள வேர்ஜினியா டெக் பல்கலைக்கழகத்தில் 32 மாணவர்களையும் மற்றும் ஆசிரியர்களையும் கொலை செய்து அதன் பின் தற்கொலை செய்து கொண்ட தென் கொரிய மாணவனின் பெயர் என்ன?*சிவாங்கி - ஆதிபி சிவா*.....
18. இவ்வருடத்தில், தனது காதலிக்கு சம்பள உயர்வினை பரிசாகக் கொடுத்து பின்னர் பதவி விலகவேண்டி ஏற்பட்ட மீள்கட்டுமானம் மற்றும் அபிவிருத்திக்கான சர்வதேச வங்கியின் (IBRD) தலைவர் யார்?
19. 2006ஆம் ஆண்டு சுதந்திரம் பெற்ற ஐரோப்பிய நாடு எது?*Montenegro*.....
20. "Sound of Music" எனும் பிரபல்யமான இசைப்படத்தின் இயக்குனர் யார்?*Robert Wise*.....
21. 2006இல் ரஷ்யாவினால் நஞ்சுட்டப்பட்டு கொலை செய்யப்பட்டார் என நம்பப்படும் முன்னாள் ரஷ்ய உளவாளியைப் பெயரிடுக.*Alexander Litvinenko*.....
22. தொடர்ச்சியான அரசியல் நிதி அவதூறுக்கான விசாரணைக்கு முகம் கொடுப்பதற்கு முதல் தற்கொலை செய்து கொண்ட யப்பானிய விவசாய அமைச்சர் யார்?*Toshikazu Miyazawa*.....
23. கோனப்புண்டாராவினால் தோல்வியடைய செய்யப்பட்ட யமசிங்க பண்டாரவின் பின்னர் முடிக்குரிய வாரிசாக இருந்தவளும், பின்னொரு காலத்தில் விமலதர்மகுரிய மன்னனின் பட்டத்து ராணியாக இருந்தவளுமான கண்டிய காலப்பகுதியில், பிரபல்யமான இளவரசியின் பெயர் என்ன?*சீசுவகை தேவி*.....
24. எவ்வரசியல் அமைப்பின் கீழ் இலங்கையர்கள் வாக்குரிமை பெற்றனர்?*புனாணா*.....
25. 1915ம் ஆண்டு காலத்திற்கான பிரத்தானிய அட்சியாளர்களால் மிகவும் இளம்வயதில் கொலை செய்யப்பட்ட இலங்கை தேசிய நாாயகன் (National hero) யார்?*Kandy Perera*.....
26. பருத்தி நூல் நெய்யும் கைத்தொழில் ஆலையை கண்டு பிடித்தவர் யார்?*Richard Arkwright*.....
27. இலங்கை திறந்த பல்கலைக்கழகத்தின் தற்போதைய வேந்தரின்(Chancellor) பெயர் என்ன?
28. 'Two Gentlemen of Verona' எனும் புத்தகத்தினை எழுதியவர் யார்?*William Shakespeare*.....
29. மிக அண்மையில் ஐரோப்பிய ஒன்றியத்தில்(European Union) அங்கத்தினர் வறங்கப்பட்ட நாடுகள் இரண்டினைப் பெயரிடுக.*Romania, Bulgaria*.....

30. சர்வதேச நிதிமன்றத்தின் தற்போதைய தலைவர் யார்? *Abdulqawi Yusuf*
31. டெஸ்ட் கிரிக்கட் போட்டியில் இரட்டைச்சதம் பெற்ற முதலாவது இலங்கை வீரர் யார்? *Don Sardha Brendon Priyantha Kuruppu*
32. அன்மையில் இறந்த பிரபல்யமான இத்தாலிய ஒபேரா(Opera) பாடகரைப் பெயரிடுக.
33. டெனிஸ்(Tennis) போட்டிகளில் எல்லா அவுஸ்திரேலிய திறந்த, பிரான்ஸ் திறந்த, விம்பிள்டன் மற்றும் அமெரிக்க திறந்த போட்டிகளில் வெற்றி பெறும் ஒற்றையர் அல்லது இரட்டையர் அணி முக்கியமான அந்தஸ்து அடையப்பட்டதாக கூறப்படும். அவ்வந்தஸ்து என்ன?
34. ஐரோப்பிய பாராளுமன்றம் எங்கு அமைந்துள்ளது? *Strasbourg*
35. கியூபாவின் தெற்கு கிழக்கு எல்லையில் அமைந்துள்ள ஆட்சேபணைக்குரிய அமெரிக்க தடுத்துவைப்பு முகாமின் பெயர் என்ன? *Guantanamo Camp*
36. சர்வதேச குற்றவியல் நிதிமன்றத்தின் அமைப்பினை கூறும் ஆவணம் (Constituting document) என்ன? *Rome Statute*
37. அவுஸ்திரேலியாவின் சிட்னியிலுள்ள புகழ் பெற்ற சிட்னி ஒபேரா ஹவுஸ் (Sydney Opera House) இனை வடிவமைத்த டென்மார்க்கை சேர்ந்த கட்டிடக் கலைஞர் யார்? *Jørn Utzon*
38. இரண்டு வயது நிரம்பிய குழந்தையை கொலை செய்ததாக கூறப்படும் குற்றத்திற்கு சவுதி அரேபியாவில் மரண தண்டனை விதிக்கப்பட்ட பெண்ணின் பெயர் என்ன? *Hudaib*
39. எவ்வருடத்தில் இலங்கையில் முதலாவது விமானம் வந்து சேர்ந்தது? *1920*
40. 2007 செப்டம்பரில் 17 இராக் குடிமக்களை கொன்றதாக கூறப்படும் இராக்கில் நிலைகொண்டிருந்த அமெரிக்க தனிப்பட்ட இராணுவ நடவடிக்கையினைப் பெயரிடுக.

Continued **Paper III** (English & Sinhala /Tamil Language)

Index Number

Paper III – English and Sinhala / Tamil Language Paper

Answer both Section A and B

SECTION A: ENGLISH LANGUAGE

Read the following passage and answer ALL the questions given below

One of the fundamental problems in providing treaty based extra territorial jurisdiction over terrorist activities is the difficulty in defining terrorism. For instance, if one defines terrorism as encompassing all acts of violence or force used for political purposes irrespective whether the acts are committed by states or non-states, many states, including Western countries, would object because they would want their own resort to violence excepted from the definition. One definition of terrorism identifies three common characteristics: a violent criminal act; toward an impersonal target; with a motive of striking widespread fear (terror) within the community.

The approach of the United Nations has been characterized as 'dual' largely because of the problems in defining terrorism. On one hand, in consideration of the position of Western countries, it emphasizes the need for co-operation among states to prevent acts of international terrorism. On the other hand, taking into account the non-aligned socialist view, it stresses the need to study the underlying causes of terrorism. A title of an agenda item on terrorism before the United Nations Legal Committee reflects that the body's attempt to strike a balance with its "dual approach": Measures to prevent international terrorism which endangers or takes innocent human lives or jeopardizes fundamental freedoms and the study of the underlying causes of those forms of terrorism and acts of violence which lie in misery, frustration, grievance and despair and which cause some people to sacrifice human lives including their own in an attempt to effect racial changes. Likewise, the United Nations General Assembly Resolution on International Terrorism (1987) adopts this dual approach and distinguishes "pure" terrorist groups from "legitimate struggles" by national liberation movements against colonial and racist regimes; acts committed by the latter are not considered to come within the definition of terrorism. Predictably, this "dual approach" has been the subject of intense controversy and criticism.

Despite international problems in agreeing to a definition of terrorism, some progress has been made by regional treaties in defining terrorism and setting out jurisdictional rules such as the SAARC Regional Convention on Suppression of Terrorism (1987) and the European Convention on the Suppression of Terrorism (1976).0

- (1) What does the paragraph deal with?
-
-
-

(2) Why has it become difficult to define terrorism?
.....
.....

(3) The paragraph suggests one definition which has three characteristics. What are those three characteristics?
.....
.....

(4) What aspect do you believe is missing in the suggested definition mentioned in the paragraph?
.....
.....

(5) What are the two conflicting views taken by the Western and non-aligned Socialists regarding terrorism?
.....
.....

(6) What is the approach taken by the United Nations in defining terrorism?
.....
.....

(7) What is the significant feature in the United Nations General Assembly Resolution on International Terrorism (1987)?
.....
.....

(8) What attempts have been made at regional levels to define and counter terrorism as per the paragraph.....
.....
.....

Continued.. Section B - Sinhala / Tamil Language Paper

SECTION B - SINHALA / TAMIL LANGUAGE

பகுதி II - தமிழ் மொழி

உரோம டச்ச்சு சட்டத்தின் கீழ் பிள்ளைகளுடைய பாதுகாவல் விடயமாக இரண்டு பல்வேறுபட்ட சந்தர்ப்பங்களில் வெவ்வேறுபட்ட இரண்டு கொள்கைகள் பிரயோகிக்கப்படுகின்றன. திருமணம் நிலைத்திருக்கின்ற காலப்பகுதியில் மணம் சார் அதிகாரத்தை வைத்துள்ள தந்தைக்கு பிள்ளையுடைய பாதுகாவல் தொடர்பாக முன்னுரிமை காணப்படுகிறது. இதே உரிமை திறத்தவர்கள் இருவரும் விவாகரத்துப் பெறாது பிரிந்து வாழ்கின்ற இடத்திலும் காணப்படுகின்றது. இத்தகைய சூழ்நிலை ஒன்று பிள்ளையுடைய பாதுகாவலைக் கோருகின்ற தாய் தனது பிள்ளையினுடைய பாதுகாவலின் தந்தைக்கு அக்கறை இல்லை என்பதை நீதிமன்றத்தில் நிரூபிப்பதன் மூலம் பிள்ளையுடைய பாதுகாவலைப் பெற்றுக்கொள்ளலாம். எவ்வாறாயினும், பிள்ளையினுடைய பாதுகாவல் என்ற விடயம் விவாகரத்து வழக்கு நடவடிக்கையின் போது அல்லது திருமண குலைப்பு நடவடிக்கையின் போது அல்லது திறத்தவர்கள் விவாகரத்துக்கான கட்டளை ஒன்றைப் பெற்றுள்ளவிடத்து பிள்ளை மீதான தந்தையுடைய பாதுகாவல் அதிகாரம் முதலிடத்தை வகிக்காது. இவ்விடத்தில் பிள்ளையினுடைய அக்கறை நலன் என்பனவே முதலிடம் பெறுகின்றது. இத்தகைய சூழ்நிலை ஒன்றில் பிள்ளையினுடைய சிறந்த நலன் மீத யார் செயற்படுவார் என்பதை நீதிமன்றத்தின் முன்னிலையில் நிரூபிப்பதன் மூலம் பிள்ளையுடைய பாதுகாவலைப் பெறலாம்.

முக்கியமான இலங்கை மற்றும் தென்னாபிரிக்க வழக்குகளில் இச்சட்ட நிலைமை ஸ்தாபிக்கப்பட்டுள்ளது. தாய் ஒருவர் பிள்ளையுடைய நலனுக்காக தந்தை செயற்படவில்லை என்பதை நிரூபிக்கின்ற சூழ்நிலையில் நீதிமன்றம் உயரிய பாதுகாவலாக செயற்பட்டு தந்தையுடைய முன்னுரிமையை அங்கீகரிக்காது. பிள்ளையுடைய பாதுகாவலை தாயிடம் ஒப்படைக்கும். ஆங்கில சட்டத்திற்கு அமைய ஒரு ஆண் பிள்ளையுடைய தற்றுணிபு வயது 14 ஆகவும் பெண் பிள்ளையுடைய வயது 16 ஆகவும் கருதப்படுகிறது. இவ்வாறான சந்தர்ப்பத்தில் குறிப்பிட்ட ஆண் பிள்ளை அல்லது பெண் பிள்ளையினுடைய பாதுகாவல் தொடர்பான கருத்துக்களை நீதிமன்றம் கேட்டறியும்.

ஷாபி சட்டத்தின் கீழ் பெண் பிள்ளை தொடர்பான பாதுகாவலுக்கு ஒரு தாய்க்கு முன்னுரிமை உண்டு. தாயுடைய இறப்பினை அடுத்து தாய்வழி பாட்டி பிள்ளையினுடைய பாதுகாவலை பெறுவார். இவ்வாறிய சட்டத்தின்படி ஆண் பிள்ளை 7 வயதை அடையும் வரை அவனுடைய பாதுகாப்பு தொடர்பாக தாய்க்கு முன்னுரிமை வழங்கப்பட்டுள்ளது. அதன் பிறகு அந்தப் பிள்ளைக்கு தன்னுடைய பாதுகாவல் தொடர்பாக விருப்பத்தெரிவு உண்டு.

மேற்கூறப்பட்ட விடயங்களுக்கு அண்மவாக ஒரு பிள்ளையுடைய பாதுகாவல் தொடர்பாக தந்தைக்கு உரிமை உண்டு என்பதை நாம் அவதானித்தோம். ஆனால், பிள்ளையுடைய சிறந்த நலன்கருதி பாதுகாவல் தாயிடம் ஒப்படைத்துள்ள போது தந்தையுடைய அந்தஸ்தில் மாற்றம் ஏற்படுகிறது. ஆகையால், அவருக்கு நீதிமன்றம் பிள்ளையுடைய பாதுகாவலை மதிக்கும் வரை ஏனைய உரிமைகள் எஞ்சியிருக்கின்றன. பிள்ளையுடைய பாதுகாவலை பெறாத ஒரு பெற்றோருக்கு பிள்ளையை அணுகுவதற்கான உரிமை உண்டு. இவ்வரிமை பாதுகாவலில் பிள்ளையை வைத்திருக்கும் பெற்றோரினால் மறுக்கப்பட முடியாது. அநேகமான வழக்குகளில் நீதிமன்றம் குறிப்பிட்ட பிள்ளையை அணுகுவதற்கான இடம் மற்றும் காலத்தை குறிப்பிடுகிறது. எனினும், சில வேளைகளில் பாதுகாவலில் வைத்திருக்கும் பெற்றோரிடம் இருந்து பாதுகாவல் அற்ற பெற்றோர் பிள்ளையை வெளிநாட்டுக்கு எடுத்துச் செல்வதற்கு முயற்சி செய்கின்றார் என்பதற்கான சான்று கிடைக்கின்றவிடத்து நீதிமன்றம் பிள்ளையை அணுகுவதற்கான உரிமையை மறுக்கின்றது.



இலங்கை திறந்த பல்கலைக்கழகம்

சட்டக் கற்கைகள் திணைக்களம்

Teaching and learning
college

சட்டமாணி பட்டப் படிப்புத் திட்டம்

தேர்வு பரீட்சை

வினாத்தாள்கள்

2011

TLC College offers LLB Entrance Exam classes in Tamil medium.

73/112

For details, contact 0772624039 or message on WhatsApp at the same number. Visit collegeoftlc.com for more information.

1. உரோமன் டச்சு சட்டத்தின் கீழ் எச்சுந்தர்ப்பத்தில் தந்தைக்கு பிள்ளைகளின் பாதுகாவல் தொடர்பில் முன்னுரிமை அந்தஸ்து கிடைக்கும்?
.....
.....
2. பிள்ளைகளின் பாதுகாவலை பெறுவதற்காக தாய் என்ன செய்யவேண்டும்?
.....
.....
3. 15 வயதுடைய ஆண் பிள்ளையின் பாதுகாவல் தொடர்பில் பிரயோகிக்கப்படும் உரோமன் டச்சு சட்டத்தின் மற்றும் ஆங்கிலச் சட்டத்தின் கீழான உரைகற்களை வெவ்வேறாக குறிப்பிடுக.
.....
.....
4. தந்துணிபு வயதையுடைய பிள்ளையொன்றின் பாதுகாவலை தீர்மானிக்கும் போது நீதிமன்றங்களால் பின்பற்றப்பட வேண்டிய நடவடிக்கை என்ன?
.....
.....
5. பாதுகாவல் கிடைக்கப்பெறாத பெற்றோருக்கு கிடைக்கப்பெறும் உரிமை என்ன?
.....
.....
6. பராயமடையாத பெண் பிள்ளை மற்றும் ஆண் பிள்ளை தொடர்பில் முஸ்லிம் சட்டத்தின் அனுகுமுறைகளை வெவ்வேறாக குறிப்பிடுக.
.....
.....
7. பிள்ளைகளின் பாதுகாவல் யாருக்கு கிடைக்கப்பெற வேண்டும் என்பதனை இறுதியாக தீர்மானிக்கும் அதிகாரம் எவருக்குள்ளது?
.....
.....
8. பிள்ளைகளின் பாதுகாவலை தீர்மானிக்கும் போது மேலேமும் மிகப்பிரதானமான பிரச்சினை என்ன?
.....
.....

(பதிப்புரிமை பெற்றது)



இலங்கை திறந்த பல்கலைக்கழகம்

சட்டமணி பட்டப்படிப்புத் திட்டம் - 2011

அனுமதிப் பரீட்சை

காலம் - 2 மணித்தியாலங்கள்

சட்டிலக்கம் :

திகதி : 16 ஜனவரி, 2011

நேரம்: முப 10.00 - ந.ப 12.00

விண்ணப்பதாரிகளுக்குரிய, அறிவுறுத்தல்கள்:

- இப்பரீட்சை மூன்று பிரத்தியேக வினாத்தாள்களை கொண்டது.
 - (அ) வினாத்தாள் I - பொது நுண்ணறிவு
 - (ஆ) வினாத்தாள் II - பொது அறிவு
 - (இ) வினாத்தாள் III - மொழிப்பரீட்சை

ஒவ்வொரு வினாத்தாளுக்கும் எவ்வாறு விடையளிப்பது?

- வினாத்தாள் I - பொது நுண்ணறிவு 40 வினாக்களை உள்ளடக்கியது. உமக்குத் வழங்கப்படும் விடைத்தாளில் எல்லா வினாக்களுக்கும் விடையளிக்க. தரப்பட்ட விடைகளுள் மிகவும் பொருத்தமான விடையைத் தெரிவு செய்து உமது விடைத்தாளில் தரப்பட்டுள்ள எழுத்துக்களில் பொருத்தமான ஒன்றுக்கு X என்று அடையாளமிடுக. உதாரணமாக, ஒரு குறிப்பிட்ட வினாவுக்கு (a) பொருத்தமான விடை என நீர் தீர்மானித்தால் அவ்வினா இலக்கத்திற்குரிய எழுத்தின் மீது (a) X அடையாளமிடுக.

(b) (c) (d) (e)

நீர் அடையாளமிட்ட விடை ஒன்றினை நீக்க விரும்பினால் அதனை தெளிவாக அழித்துவிடவும். குறிப்பிட்ட வினா ஒன்றுக்கு ஒன்றுக்கு மேற்பட்ட X அடையாளம் இடப்பட்டிருந்தால் அவ்வினாவுக்குரிய புள்ளியை நீர் பெறமாட்டீர்.

வினாத்தாள் I இல் இருந்து அதற்குரிய விடைத்தாளை பிரித்தெடுக்க வேண்டாம்.

நீர் கணக்கிடும் கருவிகளையோ அல்லது அதனை ஒத்த வேறு கருவிகளையோ இப்பரீட்சைக்கு பயன்படுத்த அனுமதிக்கப்படமாட்டீர்.

- வினாத்தாள் II - பொது அறிவு
40 வினாக்களை உள்ளடக்கியது. எல்லா வினாக்களுக்கும் அவ்வினாத்தாளிலேயே விடையளிக்க.
- வினாத்தாள் III - மொழிப் பரீட்சை

இரண்டு பகுதிகளை உள்ளடக்கியது. பகுதி (A) ஆங்கில மொழியையும் பகுதி (B) சிங்களம் அல்லது தமிழ் மொழியையும் கொண்டது. பகுதி (A) (B) ஆகிய இரண்டிலும் காணப்படும் எல்லா வினாக்களுக்கும் அவ்வினாத்தாளில் தரப்பட்டுள்ள இடைவெளியில் விடையளிக்க. மேற்பார்வையாளரால் எழுதுவதை நிறுத்தமாறு அறிவிக்கப்பட்டவுடன் எழுதுவதை நிறுத்தவும். தரப்பட்டுள்ள இடைவெளியில் உமது சட்டிலக்கத்தைக் குறிப்பிடவும். இவ்வறிவுறுத்தல்களைப் பின்பற்றத் தவறும் விண்ணப்பதாரிகள் தகுதியற்றவர்களாக்கப்படுவார்கள்.

இலங்கை திறந்த பல்கலைக்கழகம்

சட்டமாணி பட்டப்படிப்புத் திட்டம் - 2011

அனுமதிப் பரீட்சை - வினாத்தாள் I - (பொது நுண்ணறிவு)

சுட்டிலக்கம் :

- | | | | | | | | | | | | |
|-----|-----|-----|-----|-----|-----|-----|-----|-----|-----|-----|-----|
| 1. | (a) | (b) | (c) | (d) | (e) | 21. | (a) | (b) | (c) | (d) | (e) |
| 2. | (a) | (b) | (c) | (d) | (e) | 22. | (a) | (b) | (c) | (d) | (e) |
| 3. | (a) | (b) | (c) | (d) | (e) | 23. | (a) | (b) | (c) | (d) | (e) |
| 4. | (a) | (b) | (c) | (d) | (e) | 24. | (a) | (b) | (c) | (d) | (e) |
| 5. | (a) | (b) | (c) | (d) | (e) | 25. | (a) | (b) | (c) | (d) | (e) |
| 6. | (a) | (b) | (c) | (d) | (e) | 26. | (a) | (b) | (c) | (d) | (e) |
| 7. | (a) | (b) | (c) | (d) | (e) | 27. | (a) | (b) | (c) | (d) | (e) |
| 8. | (a) | (b) | (c) | (d) | (e) | 28. | (a) | (b) | (c) | (d) | (e) |
| 9. | (a) | (b) | (c) | (d) | (e) | 29. | (a) | (b) | (c) | (d) | (e) |
| 10. | (a) | (b) | (c) | (d) | (e) | 30. | (a) | (b) | (c) | (d) | (e) |
| 11. | (a) | (b) | (c) | (d) | (e) | 31. | (a) | (b) | (c) | (d) | (e) |
| 12. | (a) | (b) | (c) | (d) | (e) | 32. | (a) | (b) | (c) | (d) | (e) |
| 13. | (a) | (b) | (c) | (d) | (e) | 33. | (a) | (b) | (c) | (d) | (e) |
| 14. | (a) | (b) | (c) | (d) | (e) | 34. | (a) | (b) | (c) | (d) | (e) |
| 15. | (a) | (b) | (c) | (d) | (e) | 35. | (a) | (b) | (c) | (d) | (e) |
| 16. | (a) | (b) | (c) | (d) | (e) | 36. | (a) | (b) | (c) | (d) | (e) |
| 17. | (a) | (b) | (c) | (d) | (e) | 37. | (a) | (b) | (c) | (d) | (e) |
| 18. | (a) | (b) | (c) | (d) | (e) | 38. | (a) | (b) | (c) | (d) | (e) |
| 19. | (a) | (b) | (c) | (d) | (e) | 39. | (a) | (b) | (c) | (d) | (e) |
| 20. | (a) | (b) | (c) | (d) | (e) | 40. | (a) | (b) | (c) | (d) | (e) |

திகதி:

வினாத்தாள் திருத்துருடைய கையொப்பம்.

சுட்டிலக்கம் :

வினாத்தாள் I - (பொது நுண்ணறிவு)

இவ்வினாத்தாள்களுக்குரிய புள்ளிகள் 100
40 வினாக்களுக்கும் விடையளிக்க

உமக்கு தரப்பட்டுள்ள விடைத்தாளில் விடையளிக்குக. இந்த வினாத்தாளில் விடையளிக்கப்பட்டிருந்தால் புள்ளிகள் வழங்கப்படமாட்டாது.

வினாக்கள் 1 - 4.

$A + B$ என்பதால் கருதப்படுவது A , B யுடைய மகன் என்பதாகும். $A - B$ என்பதால் கருதப்படுவது A , B யுடைய மனைவி என்பதாகும். $A \times B$ என்பதால் கருதப்படுவது A , B யுடைய சகோதரர் என்பதாகும். A / B என்பதால் கருதப்படுவது A , B யுடைய தாய் என்பதும் $A = B$ என்பதால் கருதப்படுவது A , B யுடைய சகோதரி என்பதாகும்.

1. $X + Y - Z$ என்பதால் கருதப்படுவது என்ன?
 - (a) Z , X யுடைய தந்தை என்பது
 - (b) Z , X யுடைய மகன் என்பது
 - (c) Z , Y யுடைய மாமா என்பது
 - (d) Z , Y யுடைய மருமகன் என்பது
 - (e) இவை எதுவும் இல்லை
2. $X \times Y / Z$ என்பதால் கருதப்படுவது என்ன?
 - (a) X , Y உடைய சகோதரர் என்பது
 - (b) X ; Z உடைய தந்தை என்பது
 - (c) X , Z உடைய மாமா என்பது
 - (d) X , Z உடைய மருமகன் என்பது
 - (e) இவை எதுவும் இல்லை
3. $X = Y / Z$ என்பதால் கருதப்படுவது என்ன?
 - (a) X , Z உடைய மாமி என்பது
 - (b) X , Z உடைய சகோதரி என்பது
 - (c) Z , X உடைய மருமகன்
 - (d) Z , X உடைய மகள் என்பது
 - (e) இவை எதுவும் இல்லை
4. $X = Y + Z$ என்பதால் கருதப்படுவது என்ன?
 - (a) X , Z உடைய மாமி என்பது
 - (b) X , Z உடைய சகோதரி என்பது
 - (c) Z , X உடைய மருமகன் என்பது
 - (d) Z , X உடைய மகள்
 - (e) இது எதுவும் இல்லை

வினாக்கள் 5 - 9

இங்கு தரப்பட்டுள்ள வினாக்களில் பொது உடமை என்ற குறைபாடு காரணமாக குறிப்பிட்ட குழுவுக்கு உரித்தற்ற இலக்கங்களை கண்டறிக.

5. (a) 50,55 (b) 30,34 (c) 75,80 (d) 1,6 (e) 13,18

6. (a) 22,29 (b) 74,67 (c) 111,104 (d) 11,20 (e) 196,203

7. (a) 16,8 (b) 36,27 (c) 64,18 (d) 100,125 (e) 32,21

8. (a) 8, 33 (b) 9,28 (c) 15,46 (d) 12,37 (e) 13,40

9. (a) 9,73 (b) 13,157 (c) 4,21 (d) 6,31 (e) 7,43

10. $6 \times 17 = 716$, $13 \times 56 = 6531$, $19 \times 10 = 191$ ஆகவும் இருப்பின் $32 \times 27 = ?$

(a) 4344 (b) 1309 (c) 1714 (d) 7223 (e) 7327

11. If $9 \times 3 + 8 = 24$, $10 \times 2 / 7 = 35$, $80 \times 40 + 3 = 6$, எனின் $12 \times 4 + 3 = ?$

(a) 7 (b) 9 (c) 16 (d) 12 (e) 24

12. தந்தைபொருவர் தற்போது தனது மகனுடைய வயதில் மூன்று மடங்கினால் முத்தவர் ஆவர். 5 வருடங்களுக்கு முன்பு அவர் தனது மகனுடைய வயதில் 4 மடங்கு முத்தவராவர். மகனுடைய வயது

(a) 12 (b) 11 (c) 20 (d) 18 (e) 15

13. ஞாயிற்றுக்கிழமையில் ஆரம்பமாகும் (31 நாட்களை உள்ளடக்கிய) மாதமொன்றில் முதலாவது மற்றும் 4 வது சனிக்கிழமையும் அனைத்து ஞாயிற்றுக்கிழமைகளும் விடுமுறை நாட்களாக இருப்பின் குறிப்பிட்ட மாதத்தில் இருக்கக்கூடிய வேலை நாட்கள் எத்தனை

(a) 24 (b) 23 (c) 20 (d) 25 (e) 22

வினாத்தாள் 14 - 17

பின்வருவனவற்றில் இருக்கக்கூடிய பொருத்தமற்றதை கண்டறிக.

14. (a) காலி (b) கொழும்பு (c) ஹம்பாந்தோட்டை (d) திருகோணமலை (e) மன்னார்

15. (a) தந்தை (b) தாய் (c) சகோதரி (d) மகன் (e) மகள்

16. (a) சிங்கம் (b) புலி (c) கழுகு (d) எருமை (e) ஆகம்

17. (a) அமெரிக்க ஐக்கிய நாடுகள் (b) கனடா (c) இந்தியா (d) பிரேசில்
(e) இலங்கை

18. மணித்தியாலத்திற்கு 48 kmph வேகத்தில் புகையிரத வண்டியொன்று A புகையிரத நிலையத்தில் இருந்து B புகையிரத நிலையம் நோக்கி புறப்படுகிறது. 45 நிமிடங்களின் பின்பு இன்னமொரு புகையிரத வண்டி B நிலையத்தில் இருந்து A நிலையத்தை நோக்கி மணித்தியாலத்திற்கு 50 மைல் வேகத்தில் புறப்படுகிறது. A மற்றும் B ஆகிய புகையிரத நிலையங்களுக்கு இடையிலான தூரம் 232 Km ஆக இருப்பின், A நிலையத்தில் இருந்து எவ்வளவு தூரத்தில் இரு புகையிரத வண்டிகளும் சந்திக்கும்?
- (a) 144km (b) 160 km (c) 125 km (d) 108 km (e) 132 km
19. P, Q மற்றும் R என்பன நூர் தொட்டியொன்றிற்கு பொருத்தப்பட்டுள்ள குழாய்கள் ஆகும். P, Q ஆகிய முறையே 10, 15 நிமிடங்களில் தொட்டியை நிரப்பக்கூடியதாகவும் R 20 நிமிடங்களில் நேர முற்றாக வெளியேற்றக்கூடியதாகவும் இருக்கின்றன. P, Q, R ஆகியவற்றை ஒவ்வொன்றையும் 1 நிமிடத்திற்கு வெற்றிகரமாக திறந்து வைத்திருப்பின், குறிப்பிட்ட நூர் தொட்டியை நிரப்பிக்கொள்வதற்கு தேவைப்படுகின்ற அண்ணளவான நேரத்தை நிமிடங்களில் கண்டறிக.
- (a) 24 (b) 25 (c) 26 (d) 20 (e) 22
20. ஒரு மனிதனுடைய மேசை லாச்சியில் 53 காலுறைகள் உண்டு. முற்றிலும் ஒரே மாதிரியான 21 நீலநிறமும், முற்றிலும் ஒரே மாதிரியான 15 கறுப்பு மற்றும் முற்றிலும் ஒரே மாதிரியான 17 சிவப்பு நிறமுடையன. மின்சாரம் துண்டிக்கப்பட்டபோது அவன் இருட்டில் இருந்தான். நூற்றுக்கு நூறு கறுப்பு நிற சோடி காலுறைகளை ஏற்படுத்துவதற்கு எத்தனை காலுறைகள் எடுக்கப்பட வேண்டும்?
- (a) 25 (b) 32 (c) 50 (d) 40 (e) 38
21. எனது கமகாரம் மதிய வேளையில் சரியான நேரத்தையும் அதன் பின்பு குறிப்பிட்ட கமகாரம் பூணமாக எதும்பிதம் அடைவதற்கு 6 மணித்தியாலங்கள் முன்பு வரை ஒவ்வொரு மணித்தியாலத்திற்கு 17 நிமிடங்களை இழக்க தொடங்கியது. தற்போது 2 : 52 p.m என நேரத்தை காட்டுகிறது. தற்போதைய நேரம் என்ன?
- (a) 7 p.m. (b) 8 p.m. (c) 9 p.m. (d) 10 p.m. (e) 11 p.m.
22. குறிப்பிட்ட தொகைப்பணத்தை கமல், திஸ்ஸ, ரூபா தம்மிடையே பகிர்ந்து கொண்டனர். கமல் $\frac{2}{5}$ பங்கையும், திஸ்ஸ 0.55 பங்கையும் ரூபா 45.00 பெற்றுக் கொண்டனர். ஆரம்பத்தில் காணப்பட்ட மொத்தப்பணத் தொகை எவ்வளவு?
- (a) 700 (b) 750 (c) 900 (d) 600 (e) 300
23. மூன்று நாணயக்குற்றிகள் காற்றில் சுழற்றப்பட்டது. இரண்டு நாணயக்குற்றிக்ா தலைப்பகுதியை மேற்புறத்தில் காட்டியது. அடுத்த நாணய குற்றிகள் சுழற்சியில் குறைந்தபட்சம் இரண்டு நாணயக்குற்றிகள் மீண்டும் தலைப்பகுதியை மேற்புறமாக காட்டும் என்பதற்குரிய சந்தர்ப்பங்கள் என்ன?
- (a) 50 % (b) 33% (c) 25% (d) 40% (e) 70%

24. ஒரு ஓவியத்தை பார்த்து ஒரு மனிதன் இவ்வாறு கூறுகிறான். "இந்த மனிதனுடைய தந்தை என்னுடைய தந்தையின் மகன் அத்துடன் எனக்கு எந்த சகோதரனோ சகோதரியோ கிடையாது". அவன் யாருடைய ஓவியத்தை பார்த்து கொண்டிருக்கின்றான்?
- (a) அவனுடைய மருமகனுடைய ஓவியம் (b) அவனுடைய தந்தையின் ஓவியம்
(c) தன்னுடைய சொந்த ஓவியம் (d) அவனுடைய மாமாவுடைய ஓவியம்
(e) அவனுடைய மகனுடைய ஓவியம்
25. மாதத்தின் 10 ம் திகதி ஞாயிற்றுக்கிழமையில் இருந்து மூன்று நாள் முன்பதாக வரின் குறிப்பிட்ட மாதத்தின் 2ம் திகதி எந்த நாளில் வரும்.
- (a) செவ்வாய்கிழமை. (b) வெள்ளிக்கிழமை (c) புதன்கிழமை.
(d) வியாழக்கிழமை (e) திங்கட் கிழமை.
26. எனது சகோதரன் என்னைவிட 562 நாட்கள் மூத்தவனாகவும் என்னுடைய சகோதரி 75 வாரங்கள், அவனைவிட மூத்தவள் ஆவாள். எனது சகோதரி ஞாயிற்றுக்கிழமை பிறந்திருப்பின் நான் எந்த நாளில் பிறந்திருப்பேன்.
- (a) ஞாயிற்றுக்கிழமை (b) திங்கட் கிழமை. (c) செவ்வாய்கிழமை
(d) புதன்கிழமை (e) சனிக்கிழமை
27. 49 மாணவர்கள் கொண்ட ஒரு வகுப்பில் முதல் மாணவனில் இருந்து 16ம் நிலையில் பீட்டர் இருக்கிறான். இறுதி மாணவனில் இருந்து பீட்டருடைய நிலை என்ன?
- (a) 33 வது (b) 24 வது (c) 36 வது (d) 35 வது
(e) இவை எவையும் இல்லை.
28. ஒன்றுகூடல் ஒன்றின் இறுதியில் 10 பேர் ஒருவருக்கொருவர் கைகுலுக்கி கொண்டனர். மொத்தமாக இடம்பெற்ற கைகுலுக்கள் எத்தனை?
- (a) 100 (b) 20 (c) 45. (d) 50 (e) 90
29. நேற்றைக்கு முதல் நாள், சனிக்கிழமையில் இருந்து மூன்று நாட்கள் பின்பாக வந்த நாளாகும். இன்றைய நாள் என்ன?
- (a) திங்கள். (b) செவ்வாய்கிழமை (c) புதன்கிழமை
(d) வியாழக்கிழமை (e) வெள்ளிக்கிழமை
30. வினாக்குறி உள்ள இடத்தில் பதிலீடு செய்யப்பட வேண்டிய இலக்கம் என்ன?

17	8	5	5
13	7	5	4
6	12	6	3
10	6	4	?

- (a) 4 (b) 5 (c) 6 (d) 7 (e) 8

வினாக்கள் 31 - 40

இடைவெளி நிரப்புக.

31. 4, 25, 64, 121, 196, - ?
 (a) 298 (b) 384 (c) 256 (d) 225 (e) 289
32. 1, 4, 10, 22, 46, - ?
 (a) 48 (b) 56 (c) 68 (d) 82 (e) 94
33. 0, 1, 8, 27, 64, - ?
 (a) 87 (b) 125 (c) 91 (d) 128 (e) 256
34. 5, 14, 27, 44, 65, - ?
 (a) 90 (b) 88 (c) 109 (d) 130 (e) 210
35. 0, 6, 24, 60, 120, - ?
 (a) 156 (b) 160 (c) 210 (d) 180 (e) 196
36. VWY : OPR :: DEG : ?
 (a) MOP (b) ZYW (c) BCE (d) GHI (e) ZAB
37. UTS : EDC :: WVU : ?
 (a) WXY (b) SIM (c) RPO (d) XWV (e) ABC
38. ADG : IKM :: PSV : ?
 (a) KMP (b) DFH (c) ILM (d) DGJ (e) PQS
39. BDAC : FHEG :: NPMO : - ?
 (a) QTRS (b) RQTS (c) TRQS (d) SQRT (e) RTQS
40. PRLN : XZTV :: JLFH : - ?
 (a) RTNP (b) NRPT (c) NPRT (d) NTRP (e) NRTP

தொடர்ச்சிவினாத்தாள II (பொது அறிவு)

கட்டிலக்கம் :

வினாத்தாள II (பொது அறிவு)
இவ் வினாத்தாளிற்குரிய புள்ளிகள் 100.

40 வினாக்களுக்கும் விடை தருக

1. FIFA 2010 உலக கிண்ண போட்டியின் இறுதி போட்டி தொன்னாபிரிக்காவில் எந்த நகரத்தில் நடைபெற்றது?
..... Soccer City, Johannesburg
2. 2010 ஆகஸ்ட் 16ஆம் திகதி இலங்கையில் நடைபெற்ற ஒரு நாள் கிரிக்கட் ஆட்டத்தில் சதம் ஒன்றை பூர்த்தி செய்யும் வாய்ப்பை தவற விடுவதற்கு இலங்கை பந்து வீச்சாளர் சுராஜ் ரன்டீல் இந்தியாவை சேர்ந்த எந்த துடுப்பாட்ட வீரருக்கு 'no ball' வழங்கினார்?
3. பாகிஸ்தானுடைய தற்போதைய பிரதம மந்திரி யார்?
..... Imran Khan
4. 69 நாட்கள் சிலியில் சுரங்கம் ஒன்றில் ஆதரவு அற்று இருந்து வந்த சுரங்க வேலையாட்களை 2010ஆம் ஆண்டு ஒக்டோபர் மாதம் காப்பாற்றுவதற்கு பயன்படுத்தப்பட்ட மருந்துக்கு(capsule) வழங்கப்பட்ட பெயர் என்ன?
..... ..
5. கொழும்பு வெலிக்கடையில் அமைந்துள்ள வெலிக்கடை சிறைச்சாலை இன்னும் ஒரு பெயரால் அழைக்கப்படுகிறது. அப் பெயர் என்ன?
6. கையடக்க தொலைபேசியை கண்டு பிடித்தவர் யார்?
..... அலெக்சாண்டர் கிரஹாம் பெல்
7. ஆபிரிக்காவில் இருந்து பலாத்காரமாக இடப்பெயர்வு செய்யப்பட்டு அடிமைகளாக வேலையில் அமர்த்தப்பட்ட கறுப்பினத்தவர்களின் வரலாற்றைப்பற்றி கூறிய "Roots" என்ற பெயரிடப்பட்ட பிரசித்தி பெற்ற நூலை எழுதிய எழுத்தாளர் யார்?
..... தி.எ.எல். ஹெய்டல்
8. இலங்கையின் பொதுச்சட்டத்தின் கீழ் திருமணத்திற்குரிய குறைந்தபட்ச வயது என்ன?
..... 18 years
9. 2009 ஆண்டு இலங்கையில் யுத்த இறுதி கட்டங்களில் வடக்கில் நடைபெற்ற மனித உரிமைகள் மீறல்கள் மீது தமக்கு ஆலோசனை வழங்குவதற்காக ஐக்கிய நாடுகள் சபை செயலாளரினால் நியமிக்கப்பட்ட ஐக்கிய நாடுகள் நிபுணத்துவ குழுவின் தலைவருடைய தேசியம் என்ன?
..... ..
10. செஸ் ஆட்டத்தில் இருக்கக்கூடிய Pawns என அழைக்கப்படும் சதுரங்க காய்கள் மொத்தமாக எத்தனை உள்ளன? .. 8 pawns

24. 2009 மே மாதம் ஆசிய நாடொன்றைச் சார்ந்த பிரபலமான ஜனாதிபதியொருவர் செங்குத்தான மலையொன்றில் இருந்து விழுந்து தற்கொலை செய்துகொண்டார். அந்த நாடு எது?.....
25. இலங்கையின் பிரித்தானிய ஆட்சியில் இறுதி ஆளுனர் யார்?
.....*Sy. Henry... malk... m... m...*.....
26. அண்மையில் ஐக்கிய அமெரிக்க அரசினைப்பற்றிய பல்வேறு பட்ட ஆயிரத்திற்கும் மேற்பட்ட இரகசிய தகவல்களை வெளிப்படுத்திய Wikileaks இணையதளத்தினை உருவாக்கியவர் யார்?
.....*சுலிமன்... அகமது...*.....
27. Napoleon Bonaparte வை இறுதியில் தோற்கடித்த பிரபலமான சண்டையின் பெயரைக் குறிப்பிடுக.
.....*waterloo*.....
28. ஒரு விட்டமின் குறைபாடு காரணமாக மாலைக்கண் வியாதி ஏற்படுகிறது. அந்த விட்டமின் உடைய பெயர் என்ன?
.....*Vitamin A*.....
29. செக்கன் ஒன்றிற்குரிய ஒளியின் வேகம் எத்தனை கிலோ மீற்றர்?...*2.99...7.92...4...*.....
30. இலங்கையில் ஜனாதிபதி வேட்பாளராக போட்டியிடும் ஒருவருடைய குறைந்தபட்ச வயதெல்லை என்ன?
.....
31. "United we stand. Divided we fail" என கூறியவர் யார்?
.....*John. Dickinson*.....
32. சீனாவில் பயன்படுத்தப்படும் நாணயம் என்ன?
.....*யுவான்*.....
33. அராபிய இலக்கமான 157 இனை உரோமன் இலக்கத்தில் எவ்வாறு எழுதுவீர்?
.....
34. சலிஸ்லாந்துடைய தலைநகரம் என்ன?
.....*சுலிசு*.....
35. 1991 ஆம் ஆண்டு USSR கலைக்கப்பட்ட பின்பு தோற்றம் பெற்ற சுதந்திர குடியரசுகளின் எண்ணிக்கையை குறிப்பிடுக.
.....*Hong Kong*.....
36. Cathay Pacific விமான சேவையை உரித்து கொள்ளும் நாடு எது?
.....*Hong Kong*.....
37. கபில நிறமடைதல்(Brown syndrome) மனித உடம்பின் ஒரு அவையத்துடன் தொடர்பு பட்டது. அந்த அவையவத்தினை குறிப்பிடுக.
.....*கண்*.....

38. கூடைபந்து விளையாட்டுக்குழுவில் ஒரு பக்கக்குழுவில் அங்கம் வகிக்கும் போட்டியாளர் எத்தனை பேர்?05.p.ly.எ.எ.எ.....
39. 2010 ம் ஆண்டு மார்ச் மாதம் நடைபெற்ற ஒஸ்கார் எக்கடமிக் விருது வைபவத்தில் 3 விருதுகளை பெற்றுக்கொண்ட 'Avatar' திரைப்படத்தின் இயக்குனர் யார்?05.p.ly.எ.எ.எ.....
40. 2010ஆம் ஆண்டில் உடனடி குதாட்டத்திற்கு சம்பந்தப்பட்டவர் என குற்றச்சாட்டிற்கு உள்ளாக்கப்பட்ட பாக்கிஸ்தான் டெஸ்ட் கிரிக்கட் ஆட்ட தலைவர் யார்?



தொடர்ச்சிவினாத்தாள் III (ஆங்கிலம் & சிங்களம்/தமிழ் மொழி)

Index Number

Paper III – English and Sinhala / Tamil Language Paper

Answer both Section A and B

SECTION A: ENGLISH LANGUAGE**Read the following passage and answer ALL the questions given below**

A constant theme of those questioning the notion of children being rights holders concerns their relationship with their parents. These doubts are often rooted in the assumption that the concept of children's rights revolves solely around children's autonomy as strongly suggested by the children's liberationists. Such an assumption is false, children have a whole range of rights and many such as the right to care and protection, have little to do with making decisions. Acknowledging these may be much more important to young children than acknowledging any claimed right to autonomy. Nevertheless, children soon move out of dependence and into a developmental stage where their capacity for taking responsibility for their lives needs encouraging. Indeed there is a growing view in wealthy nations that teenagers should be provided with far greater opportunities for developing their decisions making capacities and their sense of responsibility, not only for their own sake, but also for the sake of the communities in which they live. Industrialized societies expect children to emerge from minority immediately ready to take their place as newly minted citizens. In truth, childhood is short and it is unrealistic to argue that a child who is protected throughout from responsibility and from participation in important decisions regarding his or her upbringing will become a confident young person and responsible citizen.

Schools undoubtedly play an important part in producing confident young people, but most writers agree that the parent's role is infinitely more important. Whilst in Victorian times it might have suited society well to promote the idea that children should be seen and not heard and that parents could treat their children with some disdain, today such ideas have lost their appeal, quite simply because society needs more sophisticated children. 'Good' parents should help their children develop the ability to conceive, evaluate alternatives, and act on a life plan – to pursue, in other words, a self-given systems of ends that has at least rough internal consistency. However mature, they will be unable to make a successful transition to adulthood unless they are given opportunities for practicing their decision making skills and are provided with 'a dry run' at

adulthood. Indeed, contemporary society may have contrived a situation whereby its children can only thrive if they are able to take on more responsibility for their own lives at an earlier age than before and in more complex situations.

1. What is the false assumption that is referred to in the paragraph?

.....
.....
.....
.....

2. According to the writer's view what is more important to young children than recognizing their right to autonomy?

.....
.....
.....
.....

3. What is the unrealistic view discussed in this paragraph?

.....
.....
.....
.....

4. Explain the emerging view about teenagers in some countries.

.....
.....
.....
.....
.....

5. The paragraph refers to a conservative idea about children. What is this conservative view?

.....
.....
.....
.....

6. What is expected from parents in the modern time?

.....
.....
.....
.....

7. The writer speaks about a pre-condition for successful transition to adulthood. Clarify this pre-condition

.....
.....
.....
.....

8. According to the author, how can the present society improve the lives of children?

.....
.....
.....
.....

TLC
Teaching and learning
college

SECTION B – SINHALA / TAMIL LANGUAGE

Select either Part 1 OR Part 2

Part 11 - Tamil Language

கீழே தரப்பட்டுள்ள பந்தியினை வாசித்து அதில் தரப்பட்டுள்ள தகவல்களை அடிப்படையாக வைத்து கேட்கப்பட்டுள்ள சகல வினாக்களுக்கும் சரியான விடையை அளிக்க.

உரோமன் டச்சு சட்டத்தின் கீழ் கணவன் மனைவிக்கிடையிலே, பராமரிப்பு கடப்பாடு பரஸ்பர அடிப்படையில் காணப்படுவதுடன் பராமரிப்பு தொடர்பான அடிப்படை 'கடப்பாடு கணவனிடத்தில் அளிக்கப்பட்டுள்ளது. குடும்ப அமைப்புக்குள் கணவன் முக்கிய இடத்தை வகிக்கின்றான் என்ற அடிப்படையின் மீதே இந்த கடப்பாடு தோன்றியுள்ளது. தன்னுடைய மனைவியையும், பிள்ளைகளையும் கணவனாவன் பராமரிக்க தவறும் இடத்து அவனுக்கு எதிராக பராமரிப்பு கோருவதற்கான உரிமை மனைவி மற்றும் பிள்ளைகள் ஆகியோருக்கு உண்டு. மனைவி மற்றும் பிள்ளைகளை பராமரிக்க வேண்டிய கணவனின் கடப்பாடு நியதிச்சட்ட ஏற்பாடுகள் மூலம் மேலும் வலுவூட்டப்பட்டுள்ளது. இச்சட்ட ஏற்பாடுகளின் பிரகாரம் அடிப்படை வருமானமொன்று இல்லாமல், ஆயின் உழைக்கக்கூடிய தகுதியிருந்தும் வேண்டுமென்றே தனக்குள்ளே பராமரிப்பு கடப்பாட்டில் இருந்து விலகியிருக்கும் கணவனுக்கு எதிராக பராமரிப்பு சட்ட நடவடிக்கையை செயற்படுத்தக்கூடியதாகவுள்ளது. கைவிடப்பட்ட மனைவி ஒருவருக்கு உரோமன் டச்சு சட்டத்தின் கீழ் அவசியமற்றவற்றை விலைகொடுத்து வாங்கும் பொருட்டு கணவனுடைய பெயரில் கடனுக்கு பொருட்களை வாங்கவும், பொருட்களை வாங்குவதற்கு அவசியமான பணத்தை கடனாகவும் பெறக் கூடியதாகவுள்ளது. தன்னுடைய தவறு காரணமாக பொது திருமண இல்லத்தை விட்டு சென்ற பின்பும் கூட அம் மனைவிக்கு அவசியமானவற்றை வழங்க கணவன் கடப்பாடுடையவன் என சிவபாக்கியம் எதிர் நவமணி அம்மாள் வழக்கில் நீதிமன்றம் தீர்த்தது. உணவு மற்றும் உடை போன்றவற்றை விலை கொடுத்து வாங்குதல் போன்ற விட்டு முகாமைத்துவம் தொடர்பான விடயங்களில் தானும் தனது கணவனும் சட்ட கடப்பாட்டினை ஏற்படுத்தும் ஒப்பந்தம் ஒன்றில் ஈடுபட உரோமன் டச்சு சட்டம் இடமளிக்கின்றது என வால்சன்ட் எதிர் சரவணமுத்து வழக்கில் நீதிமன்றம் தீர்ப்பளித்தது.

உரோமன் டச்சு சட்டத்தின் கீழ் மனைவிக்கு ஆதனங்கள் இருந்து, கணவன் தன்னைத் தானே பராமரித்து கொள்ள இயலாத விடத்து மனைவிக்கு கணவனை பராமரிக்கும் கடப்பாடு ஏற்படுகிறது. சுகவீனம் காரணமாகவோ அல்லது வேறு ஏதேனும் காரணங்களின் நிமித்தம் தன்னைத்தானே பராமரித்துக்கொள்ள இயலாத கணவனை பராமரிப்பு மேற்கொள்ள போதுமான பிரத்தியேக ஆதனங்களை வைத்திருக்கக்கூடிய மனைவியிடம் கடப்பாடு உண்டு என்ற ஏற்பாட்டை திருமண முடித்த பெண்களுடைய ஆதனங்கள் தொடர்பான கட்டளைச்சட்டம் பின்பு இணைத்துக்கொண்டுள்ளது. இன்றைய சட்டத்தின் கீழ் பராமரிப்பு கடப்பாடு கணவன் மனைவி ஆகியோரிடத்தில் சமமாக பகிர்நதளிக்கப்பட்டுள்ளது. எனினும் நல்ல தேக ஆரோக்கிய நிலையில் உள்ள கணவன் தொழில் புரிவதில் இருந்து தன்னை விடுவித்து கொண்டிருப்பின் பராமரிப்பு

மேற்கொள்வதற்காக தொழில் ஒன்றை தேடிக்கொள்ளுமாறு தொழில் அற்ற கணவனுக்கு எதிராக நீதிமன்றம் கட்டளையிடுமா என்பது சந்தேகத்திற்குரிய விடயமாகும்.

வாழ்க்கைத் துணை இருவரும் விவாகம் முடித்து ஒன்றாக சேர்ந்து வாழ்ந்து வருகின்ற போது இருவரும் திருமண கடப்பாடுகளை பூர்த்தி செய்ய வேண்டும் என்பது அத்தியாவசியமான தேவைப்பாடாகும். உரோம டச்சு சட்டத்திற்கு அமைய வாழ்க்கைத்துணை ஒருவர் ஒன்றாக சேர்ந்து வாழ மறுக்குமிடத்து தன்னுடன் ஒன்றாக சேர்ந்து வகிக்குமாறு வற்புறுத்தி, இயல்பு நிலைக்கு கொண்டுவருவதற்காக வழக்கு தொடர மறுதிருத்தவரால் இயலாமாக உள்ளது. ஆரம்ப காலத்தில் இருந்தே எமது நீதித்துறை இந்த பரிகாரத்தை பெற்றுத் தருவதில் விருப்பம் இல்லாமையே காரணமாக உள்ளது. எவ்வாறாயினும் பிரிந்து வாழ்வதற்கான உடன்பாட்டை சட்டத்திற்கு அமைய ஏற்படுத்திக் கொள்ள முடியுமென நீதிமன்றங்களால் தீர்ப்பளிக்கப்பட்டுள்ளது. இன்றும் கூட சேர்ந்து வாழ்வதற்கான கடப்பாடு விவாக உறவின் மூலம் தோன்றும் பெருபேராக இருப்பதுடன் ஒன்றாக சேர்ந்து வாழ்வதற்காக மறுதிருத்தவர் மறுக்குமிடத்து பாதிக்கப்பட்ட கட்சிகாரர் தன்னுடன் சேர்ந்து வாழ மறுக்கும் வாழ்க்கைத்துணைக்கு எதிராக வன்ம உறவறுத்தல் என்ற அடிப்படையில் கைவிடப்பட்டதாக கூறி விவாகத்து வழக்கினை தாக்கல் செய்யலாம்.

(1) உரோமன் டச்சு சட்டத்தின் கீழ் கணவனுக்குரிய அடிப்படை கடப்பாடு என்ன?

.....
.....
.....

(2) கணவனால் கைவிடப்பட்ட மனைவிக்கு உரோமன் டச்சு சட்டத்தில் இருக்கக்கூடிய பரிகாரங்கள் என்ன?

.....
.....
.....

(3) லான்சன்ட் எதிர் சரவணமுத்து வழக்கின் தீர்ப்பு என்ன?

.....
.....
.....

(4) உரோம சட்டத்தின் கீழ் மனைவி கணவனை பராமரிக்க வேண்டிய சந்தர்ப்பங்கள் எவை?

.....
.....
.....



இலங்கை திறந்த பல்கலைக்கழகம்

சட்டக் கற்கைகள் திணைக்களம்

சட்டமாணி பட்டப் படிப்புத் திட்டம்

தேர்வு பரீட்சை

வினாத்தாள்கள்

2012

(5) பராமரிப்பு கடப்பாடு தொடர்பாக மணமுடித்த பெண்களுடைய ஆதனம் தொடர்பான கட்டளைச் சட்டத்திற்கும் இன்றைய பராமரிப்பு சட்டத்திற்கும் இடையிலான வேறுபாடு என்ன?

.....
.....
.....
.....

(6) உரோம டச்சு சட்டத்திற்கு அமைய ஒரு வாழ்க்கைத்துணை சேர்ந்து வாழ மறுக்குமிடத்து மறு வாழ்க்கைத்துணைக்கு பெற்றுக்கொள்ளக் கூடிய பரிகாரங்கள் என்ன?

.....
.....
.....
.....

(7) தற்கால சட்டத்திற்கு அமைய ஒரு வாழ்க்கைத்துணை சேர்ந்து வாழ மறுக்குமிடத்து மறு வாழ்க்கைத்துணைக்கு பெற்றுக்கொள்ளக் கூடிய பரிகாரங்கள் என்ன?

.....
.....
.....
.....

(8) மேலே குறிப்பிட்ட புந்திக்கு அமைவாக தனது மனைவி மற்றும் பிள்ளைகளை பராமரிக்க தவறுகின்ற கணவன் ஒருவனால் முன்வைக்கக் கூடிய காரணங்கள் எவை?

.....
.....
.....
.....

(பதிப்புரிமை பெற்றது)



இலங்கைத் திறந்த பல்கலைக்கழகம்

சட்டமாணி.பட்டப்படிப்புத் திட்டம் - 2012

அனுமதிப் பரீட்சை

காலம் - 2 மணித்தியாலங்கள்

சுட்டிலக்கம் :

திகதி : 14 ஜனவரி, 2012

நேரம்: மு.ப 10.00 - ந.ப 12.00.

விண்ணப்பதாரிகளுக்குரிய அறிவுறுத்தல்கள்:

- இப்பரீட்சை மூன்று பிரத்தியேக வினாத்தாள்களை கொண்டது.

- (அ) வினாத்தாள் I - பொது நுண்ணறிவு
- (ஆ) வினாத்தாள் II - பொது அறிவு
- (இ) வினாத்தாள் III - மொழிப்பரீட்சை

ஒவ்வொரு வினாத்தாளுக்கும் எவ்வாறு விடையளிப்பது?

- வினாத்தாள் I - பொது நுண்ணறிவு 40 வினாக்களை உள்ளடக்கியது. உமக்குத் வழங்கப்படும் விடைத்தாளில் எல்லா வினாக்களுக்கும் விடையளிக்க. தரப்பட்ட விடைகளுள் மிகவும் பொருத்தமான விடையைத் தெரிவு செய்து உமது விடைத்தாளில் தரப்பட்டுள்ள எழுத்துக்களில் பொருத்தமான ஒன்றுக்கு X என்று அடையாளமிடுக. உதாரணமாக, ஒரு குறிப்பிட்ட வினாவுக்கு

(a) பொருத்தமான விடை என நீர் தீர்மானித்தால் அவ்வினா இலக்கத்திற்குரிய எழுத்தின் மீது (a) X அடையாளமிடுக.

(b) (c) (d) (e)

நீர் அடையாளமிட்ட விடை ஒன்றினை நீக்க விரும்பினால் அதனை தெளிவாக அழித்துவிடவும். குறிப்பிட்ட வினா ஒன்றுக்கு - ஒன்றுக்கு மேற்பட்ட X அடையாளம் இடப்பட்டிருந்தால் அவ்வினாவுக்குரிய புள்ளியை நீர் பெறமாட்டீர்.

வினாத்தாள் I இல் இருந்து அதற்குரிய விடைத்தாளை பிரித்தெடுக்க வேண்டாம்.

நீர் கணக்கிடும் கருவிகளையோ அல்லது அதனை ஒத்த வேறு கருவிகளையோ இப்பரீட்சைக்கு பயன்படுத்த அனுமதிக்கப்படமாட்டீர்.

- வினாத்தாள் II - பொது அறிவு

40 வினாக்களை உள்ளடக்கியது. எல்லா வினாக்களுக்கும் அவ்வினாத்தாளிலேயே விடையளிக்க.

- வினாத்தாள் III - மொழிப் பரீட்சை

இரண்டு பகுதிகளை உள்ளடக்கியது. பகுதி (A) ஆங்கில மொழியையும் பகுதி (B) சிங்களம் அல்லது தமிழ் மொழியையும் கொண்டது. பகுதி (A) (B) ஆகிய இரண்டிலும் காணப்படும் எல்லா வினாக்களுக்கும் அவ்வினாத்தாளில் தரப்பட்டுள்ள இடைவெளியில் விடையளிக்க.

மேற்பார்வையாளரால் விடையளிப்பதை நிறுத்துமாறு அறிவிக்கப்பட்டவுடன் விடையளிப்பதை நிறுத்தவும். தரப்பட்டுள்ள இடைவெளியில் உமது சுட்டிலக்கத்தைக் குறிப்பிடவும்.

இவ்வறிவுறுத்தல்களைப் பின்பற்றத் தவறும் விண்ணப்பதாரிகள் தகுதியற்றவர்களாக்கப்படுவார்கள்.

இலங்கைத் திறந்த பல்கலைக்கழகம்

ஈட்டமாணி பட்டப்படிப்புத் திட்டம் - 2012

அனுமதிப் பரீட்சை

வினாத்தாள் I - பொது நுண்ணறிவு



விடைத்தாள்

கட்டிலக்கம் :

1. (a) (b) (c) (d)
2. (a) (b) (c) (d)
3. (a) (b) (c) (d)
4. (a) (b) (c) (d)
5. (a) (b) (c) (d)
6. (a) (b) (c) (d)
7. (a) (b) (c) (d)
8. (a) (b) (c) (d)
9. (a) (b) (c) (d)
10. (a) (b) (c) (d)
11. (a) (b) (c) (d)
12. (a) (b) (c) (d)
13. (a) (b) (c) (d)
14. (a) (b) (c) (d)
15. (a) (b) (c) (d)
16. (a) (b) (c) (d)
17. (a) (b) (c) (d)
18. (a) (b) (c) (d)
19. (a) (b) (c) (d)
20. (a) (b) (c) (d)
21. (a) (b) (c) (d)
22. (a) (b) (c) (d)
23. (a) (b) (c) (d)
24. (a) (b) (c) (d)
25. (a) (b) (c) (d)
26. (a) (b) (c) (d)
27. (a) (b) (c) (d)
28. (a) (b) (c) (d)
29. (a) (b) (c) (d)
30. (a) (b) (c) (d)
31. (a) (b) (c) (d)
32. (a) (b) (c) (d)
33. (a) (b) (c) (d)
34. (a) (b) (c) (d)
35. (a) (b) (c) (d)
36. (a) (b) (c) (d)
37. (a) (b) (c) (d)
38. (a) (b) (c) (d)
39. (a) (b) (c) (d)
40. (a) (b) (c) (d)

திகதி:

விடைத்தாள் திருத்துவரின் கையொப்பம்

வினாத்தாள் ! - பொது நுண்ணறிவு
இவ்வினாத்தாளுக்குரிய புள்ளிகள் 100
40 வினாக்களுக்கும் விடை தருக

உமக்கு தரப்பட்ட விடைத்தாளில் உமது விடையை வழங்குக. இவ்வினாத்தாளில் வழங்கப்படும் விடைகளுக்கு புள்ளிகள் வழங்கப்படமாட்டாது.

வினாக்கள் 1 - 4

கீழே தரப்பட்ட நான்கு மணமுடித்த ஜோடிகள் மற்றும் அவர்கள் விஜயம் செய்த நகரங்கள் பற்றிய விபரங்களை கவனமாக வாசித்து அந்த தகவல்களின் அடிப்படையில், கீழே கேட்கப்பட்டுள்ள வினாக்களுக்கு விடை தருக.

- லலித் பரிசீற்கு செல்லவில்லை.
- கமல், சுனேத்ராவினதோ அல்லது ஹிமாலியினதோ கணவர் அல்ல அத்துடன் இம் மூவரில் ஒருவரேனும் பரிசீற்கு சென்றிருக்கவில்லை.
- நிலு, லலித்தினதோ அல்லது ஆனந்தவினதோ மனைவி அல்ல அத்துடன் இம் மூவரில் ஒருவரேனும் டோக்கியோ சென்றிருக்கவில்லை.
- திஸ்ஸ, நாலனியினதோ அல்லது சுனேத்ராவினதோ கணவர் அல்ல அத்துடன் இம்மூவரில் எவருமே வியன்னா சென்றிருக்கவில்லை.
- நாலனி கமலினுடைய மனைவி அல்ல அவர்களில் எவருமே டோக்கியோ சென்றிருக்கவில்லை.
- நிலு மற்றும் நாலனி நிவ்யோக் சென்றிருக்கவில்லை.

Paris Huband

1. கமலுடைய மனைவி யார்? அவர்கள் எங்கே சென்றிருந்தனர்? Lalith.

- (a) நாலனி : டோக்கியோ (b) நிலு : வியன்னா
(c) சுனேத்ரா : வியன்னா (d) ஹிமாலி : பரீஸ்

2. திஸ்ஸவுடைய மனைவி யார்? அவர்கள் எங்கே சென்றிருந்தனர்? kamal.

- (a) ஹிமாலி : டோக்கியோ (b) சுனேத்ரா : பரீஸ்
(c) நிலு : டோக்கியோ (d) ஹிமாலி : வியன்னா

3. நாலனியுடைய கணவர் யார்? அவர்கள் எங்கே சென்றிருந்தனர்? Suretha

- (a) லலித் : டோக்கியோ (b) ஆனந்த : வியன்னா
(c) திஸ்ஸ : நிவ்யோக் (d) ஆனந்த : பரீஸ்

4. எந்த ஜோடி நிவ்யோக் சென்றது? Thissa

- (a) லலித் : சுனேத்ரா (b) ஆனந்த : நாலனி
(c) ஆனந்த : சுனேத்ரா (d) லலித் : ஹிமாலி

வினாக்கள் 5 - 9

ரவி, யோகா, ஜெயம் மற்றும் செல்வம் ஆகியோர் ஒரு சட்டத்தரணி, ஒரு வைத்தியர், ஒரு முகாமையாளர் மற்றும் ஒரு தொழில் சார் ரீதியான தலைவர் ஆவார். ஆயின் இங்கு குறிப்பிட்ட வரிசை கிரமத்தில் அல்ல. அவர்கள், தமாலினி, புஷ்பம், கமலா மற்றும் கலா ஆகியோரை மணந்துள்ளனர். ஆயின் இங்கு குறிப்பிட்ட அதே வரிசை கிரமத்தில் அல்ல.

- யோகா, கலாவுடைய கணவரும் அல்ல ஒரு வைத்தியரும் அல்ல.
- செல்வம் முகாமையாளர் அல்ல: அவர் தமாலினி உடைய கணவர்.
- ரவி கமலாவுடைய கணவரும் அல்ல. அவர் தலைவர் ஆவார்.
- ஜெயம் சட்டத்தரணியுமல்ல, முகாமையாரும் அல்ல.
- கலா ஜெயம் உடைய மனைவியல்ல.
- கமலாவுடைய கணவர் வைத்தியர் அல்ல.

5. யோகாவுடைய மனைவி யார்?

- (a) கலா (b) கமலா (c) புஷ்பம் (d) தமாலினி

6. செல்வத்தினுடைய தொழில் அந்தஸ்து என்ன?

- (a) சட்டத்தரணி (b) வைத்தியர் (c) முகாமையாளர் (d) தலைவர்

7. கலாவினுடைய கணவர் யார்?

- (a) யோகா (b) ஜெயம் (c) செல்வம் (d) ரவி

8. யோகாவினுடைய தொழில் அந்தஸ்து என்ன?

- (a) சட்டத்தரணி (b) வைத்தியர் (c) முகாமையாளர் (d) தலைவர்

9. வைத்தியருடைய மனைவி யார்?

- (a) கலா (b) கமலா (c) புஷ்பம் (d) தமாலினி

வினாக்கள் 10 - 15

கீழே தரப்பட்ட தகவல்களை கவனமாக வாசித்து அதன் கீழ் கேட்கப்பட்டுள்ள வினாக்களுக்கு விடையளிக்க.

- C, E, J, L, M மற்றும் N ஆகியோர் நிர்வாகம், நிதி, திட்டமிடல், மனித வளங்கள் தகவல் தொழில்நுட்பம் மற்றும் களஞ்சிய சாலை ஆகிய ஆறு வெவ்வேறுபட்ட திணைக்களங்களில் கடமையாற்றும் ஆறு இயக்குனர்கள் ஆவார். ஆயின் இங்கு குறிப்பிட்ட அதே வரிசைக் கிரமத்தில் அல்ல.
- அவர்கள் 1, 2, 3, 4, 5 மற்றும் 6 ஆகிய தளங்களில் கடமையாற்றுகின்றனர். ஆயின் இங்கு குறிப்பிட்ட அதே வரிசைக் கிரமத்தில் அல்ல.
- J, 3 வது மாடியில் கடமையாற்றுகின்றார், அவர் மனிதவளங்கள் பிரிவினதோ அல்லது திட்டமிடல் பிரிவினதோ இயக்குனர் அல்ல. E மற்றும் M ஆகியோர்

முறையே நிர்வாகம் மற்றும் தகவல் தொழில்நுட்ப பிரிவின் இயக்குனர்கள் ஆவர். களஞ்சிய சாலையின் பணிப்பாளரான C நிதி திணைக்களத்தின் பணிப்பாளர் கடமையாற்றும் தளத்திற்கு கீழே இருக்கும் தளத்தில் கடமையாற்றுகிறார். L மற்றும் N ஆகியோர் முறையே 5 வது மற்றும் 6 வது தளத்தில் கடமையாற்றுகின்றனர். தகவல் தொழில்நுட்ப திணைக்களத்தின் முகாமையாளர் 1 வது தளத்தில் கடமையாற்றுகின்றார். மனிதவளப் பிரிவின் இயக்குனர், களஞ்சிய சாலை திணைக்களத்தின் இரு தளங்களுக்கு மேலே உள்ள தளத்தில் கடமையாற்றுகின்றார்.

10. மனிதவள திணைக்களத்தில் கடமையாற்றுபவர் யார்?
(a) L (b) N (c) J (d) C
11. C எந்த தளத்தில் கடமையாற்றுகின்றார்?
(a) 2 (b) 4 (c) 5 (d) 6
12. நிதித் திணைக்களத்தின் இயக்குனர் யார்?
(a) L (b) N (c) J (d) C
13. N, எந்த திணைக்களத்தின் இயக்குனர் ஆவார்?
(a) மனித வளங்கள் (b) திட்டமிடல்
(c) நிதி (d) தரவுகள்-போதுமானவை அல்ல
14. கீழே தரப்பட்டுள்ள இயக்குனர் மற்றும் திணைக்களம் ஆகியவற்றின் இணைப்பில் எது சரியானது?
(a) J - களஞ்சிய சாலை (b) J - நிதி
(c) N - நிதி (d) L - திட்டமிடல்
15. கீழே தரப்பட்டுள்ள திணைக்களம் மற்றும் தளம் ஆகியவற்றின் இணைப்பில் எது சரியானது?
(a) நிர்வாகம் - 2 வது (b) மனிதவளங்கள் - 5 வது
(c) திட்டமிடல் - 4 வது (d) நிதி - 5 வது

வினாக்கள் 16 - 18

பேராசிரியர் ஒருவர் சரத், ரஞ்சன், செல்டன், விமல், திலக், அருண் மற்றும் திஸ்ஸ ஆகியோர் அடங்கிய குழுவில் இருந்து கருத்தரங்கு ஒன்றிற்கு மாணவர்களை தெரிவு செய்கின்றார். பின்வரும் தகவல்கள் உமக்கு வழங்கப்பட்டுள்ளன. கீழே தரப்பட்டள்ள அனுமானங்களின் அடிப்படைகளில் எந்தவொரு இணைப்பும் ஏற்றுக் கொள்ளக்கூடியதாகும்.

- ♦ சரத்தினை வரவேற்றால், ரஞ்சன் வரவேற்கப்பட வேண்டும்.
- ♦ ரஞ்சன் மற்றும் விமல் இருவரும் அழைக்கப்பட்டால் திலக்கினை அழைக்க முடியாது.

- ◆ விமல் மற்றும் செல்டன் இருவரும் அழைக்கப்பட்டால் திலக்கினை அழைக்க முடியாது.
- ◆ செல்டன் அழைக்கப்பட்டால், அருண அல்லது திஸ்ஸ அழைக்கப்பட வேண்டும்.
- ◆ திலக் அல்லது அருண அழைக்கப்பட வேண்டும். ஆயின் இருவரும் அல்ல.
- ◆ அருண அல்லது திஸ்ஸ இருவரையும் அழைக்க முடியாது.

16. கீழே தரப்பட்டுள்ளவற்றில் அழைக்கப்படக்கூடியவாறான ஏற்றுக் கொள்ளக்கூடிய குழு எது?

- (a) சரத், ரஞ்சன் மற்றும் செல்டன்.
- (b) விமல், அருண மற்றும் திஸ்ஸ ✗
- (c) ரஞ்சன், திலக் மற்றும் அருண ✗
- (d) விமல், செல்டன் மற்றும் அருண

17. செல்டன் மற்றும் திஸ்ஸ ஆகிய இருவரும் அழைக்கப்பட்டால் பின்வருவனவற்றில் எது சரியானதாகும்?

- (a) விமல் அழைக்கப்பட வேண்டும்
- (b) அருண அழைக்கப்பட வேண்டும்
- (c) திலக் அழைக்கப்பட வேண்டும்
- (d) சரத் அழைக்கப்பட முடியாது

18. செல்டன் மற்றும் திலக் ஆகிய இருவரும் அழைக்கப்பட்டால் பின்வருவனவற்றில் எது தவறானதாகும்?

- (a) திஸ்ஸ அழைக்கப்பட்டுள்ளார்
- (b) விமல் அழைக்கப்பட்டுள்ளார்
- (c) சரத் அழைக்கப்பட்டுள்ளார்
- (d) அருண அழைக்கப்படவில்லை

வினாக்கள் 19 - 22

10. சொற் கூட்டங்கள் உண்டு இவற்றுள் 6, இலக்கங்கள் ஆகும் அவை 1,2,3,4,5, மற்றும் 6 ஆகியன. நான்கு A, B, C மற்றும் D ஆகிய எழுத்துக்களாகும். இவை அனைத்தும் ஒரு நிரலில் அட்டவணைப்படுத்தப்பட்டுள்ளன.

- ◆ இலக்கங்கள் அனைத்தும், அதே வரிசையில் இல்லை, ஆயின் எழுத்துக்கள் அகரவரிசையில், இடம் இருந்து வலமாக உள்ளது
- ◆ இரு எழுத்துக்கள் அடுத்து அடுத்து அமைந்திருக்கவில்லை
- ◆ முதல் 2 சொற் கூட்டங்களும் முறையே 4 மற்றும் 6 ஆகும்
- ◆ D, 1 மற்றும் 3 ற்கும் இடையிலும் அவை ஒவ்வொன்றுக்கும் அடுத்து அமைந்துள்ளது
- ◆ 2, B மற்றும் C ற்கும் இடையில் அமைந்துள்ளது.

1 2 3 4 5 6
6
A B C D
A B C D

TLC College offers LLB Entrance Exam classes in Tamil medium.

98/112

For details, contact 0772624039 or message on WhatsApp at the same number. Visit collegeoftlc.com for more information

19. 3 இறுதி இலக்கமாக வரின்,
 (a) B, 1 ற்கு அடுத்து அமைந்துள்ளது
 (b) C, 2 மற்றும் 3 ற்கும் இடையிலும் அவை ஒவ்வொன்றிற்கும் அடுத்து அமைந்துள்ளது
 (c) D, 4 ற்கு அடுத்துள்ளது
 (d) C, 1 ற்கு அடுத்துள்ளது
20. B ற்கு அடுத்து வரும் இலக்கங்கள் ஒவ்வொன்றையும் கூட்டினால் அவற்றின் மொத்தம்
 (a) 6 (b) 4 (c) 10 (d) 7
21. கீழே தரப்பட்ட கூற்றில் சரியானது?
 I A, 6 ற்கு அடுத்துள்ளது ஆயின் 3 ற்கு அடுத்து அல்ல
 II 5, A ற்கு அடுத்துள்ளது ஆயின் C ற்கு அடுத்து அல்ல
 (a) I வது மாத்திரம் (b) II வது மாத்திரம் (c) I வதும் II வதும்
 (b) (d) I வதும் அல்ல II வதும் அல்ல
22. அட்டவணையில் நடுப்புள்ளிக்கு மிகவும் அண்மித்த எழுத்து.
 (a) A (b) B (c) C (d) D
23. இங்கிலாந்து, ஸ்கொட்லாந்து மற்றும் வேல்ஸினை சார்ந்த மூன்று குழுக்குள் இரண்டு போட்டிகளில் மோதுகின்றன. அவையாவன கோல்ப் மற்றும் டெனிஸ் ஆகும். இரு போட்டிகளில் இருந்து வரக்கூடிய சாத்தியமான வேறுபட்ட வெளிப்பாடுகள் எத்தனை?
 (a) 6 (b) 8 (c) 9 (d) 12
24. ஒரு விவசாயியிடம் ஒரு தொகையான மாடுகளும் கோழிகளும் உள்ளன. குறிப்பிட்ட ஒரு நாளில் மிருகங்கள் 172 கண்களையும் 344 முட்டைகளையும் கொண்டிருந்தன. உற்பித்த அந்த நாளில் பண்ணையில் எத்தனை கோழிகள் இருந்தன?
 (a) 56 (b) 46 (c) 36 (d) 0
25. எனது பின்னூரித்தாளருடைய தந்தை என்னுடைய தந்தையின் மகன் ஆவார். எனக்கு சகோதரர்களோ மகன்மார்களோ கிடையாது. என்னுடைய பின்னூரித்தாளர் யார்?
 (a) மருமகன் (b) மருமகள் (c) மகள் (d) நான்
26. ஒரு தொட்டி 4 குழாய்களை கொண்டிருந்தது. முதல் குழாய் தொட்டியை நிரப்ப இரண்டு நாட்கள் எடுக்கும். இரண்டாவது குழாய் 3 நாட்களும், மூன்றாவது குழாய் நான்கு நாட்களும், இறுதி குழாய் 6 மணித்தியாலங்களும் எடுக்கும். நான்கு குழாய்களையும் பயன்படுத்தி குறிப்பிட்ட தொட்டியை நிரப்ப எத்தனை நாட்கள் தேவைப்படும்.

- (a) 1 ½ நாட்கள்
 (b) 4 மணித்தியாலங்களும் 43 நிமிடங்களும்
 (c) 8 மணித்தியாலங்களும் 35 நிமிடங்களும்
 (d) 6 மணித்தியாலங்களும் 48 நிமிடங்களும்

27. நண்பர்கள் அடங்கிய குழு ஒன்று ஒரு நாள் இரவுச் சாப்பாட்டிற்காக உணவகம் ஒன்றிற்கு சென்றது. இரவு சாப்பாட்டிற்காக செலுத்த வேண்டிய தொகை ரூபா 4800/- குறிப்பிட்ட தொகையை தம்மிடையே சமமாக பங்கிட அவர்கள் தீர்மானித்தனர். எவ்வாறாயினும் இருவரிடம் பணம் இருக்கவில்லை. ஆகவே ஏனைய ஒவ்வொரு நண்பரும் மேலதிகமாக ரூபா 200/- ரை பங்களிக்க தீர்மானித்தனர். குறிப்பிட்ட குழுவில் இருந்த நண்பர்களின் எண்ணிக்கை யாது?

- (a) 10 (b) 12 (c) 8 (d) 6

28. இரண்டு நிலையங்களுக்கிடையிலான தூரம் 50 மீற்றர் ஆகும். ஒரு புகையிரத வண்டி மணித்தியாலத்திற்கு 48 kmph வேகத்தில் பயணம் செய்கின்றது. குறிப்பிட்ட புகைவண்டி ஒரு நிமிடத்தில் எத்தனை நிலையங்களை கடந்து செல்லும்?

- (a) 17 (b) 19 (c) 16 (d) 14

29. தந்தை ஒருவருடைய தற்போதைய வயது அவருடைய மகனுடைய வயதில் மூன்று மடங்காகும். ஐந்து வருடங்களுக்கு முன்பு அவர் தன்னுடைய மகனுடைய வயதில் இருந்து நான்கு மடங்கு மூத்தவராவார். மகனுடைய தற்போதைய வயது என்ன?

- (a) 12 (b) 15 (c) 18 (d) 20

30. இரு நபர்கள் மணித்தியாலத்திற்கு 5 k.m வேகத்தில் எதிர்எதிர் திசையில் நடந்து செல்கின்றனர். அவர்கள் ஒருவரில் இருந்து ஒருவர் 4 k.m தூர இடைவெளியில் இருக்கின்ற போது இலையான் ஒன்று முதல் நபரை அணுகி மீண்டும் அடுத்த நபரிடத்திற்கு மணித்தியாலத்திற்கு 7 k.m வேகத்தில் பறந்து செல்கின்றது. இலையான் முழுமையாக எவ்வளவு தூரம் பறந்தது?

- (a) 12 k.m. (b) 14 k.m. (c) 8 k.m. (d) 10 k.m.

31. 5862 ற்கு 714
 3498 ற்கு 1113
 9516 ற்கு 156
 8257 ற்கு ?

- (a) 139 (b) 1421 (c) 157 (d) 512

32. 94, 166, 258, 3616, ?

- (a) 1026 (b) 1644 (c) 4912 (d) 5624

33. 41, 37, 46, 30, 55, 19, ?
 (a) 68 (b) 47 (c) 5 (d) 82
34. 720, 360, ? 30, 6, 1
^{2, 2, 2, 2, 2}
 (a) 40 (b) 120 (c) 180 (d) 240
35. 97, 63, 18, ?
 (a) 22 (b) 36 (c) 8 (d) 13
36. 86, 72, 63, 54, 45, ?
^{14, 9, 9}
 (a) 39 (b) 42 (c) 36 (d) 21
37. 9678 அல்லது 4572 அல்லது 3572 அல்லது 5261 இல் எது ஒற்றை இலக்கம்?
⁴⁵⁷²
 (a) 9678 (b) 3572 (c) 4572 (d) 5261
38. A, I, P, V, A, E, ?
 (a) F (b) G (c) H (d) J
39. ACE, FHJ, KMO, PRT, ?
 (a) UXZ (b) RTU (c) UWY (d) ZBG
40. ADH, MPT, YBF, ?
 (a) DHK (b) KNR (c) YAF (d) ZAD

(தொடர்ச்சி வினாத்தாள் II - பொது அறிவு)

வினாத்தாள் II - பொது அறிவு

இவ்வினாத்தாளிற்கு வழங்கப்படும் புள்ளிகள் 100

40 வினாக்களுக்கும் விடை தருக.

1. 2011ம் ஆண்டு ஒக்டோபர் மாதம் கொலை செய்யப்பட்ட காலத்தின்போது விபிபி படைத் தலைவர் மஹாம்மூர் கடாபியுடைய சொந்த கிராமத்தின் பெயரை குறிப்பிடுக?
.....*QZR Abu Madi*.....
2. அவுஸ்திரேலியாவின் பிரதம மந்திரி யார்?.....*Scott Morrison*.....
3. பெண்கள் உரிமைகளுக்காக போராடிய மூன்று பெண்களுக்கு சமாதானத்திற்கான நோபல் பரிசு 2011ம் ஆண்டு வழங்கப்பட்டது. திருவள்ளூர் தேசியத்தை கொண்டவர்கள் மூன்றாவது பெண்ணுடைய தேசியம் என்ன?
.....*Republic yemen*.....
4. இலங்கையில் மிக நீளமான புகையிரத சுரங்கம் எது?.....*Singha malai tunnel*.....
5. ஜப்பானியர்களால் தமது நாட்டை குறிப்பிட பயன்படுத்தப்படும் சொந்த பெயர் என்ன?
.....*Nippon*.....
6. ஆபிரிக்க கண்டத்தில் அதி உயரமான மலை எந்த நாட்டில் அமைந்துள்ளது?
.....*Tanzania*.....
7. கரையோர கரபந்து குழுவில் இருக்கக் கூடிய வீரர்கள் யாருள் சண்ணிக்கையாது?.....*O2 players*.....
8. நியூயோக்கில் அமைந்துள்ள நிதி மாவட்டம்(Financial District) தற்போது எந்த பெயரால் அழைக்கப்படுகின்றது?.....*Fidly Lower*.....
9. நகைச்சுவை திரைப்படங்களில் திரு. பீன் பாத்தீரத்தில் நடத்துபவர்களை நடிகர் பெயர் என்ன?.....*Rohan Adkins*.....

10. 2011ம் ஆண்டு ஆஸ்கார் திரைப்பட விழாவில் சிறந்த திரைப்படம் என தீர்மானிக்கப்பட்ட திரைப்படம் என்ன? *The Fighter*
11. சமுத்திரத்தின் ஆழத்தினை அளவிட பயன்படுத்தப்படும் கருவி எது? *Depth Finder* சுழலாலை *Sonar*
12. நோபல் பரிசை உருவாக்கியமைக்கு மேலதிகமாக எல்பிரட் நோபல், கண்டுபிடிப்பு செய்த பரிசுத்தி பெற்றவர் ஆவர். அந்த கண்டுபிடிப்பின் பெயரை குறிப்பிடுக. *நடனாவல்*
13. டிஜிட்டல் படப்பிடிப்பு கருவியை கண்டு பிடித்தவர் யார்? *ஸ்டீவன் சாசன்* *Steven S. Sassen*
14. 1802ம் ஆண்டு இலங்கையில் இருந்த டச்சு உடமைகள் விதிமுறையாக ஆங்கிலேயருக்கு எந்த உடன்படிக்கையின் கீழ் ஒப்படைக்கப்பட்டது? *Treaty of Amiens*
15. இலங்கையில் ஆங்கிலேயர் ஆட்சி காலத்தில் கண்டிய மாகாணங்களில் ராஜகாரிய முறைமை அல்லது கட்டாய தனிப்பட்ட சேவையை இல்லாமல் ஆக்கும் பிரேரணையை சிபார்சு செய்த ஆணைக்குமுவின பெயரை குறிப்பிடுக. *சீலாபுத்திர காமன் சீலாபுத்திர*
16. இலங்கை குடியரசு ஒன்றாக வந்த வருடம், திகதி மற்றும் மாதத்தை குறிப்பிடுக. *1972 May 22*
17. 2011ம் ஆண்டு ஐக்கிய அமெரிக்காவின் பெண்ணொருவரை பாலியல் வல்லுறவுக்கு உட்படுத்திய குற்றச்சாட்டின் பேரில் கைது செய்யப்பட்ட சர்வதேச நாணய நிதியத்தின் தலைமைத்துவ இயக்குனரின் பெயர் என்ன? *Dominique Strauss Kahn*
18. இந்த அபிவிருத்தி வங்கியின் தலைமைக் காரியாலயம் எங்கு அமைந்துள்ளது? *லண்டன்* *லிம்பெசுல்*
19. டெல்கோவிய் சிறுவர் தினம் வருடத்தில் எந்த நாளில் கொண்டாடப்படுகிறது? *20 November*
20. "ஊர் போட்டர்" எனப்படும் பிரசித்திபெற்ற புனைக்கதையின் எழுத்தாளர் யார்? *ஜே. கே. ரொலிங்*

21. "Facebook" எனப்படும் சமூக வலைப்பின்னல் தளத்தினை கண்டுபிடித்தவர் யார்?
..... டேவ் சாக்ஸ்பெக்
22. இலங்கையில், எத்தனை அரசு நிறுவனங்கள் சட்டக்கல்வியை வழங்கிவருகின்றன?
..... 8.5
23. உடம்பில் இரத்தம் உறைதலை ஏற்படுத்தும் நோயின் பெயரை குறிப்பிடுக.
..... டிப். மெய்ன் திரைப்போலிஸ்
24. 1972ம் ஆண்டு தொடக்கம் 1977ம் ஆண்டு வரை செயற்பட்ட தேசிய அரசு பேரவையின் முதல் சபாநாயகர் யார்? Stanley, thakaratne
25. "ஒரு பாடசாலை கதவை யார் ஒருவர் திறக்கின்றாரோ, அவர் ஒரு சிறைச்சாலையை மூடுவார்" என்ற கூற்றை குறிப்பிட்டவர் யார்? Victor Hugo
26. 2011ம் ஆண்டு மார்ச் மாதம் 11ம் திகதி பூமி அதிர்ச்சி மற்றும் சுனாமியல் ஐப்பானில் பாரதூரமாக பாதிக்கப்பட்ட நகரத்தின் பெயரை குறிப்பிடுக.
..... Hakkaido
27. இலங்கையில் எத்தனையாம் ஆண்டு 18 வயது பூர்த்தி செய்தவர்களுக்கு வாக்குரிமை அளிக்கப்பட்டது?
..... 1
28. 1982ம் ஆண்டு பந்துல வர்ணபுரவின் தலைமையில் கீழ் தென்னாபிரிக்காவுக்கு பிரவேசித்த இலங்கை ஆர்ப்பாட்ட குழுவிற்கு உட்கட்டப்பட்ட பெயர் என்ன?
..... 1
29. NATO (வட அத்திலாந்திக் சமவாய அமைப்பு) எத்தனையாம் ஆண்டு உருவாக்கப்பட்டது? 19.4.1949
30. கி.பி 103ல் இருந்து கி.பி 83 வரையிலான காலப்பகுதியில் வலகம்ப மன்னனுடைய ஆட்சியின் போது நாட்டை பாதித்த கடும் வறட்சி அல்லது பஞ்சத்திற்கு வழங்கப்பட்ட பெயர் என்ன? Reminittiya, seya
31. யாழ்ப்பாணத்தில் தொல்பொருளியல் ஆய்வில் கண்டுபிடிக்கப்பட்ட திடத்தில் ஒன்றுக்கு ஒன்று அருகாமையில், ஒரு தொகையான சிறு தூபிகள் (dagabos) அமைந்துள்ள கிராமத்தின் பெயரை குறிப்பிடுக. சுந்திரோண்ட

32. 1969ம் ஆண்டு யூலை 21ம் திகதி அமெரிக்க ஐனாதிபதி ஒருவருடைய ஆட்சியின் போது, அப்பலோ 11வது மிஷன் வெற்றிகரமாக ஒரு மனிதனை சந்திரனில் கால் பதிக்க வைத்தது. அந்த அமெரிக்க ஐனாதிபதியின் பெயரைக் குறிப்பிடுக.
..... John F. Kennedy
33. எதிர் காலத்தில் நடைபெறுவதைக் எதிர்வுசூறும் ஆற்றல் படைத்த 16ம் நூற்றாண்டில் பிரசித்தி பெற்ற பிரான்சை சேர்ந்த சோதிட நிபுணரின் பெயரைக் குறிப்பிடுக.
..... nichel de Nostradamus
34. இந்திய மதத்தில் கணேஷ் கடவுளின் வாகனம் என கருதப்படும் மிருகத்தின் பெயரை குறிப்பிடுக.
..... எலி
35. டான் ஈரணியர் இயக்கத்தினை உருவாக்கியவர் யார்? பெயரை யார்?
36. "The Prince" என்ற பிரசித்தி பெற்ற அரசியல் ஒப்பந்தத்தை எழுதியவர் யார்?
37. எலக்கல் ஐக்கனாடைய இறப்பிற்கு அமெரிக்க நீதிமன்றினால் பொறுப்பாளியாக்கப்பட்ட எலத்தியரின் பெயரை குறிப்பிடுக.
..... California Murray
38. 15ம் என்ற அராபிய இலக்கத்தை உரோமன் இலக்கத்தில் எவ்வாறு எழுதுவர்?
39. 15 நிமிஷம் பூமியை அடைவதற்கு எத்தனை செக்கன்களை எடுக்கின்றன?
..... 8 minutes 20 seconds
40. தென்னாபிரிக்காவில் பயன்படுத்தப்படும் நாணயத்தின் பெயரை குறிப்பிடுக.
..... South African Rand

Continued Paper III (English & Sinhala /Tamil Language)

Paper III – English and Sinhala / Tamil Language Paper

Answer both Section A and B

SECTION A: ENGLISH LANGUAGE

Read the following passage and answer ALL the questions given below

Lawyers are considered to be members of a group of occupations known as professions: Occupations that have been given special status have been in existence since the Roman Empire, but the term 'profession' and the distinctive features associated with it, date back to the sixteenth century. According to the *Oxford Dictionary* 'profession' comes from the Latin *profesionem* which means making a public declaration, which came to mean taking a vow or oath, on entering a learned occupation. We frequently associate professional groups with notions of expertise, status and power. A good example was the action of the American Psychiatric Associations in 1974, when by a majority vote in their convention they decided that homosexuality was no longer an illness. This shows the great power that professional organizations have in defining our social reality. The fact that certain occupational groups have such enormous power over their areas of expertise is a cause for concern. We immediately should ask - how did these groups amass this power? What kind of controls does the public have in the exercise of this power?

There is an assumption in our society that lawyers are professionals. Such an assumption avoids the question of why lawyers may legitimately call themselves professionals. When we think of the traditional professions, lawyers and doctors immediately come to mind. In medieval times being a priest or a soldier would have been considered a profession but few would think of them as such today.

During the fourteenth century, surgeons who have high status today, came after the barbers in the guild parades, which reflected their relative status. For centuries the clergy and the military were considered professions and suitable occupations for the children of the upper class. Today we do not think of the clergy, nor the military, as professionals. There is therefore historical evidence of the rise and fall of the status of occupations. So how did the present professionals obtain their status and extraordinary powers over the area of their expertise?

The modern legal profession finds its historical origin within the church. For hundreds of years the role of education was tied to ecclesiastical functions. The main source and disseminators of knowledge were the priests. Lawyers, like priests were among the few groups in medieval society who had the ability to read and write. Since few had these skills, lawyers became an important reservoir for the accumulation of knowledge. The transmission of this knowledge was limited. It took centuries after the invention of the printing press by

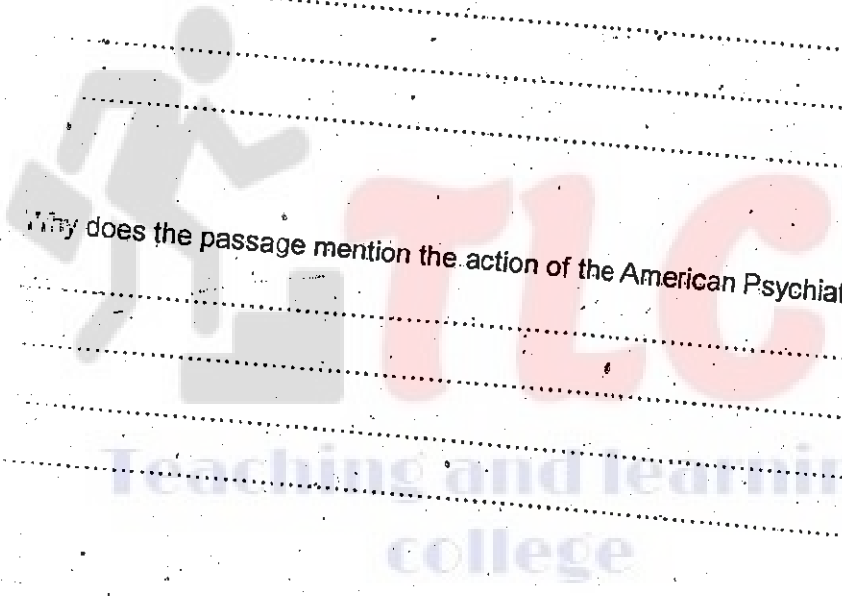
Gutenberg in the fifteenth century, for printed information to become readily available to the masses. The identification with the clergy was clearly recognized by Voltaire, the famous eighteenth-century French philosopher, poet and dramatist, who said: "la loi, n'est pas une profession, c'est un sacerdoce" - the law is not a profession, it is a priesthood.

1. What is the passage about?

2. According to the Oxford dictionary what is the chief feature of a 'profession'?

3. Why does the passage mention the action of the American Psychiatric society?

4. What particular areas should we be concerned about in relation to professional organizations?



5. What is the assumption that the writer speaks about? What is problematic about this assumption?

.....

.....

.....

.....

6. According to the author what can happen to certain professions with the passing of time? What professions does he cite as examples?

.....

.....

.....

7. What was the similarity between lawyers and priests in medieval times?

.....

.....

.....

8. Why was the invention of the printing press an important invention?

.....

.....

.....

Continued.. (Section B – Sinhala / Tamil Language Paper)

SECTION B - SINHALA / TAMIL LANGUAGE

SELECT EITHER PART (I) OR PART (II)

Part 1 - தமிழ் மொழி

கீழே தரப்பட்டுள்ள பந்தியை வாசித்து அதில் தரப்பட்டுள்ள தகவல்களை அடிப்படையாக கொண்டு கேட்கப்பட்டுள்ள விடை அளிக்க.

மனித உரிமைகள் கருத்தேற்பின் முக்கியமான அடிப்படை அம்சம், அனைத்து ஆட்களும் சட்டத்தின் முன் சமமாக நடாத்தப்பட வேண்டும் என்பதாக அமைகிறது. அதே போன்று சட்டத்தை அமுல் படுத்தும் நிறுவனம் என்ற அடிப்படையில் நீதித் துறை சுதந்திரமான அமைப்பொன்றாக இருப்பதுடன், மக்களுடைய உரிமைகளை பாதுகாக்கும் அத்தியாவசிய நிறுவனம் என்ற வகையில் நீதிமன்ற செயற்பாடுகளை பக்கச்சார்பின்றி செயற்படுத்த வேண்டும்.

ஆட்களுடைய தனிப்பட்ட அபிவிருத்தியின் பொருட்டு தேவைப்படுகின்ற பொருளாதார மற்றும் சமூக அந்தஸ்து என்பவற்றை போதுமான அளவில் பெற்றுக்கொள்ளக் கூடிய வகையில் ஆள்சார் சுதந்திரம் உறுதிப்படுத்தப்பட வேண்டும் என்பதை சமத்துவம் எனக் குறிப்பிடலாம். இன்னும் ஒருவகையில் குறிப்பிடுவதாக இருந்தால் சமத்துவம் என்பது சமூகத்தில் வேருன்றிப்போன அநீதிகளையும் சமத்துவமின்மைகளையும் இல்லாமல் ஆக்குவதன் மூலம் சமூகத்தின் அனைவரும் நியாயமான பொருளாதார மற்றும் சமூக அந்தஸ்துகளை பெற்றுத் தரும்பொருட்டு ஆள்சார் சுதந்திரம் சிற்சில மட்டுப்பாடுகளுக்கு அமைய தக்க வைத்துக்கொள்ளப்படுகின்றது எனலாம். இங்கு சமூகத்தில் குறிப்பிட்ட சில வர்க்கத்தினருக்கு சில வழிகளில் நியாயமற்ற சூழ்நிலைகள் ஏற்படுவதை தவிர்க்க முடியாத போதிலும் அவ்வாறான செயற்பாடுகளின் மூலம் சமூக நலனை நோக்காக கொள்வதால் அது சுதந்திரம் என்ற கருத்தேற்பிற்கு எவ்வித பாதிப்பையும் ஏற்படுத்தாது. அவ்வகையில் சுதந்திரம் மற்றும் சமத்துவம் ஆகிய இரண்டும் ஒன்றிற்கொன்று அனுசரணையாக செயற்படுகின்றதென குறிப்பிடலாம். சமத்துவம் அற்ற சமூகத்தில் சுதந்திரம் என்பதை தக்க வைத்துக்கொள்ள இயலாது. அதேபோல சுதந்திரம் அற்ற சமூகம் ஒன்றில் சமத்துவம் ஒன்று உருவாக முடியாது.

ஏதேனும் சமூகம் ஒன்றில் ஒரு நபர் அல்லது ஆட்களைக்கொண்ட குழு ஒன்றிற்கு ஏனைய நபர்களுக்கு உரித்தற்ற உரிமைகளையோ அல்லது சிறப்புரிமைகளையோ அனுபவிக்க சந்தர்ப்பம் இல்லாத சூழ்நிலை ஒன்றில் சமத்துவம் என்பது உறுதிப்படுத்தப்படுகின்றது. சமூகம் ஒன்றில் அரசியல் அல்லது பொருளாதார சக்திவாய்ந்த உயர் மட்ட ஆட்கள் தொடக்கம் கீழ் மட்ட அங்கத்தினர் வரை அனைவரும், அனைவருக்கும் உரித்தான உரிமைகளையும் சிறப்புரிமைகளையும் பெற்றுத் தருதல் அரசொன்றின் கடப்பாடாகும்.

ஹரல். ஜே. லெஸ்கி என்பவர் சமத்துவத்தின் மூன்று பிரதான அடிப்படை, பண்புகளை இவ்வாறு எடுத்துக்காட்டியுள்ளார்.

- (அ) அரசியல் அதிகாரத்தை செயல்படுத்த சமூகத்தில் அனைவருக்கும் சம அந்தஸ்து இருத்தல் வேண்டும். இதற்கமைய ஆட்களுக்கிடையில் எந்தவொரு வகையிலும் விசேட அல்லது விசேட, சலுகை அடிப்படையில் சிறப்புரிமைகள் இருத்தல் கூடாது.
- (ஆ) சமூகத்தில் அனைவரும் சம உரிமையை பெற்றுக்கொள்ளக்கூடியதாக இருத்தல் வேண்டும். தனித்துவத்தை விருத்தி செய்ய, சமூக அந்தஸ்து ஒன்றைப் பெற்றுக்கொள்ள, கல்வியை பெற்றுக்கொள்ள மற்றும் திறமை அடிப்படையில் அவர்களுக்கு உரித்தான சிறப்புரிமைகளை பெற்றுக்கொள்ள சம, உரிமை இருத்தல் வேண்டும்.
- (இ) பொருளாதார உரிமைகளை பெற்றுக்கொள்வதில் சம வாய்ப்புக்கள் இருத்தல் அவசியமாகும். பொருளாதார வேறுபாடுகளின் காரணமாக சமூகத்தில் சமத்துவம் சீர் குலையுமென ஹரல். ஜே. லெஸ்கி குறிப்பிட்டு காட்டியுள்ளார். பொருளாதார உரிமைகளை பெற்றுக்கொள்வதில் அரசியல் செல்வாக்கு அல்லது வேறு வழிகளிலான அவதானம் அற்ற போக்கு அபிவிருத்தி அடைந்த சமூகமொன்றில் நிலவக்கூடாது என்பதையும் ஆட்களுடைய தனிப்பட்ட திறமை மற்றும் ஆற்றல் என்பவற்றை அடிப்படையாகக் கொண்ட பொருளாதார சதத்தீர்ம் நிலவ வேண்டும் என்பது இதன் கருத்தாகும்.

சோஷலிச நாடுகளில் பொருளாதார முறைமையின் கீழ் அனைத்து சேத்துக்களும் அரசு உடமைகள் ஆக்கப்பட வேண்டும் என்ற உடன்பாட்டின் பேரில் ஆட்சி முறைமை ஒன்று நிலைத்திருத்தல் வேண்டும் எனக் குறிப்பிடப்படுகின்ற போதிலும், தீவிர நலமைமையில் உலகத்தில் அத்தகைய முறைமை சீர் குலைந்துள்ளது. ஜிநாயக அரசியல் நிலைமை நிலவுகின்ற சூழ்நிலைகளின் கீழ் இருக்கக்கூடிய சதத்தீர்ம் உடாக மனித உரிமைகளை வினைத்திறனுடன் பாதுகாத்துக்கொள்ள முடியும் என்பது நடைமுறையில் உறுதிப்படுத்தப்பட்டுள்ளது.

அனைவரும் சம அடிப்படையில் உரிமைகளை அனுபவிக்கக்கூடிய சூழ்நிலைகளை ஏற்படுத்துவதன் மூலம் சமூகத்தில் வாழ்கின்ற அனைவரும் சம அந்தஸ்தை பெற்றுக்கொள்ள முடியும் என்பது பொதுவாக எற்றுக்கொள்ளப்பட்ட நிலையாகும். அவ்வகையில் இதனை நிலைநாட்டுவதற்கு அரசு தலையிடு அத்தியாவசியமானதுடன் அது நலன்புரி அரசொன்றின் முக்கியமான கடப்பாடாகும். இங்கு விசேடமாக குறிப்பிடுவதானால் கல்வி, சுகாதாரம், போக்குவரத்து ஆகிய தேவைகளை வழங்குகின்ற போது பொருளாதார, அரசியல் மற்றும் சமூக தேவைகளை பெற்றுத் தருவதுடன் சம

111

உரிமைகளை பெற்றுத் தருதலின் பொருட்டு சட்டத்தின் மூலம் நடவடிக்கைகளை மேற்கொள்ளல் அரசொன்றின் அத்தியாவசியமான கடப்பாடாகும். அவ்வாறான நடவடிக்கைகளை சட்டரீதியான கடப்பாடுகளின் மூலம் மேற்கொள்ள தவறும் போது சமத்துவம் என்பது வெறுமனே சொற்களில் குறிப்பிடுகின்ற உரிமையாக இருக்குமே தவிர நிர்வாக அதிகாரிகள் அவற்றை நடைமுறைப்படுத்துவதற்கு ஒழுக்க ரீதியான கடப்பாடுகளை மேற்கொள்ளும் சந்தர்ப்பங்கள் மிகவும் அரிது.

1. எந்த உரிமைகளை பாதுகாப்பது தொடர்பில் அத்தியாவசியமான நிபந்தனைகள் என்ன?

2. ஆள்சார் சுதந்திரத்தை மட்டுப்படுத்துவதன் மூலம் சமத்துவத்தை எவ்வாறு பெற்றுக்கொள்ளலாம்?

3. பொருளாதார அபிவிருத்தியை பெற்றுக்கொள்கின்ற போது இருக்கக்கூடிய சாதகமான மற்றும் பாதகமான நிலைமையை விளக்குக.

4. சோஷலிச, பொருளாதார முறைமையின் பண்புகள் யாவை?

(ii) எந்த அரசியல் முறைமையின் கீழ் மனித உரிமைகளை வினைத்திறன் உடன் பாதுகாக்க முடியும்?

5. சமத்துவத்தை பேணுவதற்கு அரசொன்றினால் மேற்கொள்ளப்பட வேண்டிய நடவடிக்கைகள் எவை?

6. சமத்துவத்தை உறுதிப்படுத்தும் பொருட்டு நிர்வாக அதிகாரிகளை ஊக்குவிப்பதற்கு மேற்கொள்ளப்பட வேண்டிய நடவடிக்கைகள் எவை?

.....
.....
.....

7. ஹரல். ஜே. லெஸ்கி குறிப்பிட்ட சமத்துவத்தின் மூன்று அடிப்படை பண்புகளையும் மூன்று ஒத்த சொற்களில் கீழே குறிப்பிடுக.

- (அ)
- (ஆ)
- (இ)

(பதிப்புரிமை பெற்றது)

